

معلومات منهج الجغرافيا بالكامل

- الزراعة تنقسم إلى بسيطة - و متقدمة
- الزراعة المتقدمة تنقسم إلى كثيفة - وتجارية وعلمية
- الغذاء الرئيسى لمعظم شعوب العالم القمح
- رقم (1) في القمح (الصين - الهند)
- يستخدم كغذاء للإنسان وكعلف للحيوان الذرة
- رقم (1) في الذرة أمريكا الشمالية
- المحصول الأول لإنتاج السكر قصب السكر
- يزرع قصب السكر في جميع قارات العالم ما عدا أوروبا
- رقم (1) في قصب السكر البرازيل
- المحصول الثاني لإنتاج السكر البنجر
- رقم (1) أوروبا (فرنسا)
- رقم (2) أمريكا الشمالية (الولايات المتحدة)
- مصر أكبر دولة منتجة للبنجر في قارة أفريقيا (القطن)
- 1- آسيا (ثلاثي الإنتاج) الصين - الهند
- 2- أمريكا الشمالية
- 3- أمريكا الجنوبية
- 4- أفريقيا (مصر - السودان)
- يستخرج من عصارة أشجار استوائية المطاط الطبيعي
- رقم (1) آسيا (تايلاند)
- رقم (2) أفريقيا
- موطنه الأصلي شرق آسيا الشاي
- رقم (1) الصين
- الرعي التجاري يوجد في
- الولايات المتحدة الأمريكية
- الأرجنتين
- أستراليا
- المصدر الرئيسى للحوم الحمراء في العالم الأبقار
- رقم (1) في الأبقار آسيا (الهند)
- رقم (2) أمريكا الجنوبية
- تربي من أجل لحومها وصوفها الأغنام
- رقم (1) في الأغنام الصين - الهند - أستراليا

مراجعة ليلة الامتحان

الصف الثالث الإعدادى

ثوب جغرافيا

مستر / عطا زكى شحتو

جميع تعريفات الجغرافيا

الزراعة البسيطة	نوع من الزراعة يعمل بها عدد قليل من السكان في مناطق صغيرة ومعزولة
الزراعة الكثيفة	زراعة الأرض أكثر من مرة في العالم الواحد بهدف إشباع حاجة السكان المحليين من الغذاء وعادة توجد في المناطق كثيفة السكان
الزراعة التجارية	نوع من الزراعة المتقدمة تهدف للإنتاج التجاري الضخم تستخدم فيها أحدث الآلات والطرق العلمية
الرعي البدائي	رعى يمارسه غالبا سكان المناطق الصحراوية في مساحات واسعة بقارات العالم
الرعي التجاري	رعى يعتمد على الأساليب العلمية الحديثة لإنتاج الألبان واللحوم حيث يرعى كل نوع من الحيوانات في مزارع خاصة دون الاختلاط بحيوانات أخرى
النشاط التعدين	عملية استخراج المعادن ومصادر الطاقة من فحم وبتترول وغاز طبيعي من باطن القشرة الأرضية أو بالقرب من السطح
مصادر الطاقة	القوى المحركة لحياة الإنسان في جميع المجالات وهي من الموارد الطبيعية المهمة التي لا غنى عنها في الصناعة والاستخدامات البشرية

• المنتج الحيواني الرئيسي

للحوم الحمراء

رقم (١) الصين (لحمة خنازير)

رقم (٢) الولايات المتحدة الأمريكية

• ثانى منتج حيواني رئيسي

الألبان

رقم (١) الهند

رقم (٢) الولايات المتحدة الأمريكية

• الأصواف

رقم (١) أستراليا - لوجود أغنام المارينو

الشهيرة بغزارة الصوف

رقم (٢) الصين

• الدواجن

رقم (١) الولايات المتحدة الأمريكية

رقم (٢) الصين

• الأسماك

غذاء رئيسي لكثير من سكان العالم خاصة المناطق الساحلية

الدول المنتجة

• الصين - إندونيسيا - الولايات المتحدة

الأمريكية

الدول المصدرة

• الصين - النرويج - تايلاند

نصف إنتاج العالم من الأسماك من

المياه المالحة

ثلث إنتاج العالم من الأسماك من

مزارع تربية الأسماك

تستهلك الدول المتقدمة ٨٥% من المعادن

• الحديد

رقم (١) الصين رقم (٢) أستراليا

• من الدول النامية التي تصدر خام الحديد

موريتانيا

• النحاس

رقم (١) شيلي في قارة أمريكا الجنوبية

رقم (٢) الصين

• البوكسيت

الخام الرئيسي لمعدن الألومنيوم

رقم (١) أستراليا

• الألومنيوم

رقم (١) الولايات المتحدة الأمريكية

• الفحم

عماد الثورة الصناعية في أوروبا أواخر القرن ١٨

المصدر الأول والرئيسي للطاقة

لـ حتى أوائل القرن ٢٠

الآن يستخدم في

توليد الكهرباء
ومصدر رئيسي في الصناعة بالدول الصناعية الكبرى

رقم (١) اسيا

رقم (٢) أوروبا رقم (٣) أمريكا الشمالية

دولة (١) الصين

دولة (٢) الولايات المتحدة الأمريكية

دولة (٣) الهند

• البترول

يشكل مع الغاز الطبيعي ٥٥% من الطاقة المستخدمة في العالم

رقم (١) السعودية

رقم (٢) روسيا

رقم (٣) الولايات المتحدة الأمريكية

• الغاز الطبيعي

٢٥% من مصادر الوقود في العالم

رقم (١) أوروبا

دولة (١) الولايات المتحدة الأمريكية

• الطاقة النووية

رقم (١) أوروبا

رقم (٢) أمريكا الشمالية

• طاقة الرياح

فرنسا - بريطانيا - الولايات المتحدة

الأمريكية

خمس دول عربية في طاقة الرياح أهمهم

لـ مصر والمغرب

• طاقة الأمواج وحركة المد والجزر

بريطانيا - فرنسا - اليابان

• الكهرباء الحرارية

تنتج من الفحم والبترول والغاز الطبيعي

• الكهرباء المائية (الكهرومائية)

تنتج من الأمواج والمد والجزر والسدود

قمة الأنشطة الاقتصادية

لـ النشاط الصناعي

مقومات الصناعة الطبيعية

المواد الخام - مصادر الطاقة - الموقع المتميز

مقومات الصناعة البشرية

الأيدي العاملة - رأس المال - الأسواق -

التطور العلمي - السياسات الحكومية

• الاقاليم والمراكز الصناعية في العالم

(١) - إقليم غرب ووسط أوروبا

(٢) - إقليم شمال شرق الولايات المتحدة الأمريكية

(٣) - إقليم روسيا وأوكرانيا

(٤) - إقليم شرق آسيا

(٥) - مراكز صناعية حديثة

٤. يزرع قصب السكر في كل قارات العالم ما
أوروبا
لأنه يزرع في المناطق المدارية الحارة
حيث يحتاج درجة حرارة مرتفعة ومياه
وفيرة أما قارة أوروبا تقع في المنطقة
المعتدلة
٥. يعد القطن المصري والسوداني من أجود الأنواع
لأن معظمه من الأنواع طويلة التيلة
٦. تتركز زراعة البنجر في دول أوروبا وأمريكا
الشمالية
بسبب توافر شروط زراعته من مناخ وتربة
زراعية
٧. تعد الصين أولى الدول المنتجة للنبشاي
٨. تتركز زراعة الشاي في دول شرق آسيا
بسبب توافر شروط زراعته من
تربة خصبة خفيفة - وهواء رطب - ومناخ
حار - وأمطار غزيرة
٩. سهول استخدام الآلات والطرق العلمية في
الزراعة التجارية
لأنها تتم في مزارع واسعة فيسهل
استخدام أحدث الآلات والطرق العلمية
الحديثة
١٠. قلة التكاليف وقلة العمالة في الزراعة التجارية
والعلمية
لأنه يستخدم فيها أحدث الآلات الزراعية
والطرق العلمية الحديثة
١١. أهمية الثروة الحيوانية في العالم
لأنها المصدر الرئيسي لإنتاج اللحوم
والألبان والجلود والصوف وغيرها
١٢. انخفاض أعداد العاملين بالرعي البدائي بقارة آسيا
لأنه في (شبه الجزيرة العربية - وبادية الشام)
بسبب توطين البدو لتدفق البترول
لأنه في (دول وسط آسيا)
بسبب انتشار التعليم بين القبائل وتغير
نشاطهم للعمل بالصناعة والزراعة
والخدمات
١٣. يسود الرعي التجاري في الولايات المتحدة
الأمريكية والارجنتين وأستراليا
بسبب توافر الحشائش (الاستبس
والسافانا) والإعتماد على الأساليب
العلمية الحديثة

- إقليم غرب ووسط أوروبا
أهم المراكز الصناعية
لأنه (بريطانيا - فرنسا - ألمانيا)
- إقليم شمال شرق الولايات المتحدة الأمريكية
لأنه أكبر الأقاليم الصناعية في العالم
الجديد
- إقليم روسيا وأوكرانيا
أهم المراكز الصناعية
لأنه (إقليم موسكو وما حولها - إقليم
الأورال)
لأنه يبدو في شكل مناطق متباعدة
- إقليم شرق آسيا
أهم المراكز الصناعية
لأنه جزيرة هونشو باليابان - جمهورية
كوريا - مناطق عديدة بالصين
- مراكز صناعية حديثة
أفريقيا
لأنه (مصر - جنوب أفريقيا)
الأوقيانوسية
- لأنه (أستراليا)
أمريكا الشمالية
لأنه (كندا - والمكسيك)
أمريكا الجنوبية
لأنه (البرازيل - الأرجنتين - شيلي)
آسيا
لأنه (دول الخليج) صناعات بترولية
لأنه (دول جنوب شرق القارة) ماليزيا -
سنغافورة - إندونيسيا - تايلاند

بم تفسر على الوحدة الأولى

١. يعد النشاط الزراعي من الأنشطة الأساسية؟
لأنه - مصدر رئيسي لغذاء الإنسان
لأنه مصدر مهم للمواد الخام الزراعية اللازمة
لبعض الصناعات
لأنه يرتبط به تربية الحيوان
٢. تزرع الأرض أكثر من مرة في العام الواحد في
مناطق الزراعة الكثيفة
لأنه بهدف إشباع حاجة السكان المحليين
من الغذاء
٣. تحتاج الزراعة الكثيفة إلى أيدي عاملة كثيرة
لأنها تتم من خلال عمليات عديدة مثل بذر
الحبوب والرعي وتنقية الحشائش



١٤. يعد الرعى التجاري هو المصدر الرئيسي للحوم والألبان في العالم
 - بسبب اعتماده على الأساليب العلمية الحديثة لإنتاج اللحوم والألبان حيث يرعى كل نوع من الحيوانات في مزارع خاصة دون الاختلاط بحيوانات أخرى
١٥. تحتل الصين والهند وأستراليا المركز الأول لتربية الأغنام
 - بسبب توافر الحشائش حيث المراعى التجارية الواسعة
١٦. زيادة معدل الاستهلاك العالمي من اللحوم الحمراء
 - بسبب ارتفاع مستوى المعيشة في كثير من دول العالم
١٧. تعتبر أستراليا أولى دول العالم في إنتاج الصوف
 - لأنها تربي أغنام المارينو الشهيرة بغزارة الصوف
١٨. تعد الصين أولى دول العالم المنتجة للأسماك
 - لأنها تمتلك مصايد على طول سواحل المحيط الهادي والأنهار والبحيرات ومزارع تربية الأسماك
١٩. تعد إندونيسيا والولايات المتحدة الأمريكية من أهم الدول المنتجة للأسماك في العالم
 - بسبب طول السواحل على البحار والمحيطات وتقدم وسائل الصيد
٢٠. قيام بعض الدول بصيد الحيتان
 - للاستفادة من لحومها وشحومها
٢١. أنتشار مصايد الأسماك على سواحل غرب أوروبا
 بسبب توافر العوامل الطبيعية والبشرية التي تساعد على تطور حرفة الصيد وتربية الأسماك
 - ضحالة المياه الساحلية وغناها بالمواد الغذائية
 - التقاء التيارات البحرية الدافئة مع الباردة
 - توافر الموانئ لرسو سفن الصيد
 - توافر الخبرات الفنية والعلمية في صناعة المراكب وأدوات الصيد والثلاجات
 - التوسع في تربية الأسماك على أسس علمية حديثة
٢٢. توطن صناعة الألومنيوم في الدول المتقدمة
 ٢٣. تعد الولايات المتحدة الأمريكية من أكبر الدول المصنعة للألومنيوم
 - بسبب توافر المقومات اللازمة لصناعة الألومنيوم من

- وفرة الطاقة الكهربائية
 - وخبرة علمية وفنية متطورة
 - سوق محلية وخارجية تستوعب الإنتاج
٢٤. تصدير معظم الدول النامية لخام البوكسيت
 - بسبب عدم توافر المقومات اللازمة لصناعة الألومنيوم من
 - وفرة الطاقة الكهربائية
 - وخبرة علمية وفنية متطورة
 - وسوق محلية وخارجية تستوعب الإنتاج
٢٥. أهمية معدن الحديد
 - يدخل في العديد من الصناعات مثل صناعة الحديد والصلب
٢٦. أهمية معدن النحاس
 - يستخدم في الكثر من الصناعات مثل الأسلاك والأدوات الكهربائية
٢٧. أهمية خام البوكسيت
 - الخام الرئيسي لمعدن الألومنيوم
٢٨. التوسع في استخدام الغاز الطبيعي كمصدر للطاقة
 - لأنه - من مصادر الطاقة الأقل تلويثاً للبيئة ورخيص الثمن - وسهل النقل
٢٩. للفحم أهمية كبيرة منذ القرن ١٨ وحتى الآن
 - لأنه في أواخر القرن ١٨ كان عماد الثورة الصناعية في أوروبا والمصدر الرئيسي للطاقة في العالم حتى أوائل القرن ٢٠
 - في الوقت الحالي يستخدم كمصدر رئيسي في الصناعة بالدول الصناعية الكبرى وتوليد الكهرباء الحرارية
٣٠. يعد البترول أهم مصادر الطاقة في العالم
 - بسبب ارتباطه بالتنمية الاقتصادية والاجتماعية والعلاقات السياسية
٣١. أسعار البترول في زيادة مستمرة
 - بسبب زيادة الطلب عليه وتعدد استخداماته
٣٢. تطور الصناعة تطوراً مذهلاً في الدول المتقدمة
 - لأن الدول المتقدمة هي التي تأخذ بالأساليب العلمية
 - وتطبق الأبحاث والتجارب في الاختراع وتطوير وتحديث المنتجات الصناعية بشكل مستمر



دليل

(1) توجد عدة عمليات تسبق عملية التعدين

حيث البحث والكشف عن الخامات وإعداد المنجم مثل

- مد الخطوط الحديدية والطرق
- وإنشاء مساكن للعاملين

(2) للفحم أهمية كبيرة منذ أواخر ق ١٨ حتى الآن

حيث أواخر القرن ١٨

- كان عماد الثورة الصناعية في أوروبا
- والمصدر الرئيسي للطاقة حتى أوائل القرن ٢٠

في الوقت الحالي

- يستخدم كمصدر رئيسي في الصناعة بالدول الصناعية الكبرى وفي توليد الكهرباء

(3) توسع العالم في استخدام الغاز الطبيعي كبديل

لمصادر الطاقة الأخرى

حيث يستخدم في

- الصناعة - والاستخدامات المنزلية - وتوليد الكهرباء الحرارية ووقود للسيارات بديلا للبنزين للحد من التلوث

(4) تعد الصناعة الحديثة مقياسا رئيسيا لتطور

الشعوب وازدهارها

- حيث أن الدول المتقدمة هي الدول التي تطورت فيها الصناعة تطورا مذهلا

- أخذه بالأساليب العلمية الحديثة
- وتطبيق الأبحاث والتجارب العلمية في الاختراع
- وتطوير وتحديث المنتجات الصناعية بشكل مستمر

(5) صناعة الألومنيوم تحتاج إلى عدة مقومات لقيامها

حيث تحتاج إلى

- وفرة الطاقة الكهربائية
- وخبرة علمية وفنية متطورة
- وسوق محلية وخارجية تستوعب الإنتاج

ما العلاقة بين.....؟

(1) انتشار التعليم في دول وسط آسيا والرعى البدائي

انتشار التعليم في دول وسط آسيا أدى إلى قلة أعداد العاملين بالرعى البدائي وتغير نشاطهم للعمل

بالصناعة والزراعة والخدمات

(2) تدفق البترول وحرف الرعى البدائي في شبه

الجزيرة العربية

أدى تدفق البترول إلى توطين البدو مما تسبب في قلة العاملين بحرفة الرعى البدائي في شبه الجزيرة العربية

(3) ما العلاقة بين البوكسيت والألومنيوم

البوكسيت هو الخام الرئيسي لمعدن الألومنيوم

(4) ما العلاقة بين الإنتاج الحيواني والصناعة

- تدخل المنتجات الحيوانية في العديد من الصناعات

مثل الصوف يدخل في صناعة نسيج الصوف

والجلود يدخل في دبغ الجلود وتصنع في شكل منتجات

جلدية

(5) ما العلاقة بين الصناعة الحديثة والدول المتقدمة

- الصناعة مقياس لتطور الشعوب والدول المتقدمة هي الدول التي تطورت فيها الصناعة تطورا مذهلا

- أخذه بالأساليب العلمية وتطبيق الأبحاث والتجارب في الاختراع

- وتطوير وتحديث المنتجات الصناعية بشكل مستمر

(6) ما العلاقة بين الألومنيوم والطاقة الكهربائية

- وفرة الطاقة الكهربائية من مقومات صناعة الألومنيوم

ما النتائج المترتبة على

(1) الوحدة الاقتصادية الأوروبية

أدى إلى حدوث تكامل في الجوانب الاقتصادية (الصناعية والتجارية) في إقليم غرب ووسط

أوروبا وحمايتها جمركيا وتدعيمها من جانب هيئة الاتحاد الأوروبي

(2) صغر مساحة الحقول الزراعية في نطاق

الزراعة الكثيفة

أدى إلى صعوبة استخدام الآلات والميكنة الزراعية والاعتماد على الأيدي العاملة

(3) استخدام الطرق العلمية الحديثة والآلات

في الزراعة التجارية

أدى إلى قلة التكاليف وقلة العمالة الزراعية والإنتاج التجاري الضخم

(4) وقوع آسيا ضمن الإقليم الاستوائي والمدارى

بالنسبة للإنتاج الزراعي

أدى إلى إنتاج آسيا

قصب السكر لأنه محصول مدارى حار

القطن لأنه محصول مدارى

المطاط الطبيعي لأنه يستخرج من عصارة أشجار استوائية

(5) عدم توافر الطاقة الكهربائية والخبرة الفنية

في الدول النامية المنتجة للبوكسيت

أدى قيام الدول النامية بتصدير إنتاجها من البوكسيت للدول المتقدمة التي تقوم بتصنيع الألومنيوم

(6) زيادة الطلب على البترول وتعدد استخداماته

أدى إلى ارتفاع أسعاره عالميا

(7) رخص ثمن الغاز الطبيعي وقلة تلوثه

أدى إلى التوسع في استخدام الغاز الطبيعي كبديل لمصادر الطاقة الأخرى

وإستخدامه في الصناعة - وتوليد الكهرباء ووقود للسيارات بدلا من البنزين للحد من التلوث

(8) وقوع الصين على المحيط الهادى ووجود الأنهار

والبحيرات ومزارع تربية الأسماك بها

أصبحت الصين من أهم الدول المنتجة للأسماك

(9) انتشار التعليم بين قبائل وسط آسيا

أدى إلى قلة العاملين بحرفة الرعى البدائي في دول وسط آسيا



الوحدة الثانية

ذاكر ٣ دول بس المقرر على محافظتك والدول الباقية شخبط عليهم

جمهورية الهند



جمهورية البرازيل



جمهورية نيجيريا



ألمانيا



الولايات المتحدة الأمريكية



ذاكر ٣ دول بس المقرر على محافظتك والدول الباقية شخبط عليهم

أهم المدن

الهند	نيودلهى	العاصمة السياسية	يوجد بها الجامعات والمراكز الصناعية والمعالم التاريخية
	بومباى	العاصمة التجارية	- أكبر الموانئ - وأكبر المدن الصناعية بالهند
	حيدرآباد	توجد بهضبة الدكن	- أكبر مراكز الصناعات اليدوية - تضم مراكز الإسلامية
البرازيل	برازيليا	العاصمة الجديدة	- أنشأت لتعمير هضبة البرازيل
	ريودى جانيرو	العاصمة القديمة	- واحدة من أجمل مدن العالم
	ساو باولو	أهم الموانئ	- تشتهر بمبانيها الضخمة وشواطئها الرملية الواسعة
بيجيريا	أبوجا	العاصمة الحالية	- مدينة داخلية حديثة
	لاجوس	العاصمة القديمة	- أكبر المدن وأكثرها سكانا - وتعتبر العاصمة الاقتصادية
	إيبادان	المركز ٢ بعد لاجوس	- مركزا للتجارة والتعليم والمواصلات
ألمانيا	برلين	العاصمة السياسية	عدد سكانها ٣.٤ مليون نسمة
	ميونخ	عاصمة إقليم بافاريا جنوبا	بها مقرر عدد من الشركات والمصانع الألمانية العالمية
	هامبورج	أهم الموانئ	قريبة من بحر الشمال
الولايات المتحدة الأمريكية	واشنطن	العاصمة السياسية	على المحيط الأطلنطي
	نيويورك	ميناء مهم	على المحيط الأطلنطي وبها مقر الأمم المتحدة
	شيكاغو	أكبر مدن السهول الوسطى	تقع على بحيرة متشجن
	سان فرانسيسكو	أكبر الموانئ	على المحيط الهادي



ذاكر ٣ دول بس المقرر على محافظتك والدول الباقية بشخبط عليهم

السكان

ثانى دول العالم سكانا بعد الصين يتركزون في	• السهول الساحلية والفيضية والمدن الرئيسية (نيودلهى - بومباى)	چين
٢.٣ مليون نسمة (نصف سكان القارة) يتركزون في	• السواحل الجنوبي الشرقى حيث المدن الرئيسية (ريودى جانيرو - ساوباولو)	البرازيل
١٧٨ مليون نسمة (أكبر دول قارة أفريقيا سكانا) يتركزون في	• الغرب - السهول الشمالية - هضبة جوس يقل السكان في • دلتا نهر النيجر جنوب نيجيريا	نيجيريا
٨١ مليون نسمة (أكبر دول أوروبا سكانا) يتركون في	• المدن الكبرى - المناطق الصناعية - الأودية على جانبي الأنهار	ألمانيا
٣١٨ مليون نسمة يتركزون في	• إقليم نيوانجلندا فى المنطقة الشمالية الشرقية • السهول الوسطى • السواحل الغربية حيث المناطق الصناعية والمدن الكبرى والمناطق الزراعية الخصبة يقلون في • نطاق المرتفعات والأحواض الغربية - ولاية آلاسكا	الولايات المتحدة الأمريكية

ذاكر ٣ دول بس المقرر على محافظتك والدول الباقية شخبط عليهم

التضاريس

الهند	الهمالايا - الغات الشرقية - الغات الغربية	جبال
	هضبة الدكن	هضاب
	سهول نهر الجانج - ونهر كوفرى	سهول فيضيه
	كروماندل - ملبار	سهول ساحلية
البرازيل	-----	جبال
	هضبة البرازيل - وبعض الهضاب في الشمال	هضاب
	سهول نهر الأمازون	سهول فيضيه
	ضيقة على المحيط الأطلسي	سهول ساحلية
نيجيريا	-----	تلل
	هضبة جوس	هضاب
	تعرف بالسهول الشمالية يجرى بها نهر النيجر	سهول فيضيه
	منخفضة على خليج غينيا جنوبا	سهول ساحلية
ألمانيا	جبال الألب (في الجنوب - أعلى قمم في ألمانيا - عليها غابات مخروطية ونفضية)	جبال
	المرتفعات الوسطى (تغطى بالغابات المخروطية وتكثر بها التلال والينابيع المائية)	هضاب
	السهل الألماني الشمالي (نهر إلب - ونهر الراين) وهو أكبر الأقاليم التضاريسية	سهول فيضيه
		سهول ساحلية
الولايات المتحدة الأمريكية	في الشرق جبال الأبلاش - أعلى الجبال جبال روكي - في الغرب جبال كسكيد	جبال
	هضبة كلورادو	هضاب
	السهول الوسطى (يجرى بها نهر المسيسيبي)	سهول فيضيه
	السهل الساحلي الشرقي وساحل خليج المكسيك (يتميز باستواء السطح والتعرج وظهور الخلجان ويتسع بالاتجاه جنوبا)	سهول ساحلية

ذاكر ٣ دول بس المقرر على محافظتك والدول الباقية شخبط عليهم

المناخ

الهند	يزيد متوسط درجة الحرارة عن ٣٠ مئوية وتقل نحو الشمال أمطار موسمية صيفية في الجنوب وتقل نحو الشمال يقع معظمها في المناطق الاستوائية والمدارية
البرازيل	• الاستوائي (حوض الأمازون - السهل الساحلي الشمالي) • المدارى الحار (هضبة البرازيل - السهول الشرقية) يسود المناخ المعتدل الرطب أقصى الجنوب الشرقى
نيجيريا	معظم نيجيريا (مناخ مدارى) • حرارة مرتفعة • ومطر صيفى الأطراف الجنوبية (مناخ استوائى) حرارة مرتفعة وأمطار طوال العام
ألمانيا	مناخ غرب أوروبا • (أمطار طوال العالم خاصة في الشمال) متأثر بالمحيط الأطلنطي وبحر الشمال • الصيف معتدل ترتفع الحرارة كلما اتجهنا شرقا • الشتاء تنخفض الحرارة اقل من الصفر خاصة نحو الداخل
الولايات المتحدة الأمريكية	المناخ شبه المدارى الحار • (في الساحل الجنوبي الشرقى ودلتا نهر المسيسيبي) المناخ الجبلى والهضبى في الغرب تختلف الخصائص المناخية في السهول الوسطى • (بسبب اتساعها من الشمال إلى الجنوب)

ذاكر ٣ دول بس المقرر على محافظتك والدول الباقية شخبط عليهم

النبات الطبيعي

الهند	الغابات	غابات موسمية على السواحل الشرقية والغربية
	الحشائش	حشائش قصيرة على هضبة الدكن
البرازيل	الغابات	غابات استوائية في حوض الأمازون (أكبر غابات استوائية في العالم)
	الحشائش	• السافانا (فوق هضبة البرازيل) • المعتدلة (في الأطراف الجنوبية للبرازيل)
نيجيريا	الغابات	غابات استوائية ومدارية في الجزء الجنوبي لنيجيريا
	الحشائش	• حشائش السافانا شمال الغابات المدارية
إثيوبيا	الغابات	• غابات مخروطية • غابات نفضية ثلث مساحة المانيا
	الحشائش	تنتشر الحشائش في السهل الساحلي • انكشمت مساحتها بسبب إحلال الزراعة محلها - والتوسع العمراني
الولايات المتحدة الأمريكية	الغابات	• غابات الإقليم الصيني • في الساحل الجنوبي الشرقي ودلتا نهر المسيسيبي
	الحشائش	• غابات ← في أقصى جنوب السهول الوسطى • حشائش - وسط السهول الوسطى • أعشاب صحراوية - في صحراء أريزونا • حشائش ونباتات جبلية - على المرتفعات الشمالية والغربية

ذاكر بس ٣ دول المقرر على محافظتك

والباقي اشطب عليه

أسئلة دولة الهند

بم تفسر / تمتلك الهند ثورة حيوانية ضخمة

بسبب كثرة المراعى

بم تفسر / القيمة الاقتصادية المحدودة للأبقار في الهند

بسبب تحريم الديانة الهندوسية أكل لحوم الأبقار

بم تفسر تعد الهند من الدول الرئيسية المنتجة للأسماك

لأنها تطل سواحل طويلة على خليج البنغال والبحر العربى

بم تفسر / تفوق الهند في صناعة الحديد والصلب

لأنها ثالث دول العالم إنتاجاً للفحم الذى يعد اساس صناعة الحديد والصلب

بم تفسر / لجوء الهند للطاقة النووية والكهربائية

لأنها تفتقر للبتروول ومصادر الطاقة الأخرى

بم تفسر / شهدت الهند قفزات سريعة في تطور الصناعة

بسبب توافر مقومات الصناعة بها

والاهتمام بالتعليم والبحث العلمى

دلل / تنوع النبات الطبيعى في الهند

لأنها تنمو الغابات الموسمية على السواحل الشرقية والغربية

وتنمو حشائش قصيرة على هضبة الدكن

دلل / واجهت الهند المشكلة السكانية بسياسات تنموية مختلفة

لأنها حيث اهتمت بالتعليم وتطوير البحث العلمى مما أدى إلى تطوير الزراعة والصناعة

دلل / تنوع العلاقات بين الهند ومصر

لأنها حيث توجد علاقات سياسية وثقافية واقتصادية

وتصدر مصر إلى الهند القطن والأسمدة الخام

والمصنعة والفوسفات والجود

وتسورد مصر من الهند غزل القطن والشاي

والسمسم والتوابل وقطع غيار السيارات

أسئلة دولة البرازيل

(١) تنتشر حشائش السافانا فوق هضبة البرازيل

بسبب وقوع هضبة البرازيل ضمن المناخ المدارى الحار

(٢) تعد البرازيل أكبر دول قارة أمريكا الجنوبية سكاناً ومع ذلك تعاني من قلة عدد السكان

بسبب مساحتها الواسعة ووجود مناطق شبيهة خالية من السكان مثل سهول الأمازون

(٣) يتركز السكان في البرازيل في الساحل الجنوبي الشرقى

بسبب وجود المدن الرئيسية مثل (ريو دي جانيرو - وساوباولو)

(٤) إنشء البرازيل مدن جديدة مثل برازيليا وميناؤوس

بهدف إعمار هضبة البرازيل وإعادة توزيع السكان نحو الداخل

(٥) تعد البرازيل من الدول المنتجة للأسماك

بسبب امتلاكها سواحل طويلة على المحيط الأطلنطى والبحر الكاريبي ونهر الأمازون

(٦) امتلاك البرازيل ثروة حيوانية كبيرة ومتنوعة

بسبب وجود المراعى الدائمة (الغنية) شمال هضبة البرازيل

(٧) ددل / يسود المظهر الهضبي في البرازيل

لأنها حيث توجد هضبة البرازيل في الوسط والجنوب وبعض الهضاب في الشمال

(٨) ددل / تنوع المناخ في البرازيل

لأنها حيث يسود المناخ الاستوائى (في حوض الامازون والسهل الساحلى الشمالى)

ويسود المناخ المدارى الحار (هضبة البرازيل والسهول الشرقية)

ويسود المناخ المعتدل الرطب في أقصى الجنوب الشرقى للبرازيل

(٩) ددل سكان البرازيل خليط من أجناس مختلفة

لأنها حيث الهنود الحمر (السكان الأصليون) - والأوروبيون - والعناصر السوداء (ذات أصول أفريقية)

(١٠) ددل / شهدت البرازيل تطور كبيراً في الصناعة في الماضى

لأنها كانت تقتصر على الصناعات الغذائية والمنسوجات والصناعات الكيماوية

الآن:

تطورت وظهرت الصناعات الثقيلة مثل صناعة الحديد والصلب والسيارات والطائرات والآلات الكهربائية والأسمنت

(١١) ددل / يوجد تبادل تجارى وعلاقات اقتصادية بين مصر والبرازيل

لأنها تصدر مصر إلى البرازيل (الأقطان - المواد الغذائية - الأثاث - المنسوجات - الأسمدة)

وتستورد مصر من البرازيل (الحبوب الغذائية خاصة الزيتية - السكر - البن - اللحوم - الحديد)



١. تعد المرتفعات الوسطى في ألمانيا مناطق جذب للسياح

لأن المرتفعات الوسطى تغطي بالغابات المخروطية وتكثر بها التلال والينابيع المائية

٢. انكماش مساحة الحشائش السهل الساحلى في ألمانيا

بسبب إحلال الزراعة محلها - والتوسع العمرانى

٣. تطور الصناعة الألمانية بعد الحرب العالمية الثانية

بسبب توافر مقومات الصناعة - وتدفق الاستثمارات - وتوافر المراكز العلمية المتقدمة

٤. ما النتائج / وقوع ألمانيا في نطاق مناخ غرب أوروبا

لدى إلى سقوط الأمطار طوال العام خاصة في الشمال
اعتدال المناخ صيفا وترتفع درجة الحرارة كلما اتجهنا نحو الشرق
انخفاض الحرارة شتاء إلى اقل من الصفر خاصة نحو الداخل

٥. ما النتائج / استخدام ألمانيا التكنولوجيا والأساليب العلمية المتقدمة في الأنشطة الاقتصادية

لدى إلى تقدم الزراعة لاعتمادها على التكنولوجيا الحديثة
تربية الماشية والخنازير والأغنام لإنتاج اللحوم والألبان في حظائر بأساليب علمية حديثة
توسع وتطور الصناعة بعد الحرب العالمية الثانية لتوافر المركز العلمية المتقدمة

٦. دليل / وجود علاقات ثقافية وعلمية بين مصر وألمانيا

لدى حيث توجد الجامعة الألمانية بالقاهرة - والمركز الثقافى الألماني
لدى وهيئة التبادل العلمى الألمانية - ومعهد الآثار الألماني

٧. دليل / قوة العلاقات الاقتصادية بين مصر وألمانيا

لدى حيث تمول ألمانيا محطات توليد الكهرباء من الرياح في مصر
لدى تصدر مصر إلى ألمانيا البترول والغاز الطبيعى والملابس
لدى وتستورد مصر من ألمانيا السيارات والآلات والصناعات الكيماوية

(١٢) ما النتائج / الموقع الفلكى للبرازيل

لدى أدى إلى وقوع البرازيل في المناطق الاستوائية والمدارية

لدى وسيادة المناخ المعتدل الرطب في أقصى الجنوب الشرقى للبرازيل

(١٣) ما النتائج / امتلاك البرازيل ثروة حيوانية كبيرة

لدى أصبحت البرازيل من الدول الرئيسية المنتجة والمصدرة للحوم

أسئلة دولة نيجيريا

تنوع النبات الطبيعى في نيجيريا

لدى بسبب وقوع معظم نيجيريا ضمن الاقليم المدارى فتتنامو حشائش السافانا ووقوع الاطراف الجنوبية ضمن الاقليم الاستوائى فتتنامو الغابات الاستوائية والمدارية

ارتفاع كثافة السكان في نيجيريا في الغرب والسهول الشمالية وهضبة جوس

لدى بسبب وجود الأراضى الزراعية والمراعى ومناطق التعدين

قلة عدد السكان في دلتا نهر النيجر جنوب نيجيريا

لدى بسبب وجود الغابات الكثيفة والظروف المناخية القاسية

وجود ثروة كبيرة من الأبقار والأغنام والماعز في نيجيريا

لدى بسبب وجود مراعى حشائش السافانا

تنتج نيجيريا كميات كبيرة من الأسماك

لدى بسبب الساحل الطويل على خليج غينيا وأنهار وبحيرات بالداخل

دليل / تنوع المناخ في نيجيريا

لدى حيث يقع معظم نيجيريا ضمن الاقليم المدارى والاجزاء الجنوبية ضم الاقليم الاستوائى

دليل / تنوع النبات الطبيعى في نيجيريا

لدى حيث تغطى الغابات الاستوائية والمدارية الجزء الجنوبى لنيجيريا وتنامو حشائش السافانا شمال الغابات المدارية

وجود علاقات اقتصادية بين مصر ونيجيريا

لدى حيث تصدر مصر إلى نيجيريا الأسمدة والمعدات الثقيلة والأسلاك النحاسية ومواسير الألومنيوم ومحولات الكهرباء
لدى وتستورد مصر من نيجيريا السلع الغذائية وأهمها الحبوب الزيتية

أسئلة دولة ألمانيا



ما النتائج المترتبة على

اتساع مساحة الولايات المتحدة الأمريكية وتنوع تضاريسها

لـ أدى إلى تنوع المناخ وبالتالي تنوع النبات الطبيعي من منطقة لأخرى

وفرة الموارد الطبيعية وتنوعها بالولايات المتحدة الأمريكية

لـ أدى إلى تنوع الأنشطة الاقتصادية وضخامة الإنتاج وبالتالي أصبحت الولايات المتحدة الأمريكية القوة الاقتصادية الأولى في العالم

دلل

ترتبط مصر مع الولايات المتحدة بعلاقات قوية في مختلف المجالات

لـ حيث توجد اتفاقيات اقتصادية وثقافية وتكنولوجية وعلمية

لـ واتفاقيات تجارية مثل اتفاقية التجارة الحرة واتفاقية المناطق الصناعية المؤهلة (الكويز)

لـ تستورد مصر من الولايات المتحدة الأمريكية (أسلحة وطائرات ومنتجات تكنولوجية)

تتعدد المناطق الصناعية الرئيسية بالولايات المتحدة الأمريكية

لـ حيث توجد في منطقة الشمال الشرقي والتي تضم المدن الصناعية الكبرى ومنطقة البحيرات العظمى

لـ منطقة الجنوب وتشمل مدن صناعية أهمها برمنجهام

لـ منطقة الغرب الساحلي وتضم مدن صناعية أهمها سان فرانسيسكو

تابع كل فيديوهات المراجعات

على قناتنا على اليوتيوب

تحياتي ليكم

مستر / عطا زكي شحتو

أسئلة الولايات المتحدة الأمريكية

بم تفسر

يتركز نحو ٥٠% من سكان الولايات المتحدة الأمريكية في إقليم نيو إنجلاند

لـ بسبب وجود المدن الكبرى (نيويورك) و المناطق الصناعية والتجارية الكبرى

ارتفاع الكثافة السكانية في الساحل الغربي للولايات المتحدة الأمريكية

لـ بسبب وجود المدن الكبرى والمناطق الصناعية والتجارية مثل سان فرانسيسكو ولو أنجلوس

لـ ووجود المناطق الزراعية الخصبة

يقل السكان في ولاية الاسكا

لـ بسبب برودة الجو

يقل السكان في المرتفعات والأحواض الغربية بالولايات المتحدة الأمريكية

لـ بسبب الظروف الطبيعية الصعبة

توجد ثروة سمكية كبيرة بالولايات المتحدة الأمريكية

لـ بسبب وقوعها على محيطين كبيرين هما

الأطلنطي والهادي بالإضافة إلى الأنهار والبحيرات

ضخامة وتنوع الإنتاج الزراعي في الولايات المتحدة الأمريكية

لـ بسبب توافر الأراضي الزراعية الخصبة الواسعة في

لـ سهول نهر المسيسيبي في الوسط

لـ الجنوب الشرقي

لـ وفي الوادي الأوسط بكاليفورنيا

لـ وعلى جوانب المرتفعات

لـ واعتماد الولايات المتحدة على التكنولوجيا الحديثة

تعد الولايات المتحدة أولى الدول الصناعية السبع (القوة الصناعية الأولى في العالم)

لـ بسبب توافر كل مقومات الصناعة بها

لـ وإسهامها بحصة كبيرة من الإنتاج العالمي في صناعة (السيارات - والصلب - والألومنيوم)

لـ وتحتل المرتبة الأولى عالميا في صناعة الطائرات وسفن الفضاء والأقمار الصناعية

لـ وتنتج ثلث الإنتاج العالمي من الصناعات الإلكترونية والكهربائية

تعد الولايات المتحدة القوة الاقتصادية الأولى في العالم

لـ بسبب وفرة الموارد الطبيعية وتنوعها مما أدى إلى تنوع الأنشطة الاقتصادية وضخامة إنتاجها



تضم جمعيات المجتمعات المحلية والمنظمات غير الحكومية والنقابات العمالية والجمعيات الخيرية وغيرها	منظمات المجتمع المدني
تجمع عدد من الدول المستقلة التي ترتبط ببعضها بروابط معينة	المنظمة الإقليمية
تضم دول العالم المستقلة وأن لم ترتبط ببعضها بروابط معينة	المنظمة الدولية

معلومات منهج التاريخ بالكامل

- ثورة ٢٣ يوليو ١٩٥٢ قام بها الضباط الأحرار
- مؤسس تنظيم الضباط الأحرار جمال عبدالناصر
- أذاع البيان الأول لثورة ٢٣ يوليو ١٩٥٢ محمد أنور السادات
- أذيع البيان الأول للثورة باسمه وأصبح مسيطر على جميع قطاعات الجيش المصري اللواء محمد نجيب
- ملك مصر أثناء قيام ثورة ٢٣ يوليو ١٩٥٢ الملك فاروق
- تنازل الملك فاروق عن العرش لابنه أحمد فؤاد الثاني
- معاهدة جعلت مصر ميدانا لمعارك الحرب العالمية الثانية معاهدة ١٩٣٦
- قامت قوات الاحتلال البريطاني عام ١٩٤٢ بمحاصرة قصر عابدين لإجبار الملك فاروق على تعيين مصطفى النحاس رئيسا للحكومة
- إنجازات ثورة ٢٣ يوليو ١٩٥٢
 - المجال السياسي
 - المجال الاقتصادي
 - المجال الاجتماعي
 - المجال العربي والدولي
- إنجازات الثورة في المجال السياسي
- إلغاء دستور ١٩٢٣
- حل الأحزاب السياسية
- إلغاء الملكية وعلان الجمهورية
- توقيع اتفاقية الجلاء عن مصر
- جلاء القوات البريطانية عام ١٩٥٦
- تأميم شركة قناة السويس

الترم 2

تاريخ

مراجعة ليلة الامتحان للصف الثالث الإعدادي

مستر / عطا زكي شحتو

تعريفات منهج التاريخ بالكامل

عدم الانحياز	عدم الانضمام إلى أي من الكتلتين الشرقية والغربية
الضباط الأحرار	مجموعة من ضباط الجيش المصري نظموا صفوفهم في سرية تامة وقاموا بثورة ٢٣ يوليو ١٩٥٢
مرحلة الصمود والتصدي	تصدى القوات المصرية للاعتداءات الإسرائيلية بعد عدوان ٥ يونيو ١٩٦٧
حرب الاستنزاف	استنزاف طاقات العدو الإسرائيلي في سيناء بعد عدوان ٥ يونيو ١٩٦٧
خط برليف	خط الدفاع الإسرائيلي على الضفة الشرقية لقناة السويس
خط ألوان	خط الدفاع الإسرائيلي في هضبة الجولان
اللجان الشعبية	تشكيل تكون من أفراد الشعب المصري لحماية المنشآت والمناطق ومواجهة أعمال السرقة والحرق والترويع أثناء ثورة ٢٥ يناير ٢٠١١
الحياة النيابية	قيام الشعب بانتخاب ممثلين لإدارة شئون الحكم في البلاد وسن القوانين ومراقبة أعمال الحكومة نيابة عنه
دستور	الوثيقة الرسمية التي تحدد نظام الحكم في الدولة وتحدد شكل واختصاصات المؤسسات الدستورية المختلفة
برلمان	يطلق على المجالس النيابية التي تتولى السلطة التشريعية في الدولة

١٩٢٩ انتفاضة

١٩٣٦ ثورة بقيادة اللجنة العربية

عرضت حل القضية الفلسطينية على الأمم المتحدة ١٩٤٧

بريطانيا

وافقت على مشروع تقسيم فلسطين ١٩٤٧
الأمم المتحدة

رفضت مشروع التقسيم
الدول العربية

وافق على مشروع التقسيم
اليهود

امتنعت عن التصويت
بريطانيا

ارتكب اليهود إبشع المذابح مثل
مذبحة دير ياسين

أعلن اليهود قيام دولة إسرائيل في
١٥ مايو ١٩٤٨

أول من اعترف بقيام دولة إسرائيل
الولايات المتحدة الأمريكية والاتحاد السوفيتي

قامت حرب فلسطين ١٩٤٨ بين كلاً من
الدول العربية واليهود

هزمت الجيوش العربية في حرب
فلسطين ١٩٤٨

العدوان الثلاثي على مصر اشتركت فيه
إسرائيل وفرنسا وبريطانيا

قامت إسرائيل بمساعدة الولايات المتحدة
بالإعداد

للعدوان الإسرائيلي ٥ يونيو ١٩٦٧

وقفت مصر بجانب سوريا عام ١٩٦٧ بموجب
اتفاقية الدفاع المشترك

أغلقت مصر
خليج العقبة في وجه الملاحة الإسرائيلية ١٩٦٧

هزمت الدول العربية في ٥ يونيو ١٩٦٧
بعد هزيمة الدول العربية أصدر مجلس الأمن
قرار رقم ٢٤٢

قبلت مصر قرار مجلس الأمن ٢٤٢
امتنعت إسرائيل عن تنفيذ قرار مجلس
الأمن ٢٤٢

إعادة بناء القوات المسلحة مرت بمرحلتين

• مرحلة الصمود والتصدي

• حرب الاستنزاف والمواجهة

• مرحلة الصمود والتصدي يوجد بها

إنجازات الثورة في المجال الاقتصادي

- التوسع في استصلاح الأراضي الصحراوية
- إنشاء السد العالي
- إنشاء العديد من المصانع (الحديد والصلب
بحلوان والأسمدة بأسوان)
- الاهتمام بالتعليم الصناعي
- الاهتمام بالبحث والتنقيب عن البترول
- فتح أسواق خارجية
- تمصير البنوك وشركات التأمين

إنجازات الثورة في المجال الاجتماعي

- القضاء على الاقطاع
- مجانية التعليم
- تحديد ساعات العمل
- إصدار قوانين للتأمينات والمعاشات
- منح المرأة حق الانتخاب والترشح لمجلس
الامة

إنجازات الثورة في المجال العربي والدولي

- مساندة الدول العربية والأفريقية لنيل
الاستقلال
- مساندة الشعب الفلسطيني في إقامة دولة
مستقلة
- تحقيق أول تجربة للوحدة العربية بين مصر
وسوريا
- كسر احتكار السلاح العالمي بعقد صفقة
الأسلحة الشرقية
- المساهمة في تشكيل حركة عدم الانحياز
- أول رئيس لجمهورية مصر العربية
محمد نجيب

عقد مؤتمر باندونج في

اندونيسيا

سعت بريطانيا لا نشاء وطن لليهود في
فلسطين فأصدرت

وعد بلفور

يوصف وعد بلفور بأنه

وعد ممن لا يملك لمن لا يستحق

وضعت عصبة الأمم نظام

الانتداب

اعطى بريطانيا حق الانتداب على فلسطين

مؤتمر سان ريمو بإيطاليا

قام الشعب الفلسطيني بالعديد من الحركات
الوطنية من عام ١٩٢٠-١٩٣٩



- قدمت أمريكا لإسرائيل معلومات عسكرية ساعدتها في أحداث نغرة بمنطقة الدفرسوار
- أصدر مجلس الأمن قرار رقم ٣٣٨ نص على وقف جميع الأعمال الحربية بدءاً من يوم ٢٢ أكتوبر ١٩٧٣
- كان مديراً للمخابرات ووزير للحربية وقائد للقوات المسلحة
المشير أحمد إسماعيل
- تولى القيادة العامة الموحدة على الجبهتين السورية والمصرية
المشير أحمد إسماعيل
- تولى التخطيط والتنسيق على الجبهتين المصرية والسورية بدقة ومهارة
المشير أحمد إسماعيل
- قاد خطة الخداع لصرف أنظار إسرائيل عن التجهيزات الهجومية
المشير أحمد إسماعيل
- حصل على أعلى الأوسمة العسكرية (نجمة سيناء)
المشير أحمد إسماعيل
- اختاره الرئيس السادات رئيساً لأركان حرب القوات المسلحة ١٩٧١-١٩٧٣
الفريق سعد الدين الشاذلي
- شارك مع القادة العسكريين في تطوير القوات المسلحة ووضع خطة لعبور قناة السويس وتحطيم خط برليف وقام بتنفيذها
الفريق سعد الدين الشاذلي
- تم تكريمه في الذكرى ٣٩ لنصر أكتوبر بمنح اسمه قلادة النيل العظمى
الفريق سعد الدين الشاذلي
- رئيس هيئة عمليات القوات المسلحة في حرب أكتوبر
الفريق محمد عبد الغنى الجمسى
- أصبح رئيساً لأركان حرب القوات المسلحة ديسمبر ١٩٧٣
الفريق محمد عبد الغنى الجمسى
- خطوات مصر نحو تحقيق السلام وإنهاء الصراع العربى / الإسرائيلي
 - مبادرة الرئيس السادات بزيارة إسرائيل
 - مؤتمر كامب ديفيد
 - معاهدة السلام
 - اللجوء إلى التحكيم الدولي لاستعادة طابا
 - المشاركة في مؤتمر مدريد للسلام
 - تأييد اتفاقية أوسلو
- معركة رأس العرش
- تدمير المدمرة الإسرائيلية إيلات
- حرب الاستنزاف والمواجهة
- بناء حائط الصواريخ على الضفة الغربية لقناة السويس
- والقصف المستمر بالمدفعية لخط برليف
- لذلك تدخلت أمريكا بمبادرة روجرز لوقف إطلاق النار لحل النزاع سلمياً
- في حرب الاستنزاف استشهد الفريق أول عبد المنعم رياض
- تولى رئاسة مصر بعد وفاة الرئيس جمال عبد الناصر
الرئيس محمد أنور السادات
- قامت مصر بالاستعداد لحرب لاستعادة الأراضي المحتلة عن طريق
 - تهيئة وإعداد الجبهة الداخلية
 - وتهيئة وإعداد الجبهة العربية
- تهيئة وإعداد الجبهة الداخلية لمصر
 - رفع الرقابة عن الصحف
 - إصدار دستور جديد (دستور ١٩٧١)
 - إلغاء الحراسات
 - القضاء على مراكز القوى
 - تجهيز الجيش وتسليحه بأحدث الأسلحة وتدريبه عليها
- تهيئة وإعداد الجبهة العربية
 - تصفية الخلافات وتوحيد الصف العربى
 - الاستفادة من كل الموارد والامكانيات العربية المتاحة
- أعطى إشارة بدء حرب أكتوبر ١٩٧٣
الرئيس محمد أنور السادات
- قائد سلاح الطيران المصرى بحرب أكتوبر محمد حسنى مبارك
- قام المصريون بتدميره فى ٦ ساعات
خط برليف
- قامت القوات السورية بتدمير
خط الوان
- بسبب الخسائر الكبيرة لإسرائيل فى حرب ١٩٧٣ طلبت المساعدات من الولايات المتحدة الأمريكية



- **القوات المسلحة المصرية**
قام نظام مبارك بإجراءات لامتناس غضب الجماهير مثل
تعيين نائب للرئيس
تشكيل حكومة جديدة
- استمرت ثورة ٢٥ يناير ٢٠١١ لمدة ١٨ يوم
- نتائج ثورة ٢٥ يناير
تخلي محمد حسني مبارك عن الرئاسة
وتسليم إدارة شؤون الحكم للمجلس الأعلى للقوات المسلحة
- فاز في انتخابات الرئاسة ٢٠١٢ مرشح حزب الحرية والعدالة
محمد مرسي
- قامت ثورة ٣٠ يونيو ٢٠١٣
لان السياسات الجديدة في عهد محمد مرسي لم تقدم حلا لمشكلات الشعب المصري
قبل ثورة ٣٠ يونيو ٢٠١٣ بأسبوع اصدرت القوات المسلحة
بيان ٢٣ يونيو ٢٠١٣
- رفض الرئيس محمد مرسي إجراء انتخابات رئاسية مبكرة
- نتائج ثورة ٣٠ يونيو ٢٠١٣
لـ عزل محمد مرسي وتسليم السلطة للمستشار عدلي منصور رئيس المحكمة الدستورية العليا
لـ تعديل دستور ٢٠١٢ وإصدار دستور ٢٠١٤
لـ عقدت انتخابات رئاسية فاز بها المرشح عبدالفتاح السيسي
- أنشاء مجلس المشورة والمجلس العالي محمد علي
- أنشاء مجلس شورى النواب الخديو إسماعيل
- في عصر الاحتلال البريطاني تم انشاء مجلس شورى القوانين والجمعية العمومية والجمعية التشريعية
- البرلمان في دستور ١٩٢٣ يتكون من مجلس النواب ومجلس الشيوخ
- أول دستور لمصر بعد ثورة ٢٣ يوليو ١٩٥٢ دستور ١٩٥٦ في عهد الرئيس جمال عبد الناصر
- أطلق عليه اسم الدستور الدائم دستور ١٩٧١ صدر في عهد الرئيس محمد أنو السادات

- قرر زيارة إسرائيل لإنهاء الصراع العربي الإسرائيلي
الرئيس محمد أنور السادات
- الرئيس الأمريكي الذي دعا لعقد اجتماعات كامب ديفيد
- كارتر
- دعا كارتر كلامن الرئيس المصري ورئيس وزراء إسرائيل
- بيجين
- نتائج مؤتمر كامب ديفيد التوصل لإطار معاهدة السلام بين مصر وإسرائيل
- معاهدة السلام كانت برعاية الولايات المتحدة الأمريكية
- نتائج معاهدة السلام بين مصر وإسرائيل رفع العلم المصري على سيناء بالكامل ما عدا طابا
- اصدرت حكمها لصالح لمصر فاعدت طابا للسيادة المصرية
محكمة العدل الدولية
- عادت طابا إلى مصر في عهد الرئيس محمد حسني مبارك
- مؤتمر قام على مبدأ الأرض مقابل السلام مؤتمر مدريد للسلام
- ترتب على مؤتمر مدريد للسلام توقيع اتفاقية أوسلو
- ساهمت التكنولوجيا الحديثة ووسائل الاتصال في قيام ثورة ٢٥ يناير ٢٠١١
- ارتفاع الاسعار وتجمع آلاف العاملين في وقفات احتجاجية بسبب التطبيق غير السليم لسياسة الخصخصة
- قانون استمر العمل به طول فترة حكم الرئيس محمد حسني مبارك قانون الطوارئ
- تم تزوير الانتخابات البرلمانية لمجلس الشعب ٢٠١٠ لصالح الحزب الوطني
- قامت ثورة ٢٥ يناير ٢٠١١ ضد نظام الرئيس محمد حسني مبارك
- قام الشعب المصري أثناء ثورة ٢٥ يناير بتشكيل اللجان الشعبية
- لحماية الممتلكات المواطنين تم الاستعانة



- رئيس السلطة التنفيذية
رئيس الدولة
- السلطة التشريعية ومدة ٥ سنوات
مجلس النواب
- السلطة التنفيذية
الحكومة والإدارة المحلية (المحافظ
والمجالس المحلية)
- السلطة القضائية
المحاكم بمختلف أنواعها
- استجاب الخديو اسماعيل لدعوته بتعليم
البنات
- رفاة الطهطاوي
- أول مدرسة لتعليم البنات أنشأها الخديو
اسماعيل
- المدرسة السنية
- أصدرت أول مجلة نسائية (الريحانة)
جميلة حافظ
- انتخبت رئيسا للجنة الوفد المركزية للسيدات
هدى شعراوي
- حصلت المرأة على حق الانتخاب والترشح في
دستور ١٩٥٦
- أول وزيرة للشئون الاجتماعية
حكمت أبو زيد
- عينها الرئيس السادات وزيرة للشئون
الاجتماعية
- عائشة راتب
- شغلت منصب رئيس اللجنة التشريعية
بمجلس الشعب
- أمال عثمان
- الفترة من ١٩٨١ حتى الآن أدركت الدولة دور
المرأة فأنشأت
- المجلس القومي للمرأة
- المنظمات الإقليمية مثل
جامعة الدول العربية
الاتحاد الأفريقي
منظمة المؤتمر الإسلامي
- المنظمات الدولية مثل
منظمة الأمم المتحدة
حركة عدم الانحياز
- تبنت فكرة إنشاء جامعة الدول العربية
مصر
- أول وثيقة تخص الجامعة العربية وقع عليها
٧ دول

- ميثاق القاهرة
- أعلى سلطة داخل الجامعة العربية
مجلس الجامعة
- عدد اللجان الدائمة التابعة لجامعة الدول
العربية
- ١٢ لجنة
- يعين بموافقة ثلثين مجلس الجامعة لمدة ٥
سنوات
- الأمين العام
- استضافت أول قمة أفريقية على أرضها ١٩٦٤
مصر
- منظمة تولت مصر رئاستها للمرة الثالثة ٢٠١٩
الاتحاد الإفريقي
- مدينة عقد بها مؤتمر القمة الإسلامية ١٩٦٩
مدينة الرباط بالمغرب
- مقر منظمة الأمم المتحدة
نيويورك
- تتكون الأمم المتحدة من ٦ أجهزة رئيسية
 - الجمعية العامة
 - الأمانة العامة
 - مجلس الأمن
 - مجلس الوصاية
 - محكمة العدل الدولية
 - المجلس الاقتصادي والاجتماعي
- تتكون من جميع الدول الأعضاء بالأمم
المتحدة
- الجمعية العامة
- أهم أجهزة الأمم المتحدة المسنولة عن
حفظ السلام والأمن الدوليين
مجلس الأمن
- الجهاز القضائي الأساسي بالأمم المتحدة
محكمة العدل الدولية
- مقر محكمة العدل الدولية
لاهاي بهولندا
- مسئول عن رعاية مصالح الشعوب المحتلة
مجلس الوصاية
- من المنظمات التابعة للأمم المتحدة
متخصصة في التربية والعلوم والثقافة
منظمة اليونسكو
- منظمة ساهمت في إنقاذ معبد ابو سمبل
واحياء مكتبة الاسكندرية
منظمة اليونسكو



٨. قرار تقسيم فلسطين ١٩٤٧
- لـ رفض الدول العربية مشروع التقسيم
 - لـ موافقة اليهود على التقسيم وقامت عصابات اليهود المسلحة بـ
 - طرد العرب من ديارهم
 - ارتكاب إبشع المذابح مثل مذبحه دير ياسين
 - لـ امتناع بريطانيا عن التصويت وأعلنت انسحابها وانتهاء الانتداب البريطاني
٩. هزيمة الجيوش العربية في حرب فلسطين ١٩٤٨م
- أدى إلى استيلاء اليهود على جميع اراضي فلسطين ما عدا
- لـ قطاع غزة تحت إدارة مصرية
 - لـ الضفة الغربية وبها قوات اردنيه
 - لـ القدس قسمت بين العرب واليهود
- لـ قيام مصر بتأميم شركة قناة السويس ١٩٥٦
- لـ أصبحت شركة مصرية تحت إدارة مصرية
 - لـ وقيام العدوان الثلاثي مصر ١٩٥٦م
١٠. مساعدة مصر لحركات التحرر الوطني في الجزائر
- لـ أدى إلى اشتراك فرنسا في العدوان الثلاثي على مصر ١٩٥٦م
١١. فشل العدوان الثلاثي على مصر ١٩٥٦م
- لـ انسحاب القوات الانجليزية والفرنسية من بورسعيد ١٩٥٦م
 - لـ انسحاب القوات الاسرائيلية من قطاع غزة وسيناء أوائل ١٩٥٧م ووضع قوات طوارئ دولية بين مصر وإسرائيل
 - لـ إدراك الدول العربية الخطر الإسرائيلي لذلك قامت وحدة بين مصر وسوريا عام ١٩٥٨
١٢. العدوان الإسرائيلي على الدول العربية ٥ يونيو ١٩٦٧م
- أدى إلى استيلاء إسرائيل على
- (١) - قطاع غزة
 - (٢) سيناء حتى الضفة الشرقية لقناة السويس
 - (٣) - هضبة الجولان
 - (٤) - مدينة القدس العربية
 - (٥) - الضفة الغربية لنهر الأردن
١٣. معركة رأس العرش
- لـ أدى إلى نجاح القوات المصرية من هزيمة القوات الإسرائيلية عندما حاولت احتلال مدينة بور فؤاد
١٤. بناء مصر حائط صواريخ على الضفة الغربية لقناة السويس أثناء حرب الاستنزاف

- من المنظمات التابعة للأمم المتحدة ومتخصصة في المجال الزراعي ومقرها روما منظمة الأغذية والزراعة (الفاو)
- المنظمة الوحيدة المتخصصة في مجال الطفولة منظمة اليونيسيف
- منظمة تابعة للأمم المتحدة مقرها جنيف بسويسرا منظمة الصحة العالمية

ما النتائج المترتبة على التاريخ بالكامل

١. توقيع مصر لمعاهدة ١٩٣٦م
- لـ جعل مصر ميدانا لمعارك الحرب العالمية الثانية
 - لـ واستنزاف موارد مصر لخدمة بريطانيا وحلفائها
 - لـ مما أزهق الاقتصاد المصري وزاد معاناة الشعب المصري
٢. توقيع مصر اتفاقية الجلاء في أكتوبر ١٩٥٤م
- لـ أدى إلى جلاء القوات البريطانية عن مصر عام ١٩٥٦م بعد احتلال دام ٧٤ عاما
٣. بناء السد العالي
- لـ أدى إلى حماية مصر من خطر الفيضان - وتخزين المياه وتوليد الكهرباء
٤. إصدار قانون الإصلاح الزراعي بعد ثورة ٢٣ يوليو ١٩٥٢م
- لـ أدى إلى القضاء على الإقطاع حيث تم تحديد الملكية الزراعية في النهاية بـ ٥٠ فدان مما زاد من تملك الفلاحين للأراضي الزراعية
٥. ثورة ٢٣ يوليو ١٩٥٢م بالنسبة للمرأة المصرية
- لـ أدى إلى منح المرأة حق الانتخاب والترشح لمجلس الأمة (مجلس النواب حاليا) عام ١٩٥٦م
٦. مؤتمر سان ريمو بإيطاليا ١٩٢٠م بالنسبة لفلسطين
- لـ أدى إلى وضع فلسطين تحت الانتداب البريطاني
٧. وضع فلسطين تحت الانتداب البريطاني عام ١٩٢٠م
- قيام بريطانيا بتنفيذ وعد بلفور عن طريق
- لـ السماح بهجرة أعداد كبيرة من اليهود من جميع أنحاء العالم إلى فلسطين
 - لـ السماح بانتقال ملكية الأراضي من عرب فلسطين عن طريق الشراء إلى اليهود

- ٢٤. تكوين المجتمع المصري للجان الشعبية أثناء ثورة ٢٥ يناير ٢٠١١
 - ٢٥. ثورة ٣٠ يونيو ٢٠١٣
 - ٢٦. التعاون بين مصر ومنظمة اليونسكو
- وتسليم إدارة شئون البلاد للمجلس الأعلى للقوات المسلحة
- أدى إلى حماية المنشآت والمناطق - ومواجهة أعمال السرقة والحرق والترويع
- عزل محمد مرسي ٣ يوليو ٢٠١٣ وتسليم السلطة للمستشار عدلي منصور رئيس المحكمة الدستورية العليا حين إجراء انتخابات رئاسية
- تعديل دستور ٢٠١٢ وصدر دستور يناير ٢٠١٤
- عقد الانتخابات الرئاسية وإعلان فوز المرشح عبدالفتاح السيسي
- أدى إلى إنقاذ معبد أبو سمبل وأحياء مكتبة الإسكندرية

ما العلاقة بين.....؟

- (١) حرب فلسطين وثورة ٢٣ يوليو ١٩٥٢
 - (٢) ثورة ٢٣ يوليو ١٩٥٢ وحركة عدم الانحياز
 - (٣) الاقطاع وقوانين الإصلاح الزراعي
 - (٤) مؤتمر سان ريمو وفلسطين
 - (٥) حركات التحرر الوطني في الجزائر والعدوان الثلاثي على مصر ١٩٥٦
 - (٦) حرب الاستنزاف ومبادرة روجرز
- هزيمة الجيش المصري في حرب فلسطين أحد أسباب قيام الضباط الأحرار بثورة ٢٣ يوليو ١٩٥٢
- من إنجازات ثورة ٢٣ يوليو في المجال العربي والدولي المساهمة في تشكيل حركة عدم الانحياز في مؤتمر باندونج مع كلا من الهند واندونيسيا ويوغوسلافيا (سابقا)
- أصدرت قوانين الإصلاح الزراعي للقضاء على الاقطاع وتحديد ملكية الأراضي الزراعية في النهاية بـ ٥٠ فدان مما زاد من تملك الفلاحين للأراضي الزراعية
- أعطى مؤتمر سان ريمو لبريطانيا ١٩٢٠ حق الانتداب على فلسطين فبدأت بريطانيا بتنفيذ وعد بلفور
- مساندة مصر لحركات التحرر الوطني في الجزائر سبباً في اشتراك فرنسا في العدوان الثلاثي على مصر
- حرب الاستنزاف ومبادرة روجرز

- ١٥. العمليات العسكرية المصرية التي قام بها سلاح الطيران والمدفعية في حرب أكتوبر ١٩٧٣
 - ١٦. اجتماع وزراء النفط العربي بالكويت أثناء حرب أكتوبر ١٩٧٣
 - ١٧. مبادرة الرئيس السادات لزيارة إسرائيل ١٩٧٧
 - ١٨. عقد مؤتمر كامب ديفيد ١٩٧٨
 - ١٩. توقيع معاهدة السلام بين مصر وإسرائيل مارس ١٩٧٩
 - ٢٠. إحالة قضية طابا إلى هيئة التحكيم الدولي
 - ٢١. عقد مؤتمر مدريد للسلام عام ١٩٩١
 - ٢٢. التطبيق الغير سليم لسياسة الخصخصة في مصر قبل ثورة ٢٥ يناير ٢٠١١
 - ٢٣. ثورة ٢٥ يناير ٢٠١١
- أدى إلى منع اختراق الطائرات الإسرائيلية للأجواء المصرية
- أدى إلى تحطيم أعداد كبيرة من الطائرات والمعدات العسكرية الإسرائيلية
- عبور الدبابات والمدربات والمعدات العسكرية المصرية لقناة السويس
- وتدمير خط برليف في ٦ ساعات
- وانتشار القوات المصرية على الضفة الشرقية لقناة السويس ورفع العلم المصري وأسر مئات الجنود الإسرائيليين
- أدى إلى خفض إنتاج البترول
- حظر الصادرات النفطية إلى الولايات المتحدة الأمريكية
- مهد الطريق أمام إسرائيل بالقبول بمبدأ التفاوض مع الدول المهتمة والمعنية بقضية الصراع العربي/الإسرائيلي
- أدى إلى التوصل إلى إطار معاهدة للسلام بين مصر وإسرائيل
- أدى إلى رفع العلم المصري فوق شبه جزيرة سيناء فيما عدا منطقة طابا
- أصدرت محكمة العدل الدولية حكمها لصالح مصر وعادت طابا إلى السيادة المصرية مارس ١٩٨٩
- أدى إلى حدوث مفاوضات سرية بين إسرائيل ومنظمة التحرير الفلسطينية أدت هذه المفاوضات لتوقيع اتفاقية أوسلو
- أدى إلى ارتفاع الأسعار
- تجمع آلاف العاملين بعد إحالتهم للتقاعد مع البطالة من الشباب في وقفات احتجاجية
- تخلى الرئيس محمد حسني مبارك عن الرئاسة

(٤) إنشاء مجلس الوصاية التابع للأمم المتحدة

لرعاية مصالح الشعوب المحتلة والأخذ بيدها
نحو الاستقلال

(٥) قيام ثورة ٢٥ يناير ٢٠١١

بسبب تدهور الأوضاع الاقتصادية والاجتماعية
والصحية والخدمية والتعليمية

استمرار العمل بقانون الطوارئ

تزوير الانتخابات البرلمانية لمجلس الشعب عام
٢٠١٠

(٦) تدهور الأحوال الاقتصادية في مصر قبل ثورة ٢٥ يناير

بسبب اتباع سياسة الانفتاح الاقتصادي دون ضوابط
علمية

التطبيق غير السليم لسياسة الخصخصة

حيث تم بيع مؤسسات الدولة بأقل من سعرها ولفئة
معيّنة من رجال الأعمال

(٧) سوء الأحوال الاجتماعية في مصر قبل ثورة

٢٥ يناير ٢٠١١

بسبب زيادة الفوارق الاجتماعية بين طبقات
المجتمع وغياب العدالة الاجتماعية في توزيع
الثروات

(٨) تشكيل الشعب المصري للجان الشعبية

أثناء ثورة ٢٥ يناير ٢٠١١

بهدف حماية المنشآت والمناطق

ومواجهة أعمال السرقة والحرق والترويع

(٩) الاستعانة بالقوات المسلحة خلال ثورة ٢٥

يناير ٢٠١١

لحماية وتأمين الممتلكات العامة والخاصة
والمحافظة على أمن المواطنين

(١٠) يعتبر يوم ١١ فبراير ٢٠١١ يوما تاريخيا في حياة
المصريين

لأنه اليوم الذي تخلى فيه الرئيس محمد حسني
مبارك عن الرئاسة وتم تسليم إدارة شؤون البلاد
للمجلس الأعلى للقوات المسلحة

(١١) قيام ثورة ٣٠ يونيو ٢٠١٣م

لأن السياسات الجديدة للدولة في عهد محمد مرسي لم
تحقق حلول لمشكلات الشعب المصري خاصة العدالة
الاجتماعية واستمرار سوء الاحوال الاقتصادية

(١٢) يعد الجيش المصري الضامن لثورتى ٢٥ يناير
٢٠١١ و ٣٠ يونيو ٢٠١٣م

لأن اثناء ثورة ٢٥ يناير أثبتت الاحداث ان الجيش
قوة مساندة للشعب المصري وليس أداة لدى النظام
لقمع المتظاهرين وإجهاض الثورة

وأثناء ثورة ٣٠ يونيو ٢٠١٣م تدخلت القوات المسلحة
حفاظا على الأمن العام وأعلنت بيان ٢٣ يونيو ٢٠١٣م

- نتيجة للقصف المستمر بالمدفعية لخط
برليف في حرب الاستنزاف تدخلت الولايات
المتحدة الأمريكية وقدم وزير خارجيتها روجرز
مبادرة روجرز لوقف إطلاق النار تمهيدا لحل
النزاع سلميا

(٧) البترول العربي وحرب أكتوبر ١٩٧٣

- كان لاستخدام البترول دور في تحقيق النصر
في حرب أكتوبر وذلك عندما أصدر وزراء النفط
العربي قرارا في اجتماعهم بالكويت بـ

- خفض انتاج البترول وحظر الصادرات النفطية
إلى الولايات المتحدة الأمريكية

(٨) التكنولوجيا المتطورة لوسائل الاتصال وثورة
٢٥ يناير ٢٠١١

- ساهمت التكنولوجيا (الأنترنت) ووسائل
التواصل الاجتماعي مثل الفيس بوك في قيام
ثورة ٢٥ يناير

(٩) سياسة الخصخصة وثورة ٢٥ يناير ٢٠١١م

- أدى التطبيق الغير سليم لسياسة الخصخصة
إلى
ارتفاع الاسعار

- وتجمع آلاف العاملين بعد خروجهم بنظام
التقاعد المبكر في وقفات احتجاجية

وبالتالي تدهور الأوضاع الاقتصادية في مصر
وقيام ثورة ٢٥ يناير ٢٠١١

(١٠) منظمة الأمم المتحدة للتربية والعلوم والثقافة
(اليونسكو) وحفظ التراث الثقافي والحضارى
لمصر؟

حيث قامت منظمة اليونسكو

- بإنقاذ معبد أبو سمبل من الغرق
- وإحياء مكتبة الإسكندرية

بم تفسر على منهج التاريخ

(١) أهمية إصدار دستور مصر الدائم ١٩٧١م

لأنه أكد على سيادة القانون

لرعاية مصالح الشعوب المحتلة والأخذ بيدها
نحو الاستقلال

وإقرار مبادئ التعددية الحزبية

وكان من إجراءات تهيئة واعداد الجبهة الداخلية
لمصر قبل حرب أكتوبر ١٩٧٣

(٢) تعد الأمم المتحدة منظمة دولية

لأنها تضم دول العالم المستقلة وإن لم ترتبط
بعضها بروابط معينة

(٣) يعد مجلس الأمن أهم أجهزة الأمم المتحدة

لأنه مسئول عن حفظ الأمن والسلام الدوليين
ويعد سلطة قانونية على حكومات الدول الأعضاء بالأمم
المتحدة

- (٢١) وقوف مصر إلى جانب سوريا عام ١٩٦٧
تطبيقا لاتفاقية الدفاع المشترك بين مصر وسوريا بعد أن قامت إسرائيل بحشد قواتها على الحدود مع سوريا
- (٢٢) فشل العدوان الثلاثي على مصر ١٩٥٦
بسبب المقاومة الباسلة للجيش والشعب وقوف الشعوب العربية بجانب مصر تهديد الاتحاد السوفيتي بالتدخل لوقف العدوان رفض الولايات المتحدة الأمريكية استخدام القوة في حل النزاعات تنديد الأمم المتحدة بالعدوان
- (٢٣) دخول الجيوش العربية حرب فلسطين
بهدف نصره وإنقاذ الشعب الفلسطيني من بطش اليهود عقب إعلانهم قيام دولة إسرائيل مساعدة الشعب الفلسطيني على إقامة حكومة وطنية على أرضه
- (٢٤) أهمية فلسطين في قلوب كل العرب
لأن ولد بها السيد المسيح أسرى إليها بسيدنا محمد (ص) ويوجد بها المسجد الأقصى أولى القبلتين وثالث الحرمين
- (٢٥) موافقة الملك فاروق على مطالب قادة ثورة ٢٣ يوليو ١٩٥٢
لأنه أدرك أن الجيش والشعب يكرهان حكمه وتخلي الإنجليز عنه
- (٢٦) سوء الأحوال الاجتماعية في مصر قبل ثورة ٢٣ يوليو ١٩٥٢
بسبب الصراعات السياسية بين الأحزاب انتشار ظاهرة الاقطاع (سوء توزيع ملكية الأراضي الزراعية) مما جعل فئة صغيرة تملك وتستبد
- (٢٧) هزيمة الجيش المصري والعربي في حرب فلسطين ١٩٤٨
بسبب دعم الولايات المتحدة الأمريكية وبريطانيا لإسرائيل عدم استعداد الجيش المصري والعربي عسكريا للحرب
- (٢٨) عدم وجود حياة ديمقراطية نسليمة قبل ثورة ٢٣ يوليو ١٩٥٢
(٢٩) عجز الأحزاب السياسية قبل ثورة ٢٣ يوليو عن التعبير عن إرادة الشعب ومطالبة
- بسبب خضوع مصر للاحتلال البريطاني فساد النظام الملكي فساد الأحزاب السياسية والصراع بينهم من أجل الوصول للحكم

ودعت إلى إيجاد صيغة تفاهم ومصالحة حقيقية لحماية مصر وشعبها خلال أسبوع

(١٣) مشاركة مصر في مؤتمر مدريد للسلام عام ١٩٩١ (عقد مؤتمر مدريد بأسبانيا)

لحل الصراع العربي / الإسرائيلي على أساس مبدأ الأرض مقابل السلام على ضوء قرارات الأمم المتحدة (مجلس الأمن)

(١٤) لجوء مصر إلى التحكيم الدولي بعد ٢٥ أبريل ١٩٨٢

بسبب حدوث خلاف بين مصر وإسرائيل على تعيين مكان بعض علامات الحدود (طابا) واتفق الطرفان على مبدأ التحكيم واللجوء إلى محكمة العدل الدولية

(١٥) زيارة الرئيس السادات لإسرائيل ١٩٧٧ م

لإنهاء الصراع العربي / الإسرائيلي سلميا وتحقيق السلام الدائم بعد سلسلة من الحروب التي استنزفت طاقات وموارد البلاد البشرية والمادية

(١٦) إحداث ثغرة في منطقة الدفرسوار في حرب أكتوبر ١٩٧٣

بسبب المعلومات العسكرية التي قدمتها الولايات المتحدة الأمريكية لإسرائيل ساعدتها في إحداث الثغرة

(١٧) طلب إسرائيل المساعدة من الولايات المتحدة الأمريكية في حرب أكتوبر ١٩٧٣ م

بسبب الخسائر الكبيرة لإسرائيل من جنود وطائرات على الجبهتين المصرية والسورية (١٨) تقديم الولايات المتحدة بمبادرة روجرز

لوقف إطلاق النار تمهيدا لحل النزاع سلميا بين مصر وإسرائيل أثناء حرب الاستنزاف

(١٩) هزيمة الدول العربية في عدوان ٥ يونيو ١٩٦٧ م

بسبب التفوق العسكري الإسرائيلي خاصة السلاح الجوي

استخدام إسرائيل عنصر المفاجأة في ضرب المطارات المصرية بعد أن صورت لها أجهزة تجسس أمريكية حديثة المواقع المصرية

مساندة الولايات المتحدة الأمريكية وبعض الدول الأوروبية لإسرائيل عسكريا واقتصاديا وسياسيا نقص التدريب وعدم توافر الاسلحة الحديثة للقوات المصرية

(٢٠) إغلاق مصر لخليج العقبة أمام الملاحة الإسرائيلية ١٩٦٧ م

لإحكام الحصار الاقتصادي الذي فرضه العرب على إسرائيل

جميع أسئلة دلة على التاريخ

(١) اختلفت آراء المؤرخين حول ثورة ٢٣ يوليو ١٩٥٢

- ١- يرى البعض أنها أثرت في حركات التحرر الوطني في الوطن العربي والعالم وساهم قاداتها في تأسيس حركات دولية مثل حركة عدم الإنحياز والحياد الإيجابي
- ٢- ويرى البعض الآخر أنها لم تبدأ عندما تم تأسيس تنظيم الضباط الأحرار أو عندما سيطر قادة الثورة على الجيش ومبنى الإذاعة المصرية وإنما مكمل لنضال طويل للشعب المصري منذ الثورة العربية وثورة ١٩١٩ حتى قيام ثورة ٢٣ يوليو ١٩٥٢

(٢) لم تؤدي معاهدة ١٩٣٦ للاستقلال الحقيقي

- ١- حيث قامت قوات الاحتلال البريطاني بمحاصرة قصر عابدين لإجبار الملك فاروق على تعيين مصطفى النحاس باشا رئيسا للحكومة وهذا يعني تدخل في شئون مصر الداخلية

(٣) فساد النظام الملكي قبل ثورة ٢٣ يوليو ١٩٥٢

- ١- حيث استبداد الملك فاروق بالحكم
- ٢- وانتشار الرشاوى كما حدث في صفقة الأسلحة الفاسدة

(٤) تعتبر بريطانيا صانعة مشكلة فلسطين

- ١- حيث أصدرت وعد بلفور ١٩١٧ وقامت بتنفيذه بعد انتدابها على فلسطين بـ
- ٢- السماح بهجرة أعداد كبيرة من اليهود إلى فلسطين
- ٣- السماح بانتقال ملكية الأراضي من عرب فلسطين إلى اليهود عن طريق الشراء

(٥) تطبيق الهدنة في حرب فلسطين لم تكن في صالح العرب

- ١- حيث قام اليهود بتقوية قواتها من حيث العدد والتسليح والتدريب وبعد استئناف القتال هزمت الجيوش العربية

(٦) استطاعت مصر التصدي للاعتداءات الإسرائيلية بعد هزيمة ١٩٦٧

- ١- حيث هزيمة القوات الإسرائيلية عندما حاولت إسرائيل احتلال مدينة بور فؤاد
- ٢- وتدمير المدمرة الإسرائيلية إيلات

١- كانت حرب الاستنزاف دليلا على إعادة مصر لبناء قواتها المسلحة بعد عدوان ١٩٦٧

- ١- حيث قامت مصر ببناء حائط الصواريخ على الضفة الغربية لقناة السويس مما منع اختراق الطائرات الإسرائيلية للأجواء المصرية
- ٢- والقصف المستمر بالمدفعية لخط برليف

٢- تشابه الدفاعات الإسرائيلية على الجبهة المصرية والسورية

١- حيث أقامت خط ألوان في هضبة الجولان وخط بارليف على الضفة الشرقية لقناة السويس

٣- أظهرت حرب أكتوبر أهمية التضامن العربي / كان للعرب دور مشرف في حرب أكتوبر

١- حيث قدمت بعض الدول العربية دعما ماليا وعسكريا لمصر وسوريا

١- قرر وزراء النفط العربي في اجتماعهم بالكويت خفض إنتاج البترول وحظر الصادرات النفطية إلى الولايات المتحدة الأمريكية

٤- ساندت الولايات المتحدة الأمريكية إسرائيل في حرب أكتوبر ١٩٧٣

١- عسكريا - أقامت جيسرا جويا لتقديم المساعدات العسكرية لإسرائيل
٢- قدمت معلومات عسكرية لإسرائيل ساعدتها في أحداث ثغرة في منطقة الدفرسوار

١- ماليا - قدمت مساعدات مالية ضخمة وعاجلة لإسرائيل

١- سياسيا - تدخلت مع الدول الأعضاء بمجلس الأمن لإصدار قرار رقم ٣٣٨ الذي يقضي بوقف جميع الأعمال الحربية ابتداء من يوم ٢٢ أكتوبر ١٩٧٣

٥- أنهت حرب أكتوبر على نظرية الأمن الإسرائيلية

١- حيث انهارت خطوط الدفاعات الإسرائيلية مثل خط بارليف على الجبهة المصرية

٦- أثرت حرب أكتوبر على الجيش الإسرائيلي

١- حيث تحطيم أسطورة الجيش الإسرائيلي الذي لا يقهر
٢- هدم أسس العقيد القتالية للقوات الإسرائيلية
٣- انتهاء نظرية الأمن الإسرائيلية

٧- جاءت الانتخابات البرلمانية ٢٠١٠ مخالفة لإرادة الشعب المصري

١- حيث تم تزوير انتخابات مجلس الشعب وحصل الحزب الوطني على ٩٧% من المقاعد وبذلك خلا المجلس من أي معارضة وطنية تذكر

٨- قام نظام مبارك باتخاذ بعض الإجراءات لامتناس غضب الجماهير أثناء ثورة ٢٥ يناير ٢٠١١

١- حيث تعيين نائب للرئيس وتفويض صلاحيات رئيس الجمهورية له
٢- تشكيل حكومة جديدة

٩- شهدت الحياة النيابية تطورا كبيرا بعد قيام ثورة ٢٣ يوليو ١٩٥٢

١- حيث إلغاء دستور ١٩٢٣

١- حل الأحزاب السياسية

١- صدر أول دستور لمصر بعد الثورة (دستور ١٩٥٦) والذي نص على أن السلطة التشريعية بيد مجلس منتخب وهو مجلس الأمة

١- صدر دستور ١٩٧١ وعرف بالدستور الدائم

١٠. شهدت مصر نهضة نسائية في فترة ما قبل ثورة ١٩١٩

لـ حيث استجاب الخديو اسماعيل لدعوة رفاة الطهطاوي بتعليم البنات فأنشأ أول مدرسة لتعليم البنات وهي المدرسة السنوية

لـ أصدرت جميلة حافظ أول مجلة نسائية (الريحانة) وتحولت بعد ذلك لجريدة لتهتم بالقضايا النسائية وتدافع عن حقوق المرأة

١١. شهدت مرحلة ما بعد ثورة ١٩١٩ وحتى ثورة ٢٣ يوليو ١٩٥٢ نهضة ودورا رائدا للمرأة

لـ حيث شاركت المرأة بجانب الرجل في المظاهرات بعد نفي سعد زغلول

لـ شكت المرأة لجنة الوفد المركزية للسيدات وانتخب رئيسا لها هدى شعراوي

لـ التحقت المرأة بالجامعة المصرية (جامعة القاهرة)

لـ شاركت مصر في تأسيس الاتحاد الأفريقي بعد أن تحررت معظم الدول الأفريقية

لـ تعد مصر من أوائل الدول التي ساهمت في إنشاء منظمة المؤتمر الإسلامي

١٢. شهدت فترة ما بعد ثورة ٢٣ يوليو وحتى عام ١٩٧١ مشاركة المرأة المصرية في كافة المجالات

لـ حيث حصلت على حق الانتخاب والترشح في دستور ١٩٥٦ وأصبحت عضوا بالبرلمان

لـ أصبحت حكمت أبو زيد أول وزيرة للشئون الاجتماعية

لـ شاركت في النقابات العمالية والمهنية والمنظمات غير الحكومية

١٧. لمصر دور فعال في إنشاء عدد من المنظمات الدولية

لـ كانت من أوائل الدول التي وقعت على ميثاق الأمم المتحدة

لـ شاركت مصر في تأسيس حركة عدم الانحياز في مؤتمر باندونج مع الهند ويوغوسلافيا واندونيسيا

١٣. شغلت المرأة المصرية مناصب وزارية وشاركت في الحياة النيابية في الفترة من ١٩٧١ - إلى ١٩٨١

لـ في المناصب الوزارية قام الرئيس السادات بتعيين عائشة راتب وزيرة للشئون الاجتماعية

لـ في الحياة النيابية أصبحت أمال عثمان رئيس اللجنة التشريعية بمجلس الشعب

١٨. لمصر دور بارزا في منظمة الاتحاد الأفريقي

لـ حيث شاركت مصر في تأسيس منظمة الاتحاد الأفريقي

لـ استضافت مصر أول قمة أفريقية على أرضه

لـ تولت مصر رئاسة الاتحاد الأفريقي للمرة الثالثة ٢٠١٩ برئاسة الرئيس عبد الفتاح السيسي

١٤. شهدت الفترة من ١٩٨١ حتى الآن تغيرات جوهرية للنهوض بالمرأة

لـ حيث تم إنشاء المجلس القومي للمرأة

لـ وتقلدت بعض الوظائف والمناصب المختلفة

١٩. لمصر دور مهم في منظمة المؤتمر الإسلامي

لـ حيث تعد مصر من أوائل الدول التي ساهمت في إنشاء منظمة المؤتمر الإسلامي

لـ وشاركت في كافة المؤتمرات الإسلامية واهمها مؤتمر القمة الإسلامية في الرباط بالمغرب

١٥. لمنظمات المجتمع المدني دور مكمل للعمل الحكومي

لـ حيث تقدم خدمات اجتماعية وتنفيذ برامج تنمية عن طريق

٢٠. تعد مصر عضو فعال في منظمة الأمم المتحدة حيث شاركت في

لـ في الأنشطة المختلفة للأمم المتحدة

لـ وشاركت بجنودها في قوات حفظ السلام في (الكويت - الصومال - الكونغو - الوسنة والهرسك)

١٦. لمصر دور كبير في إنشاء عدد من المنظمات الإقليمية

لـ تثقيف المواطنين وتعريفهم بحقوقهم السياسية

لـ توضيح علاقة المواطن بالدولة

لـ توفير مناخ يحقق الوحدة الوطنية

لـ تدعيم السياسة العامة للدولة

٢١. أهمية محكمة العدل الدولية

لـ الجهاز القضائي الأساسي للأمم المتحدة وتختص بالنظر في القضايا التي تضعها الدول امامها وتقديم الاستشارات القانونية للهيئات الدولية

٢٢. لمنظمة اليونسكو دور ثقافي رائد في مصر

لـ حيث ساهمت في انقاذ معبد ابو سمبل

لـ واحياء مكتبة الاسكندرية

٢٣. لمنظمة اليونسكو دور ثقافي رائد في مصر

لـ حيث ساهمت في انقاذ معبد ابو سمبل

لـ واحياء مكتبة الاسكندرية

٢٤. لمنظمات المجتمع المدني دور مكمل للعمل الحكومي

لـ حيث تقدم خدمات اجتماعية وتنفيذ برامج تنمية عن طريق

٢٥. لمنظمات المجتمع المدني دور مكمل للعمل الحكومي

لـ حيث تقدم خدمات اجتماعية وتنفيذ برامج تنمية عن طريق

٢٦. لمنظمات المجتمع المدني دور مكمل للعمل الحكومي

لـ حيث تقدم خدمات اجتماعية وتنفيذ برامج تنمية عن طريق

٢٧. لمنظمات المجتمع المدني دور مكمل للعمل الحكومي

لـ حيث تقدم خدمات اجتماعية وتنفيذ برامج تنمية عن طريق

٢٨. لمنظمات المجتمع المدني دور مكمل للعمل الحكومي

لـ حيث تقدم خدمات اجتماعية وتنفيذ برامج تنمية عن طريق

٢٩. لمنظمات المجتمع المدني دور مكمل للعمل الحكومي

لـ حيث تقدم خدمات اجتماعية وتنفيذ برامج تنمية عن طريق

٣٠. لمنظمات المجتمع المدني دور مكمل للعمل الحكومي

لـ حيث تقدم خدمات اجتماعية وتنفيذ برامج تنمية عن طريق

٣١. لمنظمات المجتمع المدني دور مكمل للعمل الحكومي

لـ حيث تقدم خدمات اجتماعية وتنفيذ برامج تنمية عن طريق

٣٢. لمنظمات المجتمع المدني دور مكمل للعمل الحكومي

لـ حيث تقدم خدمات اجتماعية وتنفيذ برامج تنمية عن طريق

٣٣. لمنظمات المجتمع المدني دور مكمل للعمل الحكومي

لـ حيث تقدم خدمات اجتماعية وتنفيذ برامج تنمية عن طريق

٣٤. لمنظمات المجتمع المدني دور مكمل للعمل الحكومي

لـ حيث تقدم خدمات اجتماعية وتنفيذ برامج تنمية عن طريق

فاص بطلاب

الصف الثالث الإعدادي

المرابعة العامة والنهائية

في الجغرافيا دس ، ج ،

الفصل الدراسي الثاني ،

مع تحيات مدرسة الهغازي الإعدادية بنات



صح ، خطأ

السؤال الأول ضع كلمة (صح) أمام العبارة الصحيحة وكلمة (خطأ) أمام العبارة غير الصحيحة مع التصويب /

تسود الزراعة الكثيفة في المناطق الحارة على هوامش الغابة الاستوائية (خطأ) الزراعة البسيطة والبداوية.

تحتل الصين المركز الأول في إنتاج القمح (صح)

آسيا الأولى في إنتاج القمح والقطن (صح).

القطن هام في إنتاج الخيوط التي تستخدم في الملابس (صح).
تتركز زراعة القطن في أوروبا والهند أكبر الدول المنتجة له (خطأ) في آسيا.

يحتاج الشاي إلى تربة خصبة خفيفة ومناخ حار ومطر غزير (صح)
أكبر دول العالم في القمح والشاي هي مصر (خطأ) الصين
يستخدم الذرة في أمريكا الشمالية غذاء للإنسان (خطأ)
غذاء للحيوانات.

أستراليا من الدول المنتجة للقمح والسكر (خطأ) البرازيل.
القطن من المحاصيل المدارية و من محاصيل الألياف ويتركز إنتاجه في آسيا (صح)

البنجر محصول الغذاء الرئيسي للعالم ويصنع منه الخبز (خطأ)
القمح.

أوروبا الأولى في الذرة (خطأ) أمريكا الشمالية.

الزراعة البسيطة / هي زراعة قليلة السكان ضيقه المساحة لا يوجد بها فائض تصدير تتركز زراعة القطن في أوروبا والهند أكبر الدول المنتجة له .

الزراعة الكثيفة / هي زراعة الأرض مره واحده لاشباع حاجه السكان حيث كثافة السكان العالية .

الزراعة الواسعه / تعرف بالانتاج الكبير التجاري وتستخدم الآلات المطاط / يستخرج من الغابة الاستوائية وآسيا أولى القارات منه

مع تحيات مدرسة الهجازي الإعدادية بقات

صح ، خطأ

يوجد الرعي البدائي في براري الولايات المتحدة (خطأ) التجاري
مصر الأولى عالميا في تربية الابقار (خطأ) الهند .

تشتهر استراليا باجود الاصواف (صح) .

الولايات المتحدة الاولى في انتاج الأسماك (خطأ) . الصين .

اندونيسيا من أهم الدول المنتجة للأسماك (صح)

يوجد الرعي البدائي شمال آسيا وأوروبا في التندرا وشمال

أفريقيا (صح)

يوجد الرعي التجاري في الاستبس القصيرة وتعرف بالبراري

بأمريكا (صح)

البرازيل الاولى في تربية الدواجن (خطأ) الولايات المتحدة .

شمال غرب أوروبا أهم الأماكن في الأسماك (صح)

تعد الصين ثم استراليا أولى العالم في الحديد (صح)

استراليا الأولى عالميا في الفحم (خطأ) الصين .

موريتانيا دولة نامية تستورد الحديد (خطأ) تصدره .

الفحم طاقة هامة قليلة التلوث البيئي (خطأ) الغاز او البترول .

الهند الأولى في العالم في الفحم (خطأ)

الثالثة بعد الصين وأمريكا .

دول الكاريبي تسهم ب ٤٧٪ من تجارة البترول (خطأ)

دول الخليج .

أكبر الأقاليم الصناعية شمال شرق ألمانيا (خطأ) شمال شرق

الولايات المتحدة .

السعودية الأولى في البترول ١٣٪ عالميا (صح)

الفحم والرياح ٥٥٪ من طاقة العالم (خطأ) البترول ٣٠٪ + الغاز

٢٥٪ .

أمريكا أولى العالم في المساحة (خطأ) الرابعة بعد روسيا وكندا

والفحاحيات مدرسة الغازي الإعدادية بنات

صح ، خطأ

فحم البيتوميني هو الاجود والاقل تواجدا (خطأ)
الأوسع انتشار واستخدام في الصناعة
العراق هي الاولى في انتاج البترول (خطأ) السعودية ١٣ % عالميا
الكهرباء الحرارية من المد و الشلالات والسدود (خطأ)
الكهرومائية .

هونشو أهم منطقة صناعية في إقليم روسيا وأوكرانيا (خطأ) .
شرق آسيا .

يتركز سكان الهند في السهول الساحلية والفيضية حيث وجود
المدن (صح)

قل انتاج الهند في المحاصيل مؤخرا (خطأ) زاد بشدة .
نيودلهي العاصمة التجارية للهند (خطأ) العاصمة السياسية
تستورد مصر من الهند الفوسفات والقطن (خطأ) تصدر لها مصر
تنمو الغابات الموسمية على جبال اللفات والدكن بالهند (خطأ)
الدكن بها الحشائش .

تنمو الغابات الاستوائية على سواحل الهند (خطأ)
الغابات الاستوائية على جبال اللفات.

تنمو الغابات الموسمية على السواحل الشرقية والغربية (صح)
يتركز سكان البرازيل على الساحل الشمالي الشرقي حيث المدن
الرئيسية (خطأ) الجنوب الشرقي .

تعد البرازيل اولى دول العالم في البن والقصب (صح)
تفتقر البرازيل الى الحديد والبوكسيت (خطأ) تصدرهما .
تتركز الصناعة في الجنوب الغربي قرب ساو باولو وريودي جانيرو
(خطأ) الجنوب الشرقي .

نيويورك ميناء هام على الاطلنطي (صح)
يقبل المطر على الأحواض الجنوبية مع ارتفاع الحرارة (صح) .
امريكا يقع جزء منها جنوب الاستواء (خطأ) جنوب السرطان

مع تحيات مدرسة الغازي الإعدادية بقات

صح ، خطأ

برازيليا العاصمة القديمة وهي من اجمل مدن العالم (خطأ)
ريودي جانيرو

تنمو حشائش المراعي الدائمة الغنية في هضبة البرازيل (صح)
أبوجا العاصمة القديمه ولاجوس اكبر المدن (خطأ)
ابوجا العاصمة الحديثة

تنتج نيجيريا الفحم من الشرق (صح).

يزرع المطاط والارز في جنوب نيجيريا (صح)

يتركز السكان في جنوب نيجيريا (خطأ) يقل.

نيجيريا اكبر دول افريقيا سكانا (صح)

يتركز سكان نيجيريا في الشمال وهضبة جوس (صح)

تونس الأولى في أفريقيا في المطاط (خطأ) نيجيريا.

يعمل بالصناعة ثلث القوى العاملة بالمانيا (صح)

تزدهر الصناعة الألمانية لتدفق الاستثمارات (صح)

برلين أهم الموانئ وهامبورج العاصمة (خطأ)

برلين العاصمة وهامبورج أهم الموانئ.

ميونخ عاصمة بافاريا غرب ألمانيا (خطأ) جنوب المانيا.

يحد ألمانيا من الشمال بحر العرب والاسود (خطأ)

البحر البلطي وبحر الشمال.

توجد جبال بألمانيا وبها قمم مرتفعة يكسوها الجليد شتاء (صح)

تغطي الغابات ثلث ألمانيا مثل الغابة الاستوائية والمدارية (صح)

تتسم المرتفعات الشمالية غربية بندره المطر والحرارة المنخفضة

(خطأ) المطر غزير.

يتركز نصف سكان أمريكا في نيو انجلند ١٢٪ من المساحة (صح)

شيكاغو أكبر الموانئ على الهادي (خطأ) لوس أنجلوس.

يطلق على مرتفعات الشرق جبال الروكي (خطأ) الأبلاش.

مع تحيات مدرسة الغازي الإعدادية بقات

اكمل العبارات

- 1 . تستخدم الذرة الشامية في أمريكا الشمالية كعلف للحيوان .
- 2 . أكبر الأقاليم الصناعية في العالم الجديد إقليم شمال شرق الولايات المتحدة .
- 3 . يشكل البترول والغاز الطبيعي نحو ٥٥٪ من الطاقة المستخدمة في العالم .
- 4 . من الدول المصدرة للحديد **موريتانيا** وأولى الدول المنتجة **الصين و استراليا** .
- 5 . أولى الدول العربية في توليد الطاقة الكهربائية من الرياح **مصر و المغرب** .
- 6 . تعد **الأبقار** المصدر الرئيسي للحوم الحمراء لغالبية سكان العالم .
- 7 . من أهم الدول المصدرة للأسماك **الصين والنرويج و تايلاند** .
- 8 . أكبر دول العالم إنتاج للسكر دولة **البرازيل** .
- 9 . الموطن الأصلي لمحصول الشاي **شرق آسيا** .
- 10 . من محاصيل الألياف وتتركز زراعته في قارة **آسيا القطن** .
- 11 . يعد البوكسيت الخام الرئيسي المعدن **الألومنيوم** .
- 12 . يعد قصب السكر من المحاصيل الأساسية لإنتاج السكر ويزرع في المناطق **الحارة** .
- 13 . تعد **نيجيريا أولى** دول أفريقيا إنتاج للمطاط الطبيعي وثاني دول القارة بعد مصر في إنتاج **الأرز** .
- 14 . من الأحياء البحرية القشريات مثل **الجمبري** والرخويات مثل **السيب**
- 15 . **الصين** أولى دول العالم إنتاج اللحوم ومعظمها من لحوم **الخنزير** .
- 16 . تحتل دولة البرازيل حوالي **نصف** مساحة قارة أمريكا الجنوبية
- 17 -تمتد البرازيل بين دائرتي عرض **٥ شمالا و ٣٣ جنوب**

مع تحيات مدرسة الهغازي الإعدادية بتات

اكمل العبارات

- 21- يسود المظهر **الهضبي** معظم أراضي البرازيل
- 22 . - يسود المناخ **الاستوائي** في حوض الأمازون بالبرازيل بينما يسود المناخ **المعتدل** في أقصى الجنوب الشرقي
- 23 . - تنمو حشائش السافانا بالبرازيل في **هضبة البرازيل** بينما تنمو الحشائش المعتدلة قرب **الاطراف الجنوبية** .
- 24 - يبلغ عدد سكان البرازيل **٢٠٣** عام **٢٠١٤** مليون نسمة يمثلون **نصف (٥٠٪)** عدد سكان أمريكا الجنوبية
- 25 . - يتركز سكان البرازيل في الساحل **الجنوبي الشرقي**
- 26 . يعمل بالزراعة في البرازيل أكثر من **٢٥٪** من القوى العاملة
- 27 . تتركز الصناعة جنوب شرق البرازيل بالقرب من مدينتي **ساو باولو و ريو دي جانيرو** .
- 28 . العاصمة الجديدة للبرازيل مدينة **برازيليا** .
- 29 . تستورد مصر من البرازيل **الحبوب الغذائية والسكر و المعادن (خاصة الحديد) و اللحوم و البن**
- 30 . تصدر مصر للبرازيل **الأقطان و المواد الغذائية و الأثاث و المنسوجات و الأسمدة** .
- 31 . تقع ألمانيا في غرب قارة **أوروبا** .
- 32 . - تطل ألمانيا على البحر **البلطى و بحر الشمال**
- 33 . - يحد ألمانيا من الجنوب **النمسا و سويسرا**
- 34 . - تجرى في السهل الألماني الشمالي انهار نهر **إلب** ونهر **الراين** .
- 35 . - تغطى الغابات **ثلث** مساحة ألمانيا وأهمها الغابات **النفضية والمخروطية** .
- 36 . - تنتشر الزراعة في ألمانيا في **السهل الشمالي و الأودية النهرية** .

اكمل العبارات

- 37 . - العاصمة السياسية لألمانيا مدينة برلين .
- 38 - تصدر مصر إلى ألمانيا البترول و الغاز الطبيعي و الملابس وتستورد الصناعات الكيماوية و الأثاث و السيارات
- 39 - تمتد جمهورية الهند فيما بين دائرتي عرض ٨ درجة شمالا و ٣٥ درجة شمالا .
- 40 - تمتد جمهورية الهند فيما بين خطي طول ٦٨ و ٩٧ شرقا .
- 41 . - تقع معظم دولة بنجلاديش داخل الهند .
- 42 . - يحد الهند من الشمال الشرقي دولة ميانمار .
- 43 . - تبلغ مساحة الهند حوالي ٣٠ ٢ مليون كم 2
- 44 . - تمتد شمال شرق الهند سهول نهر الجانج بينما في جنوبها سهول نهر كوفرى .
- 45 . - السهول الساحلية شرق الهند تعرف بسهول كروماندل .
- 46 . - تسقط الأمطار الموسمية صيفا على جنوب الهند .
- 47 . تنمو الغابات الموسمية على السواحل الغربية والشرقية بالهند بينما تنمو الحشائش القصيرة على هضبة الدكن .
- 48 . - واجهت الهند المشكلة السكانية عن طريق الاهتمام بالتعليم و تطوير البحث العلمي .
- 49 . - تعد الهند ثالث دول العالم انتاجا للفحم وتوجد مناجمه في هضبة الدكن .
- 50 - لجأت الهند إلى الطاقة النووية و الكهربائية بديلا عن البترول ومصادر الطاقة الأخرى
- 51 . - العاصمة السياسية للهند مدينة نيودلهي بينما العاصمة التجارية مدينة بومباي .
- 5٢ . - تستورد مصر من الهند غزل القطن - السمسم - الشاي - التوابل - قطع غيار وسائل النقل .

اكمل العبارات

53 . - تصدر مصر للهند القطن و الفوسفات و الاسمدة الخام و المصنعة و الجلود .

54 . تمتد جمهورية نيجيريا فيما بين دائرتي عرض ٤ و ١٤ شمالا

55 . - تمتد جمهورية نيجيريا فيما بين خطي طول ٢٠.٣ و ١٤.٣ شرقا

56 - يحد نيجيريا من الشمال دولة النيجر ومن الغرب دولة بنين .

57 . - تقع هضبة جوس بنيجيريا وسط السهول الشمالية بينما تقع التلال شمال السهول الساحلية .

58 . - تقع معظم نيجيريا في المناخ المداري ما عدا الأجزاء الجنوبية تقع ضمن مناخ الاستوائي .

59 . - يتركز سكان نيجيريا في الغرب و السهول الشمالية و هضبة جوس ويقلون في دلتا نهر النيجر جنوب نيجيريا .

60 . - يستخرج القصدير في نيجيريا من هضبة جوس بينما يستخرج الفحم من المنطقة الشرقية .

61 . - العاصمة القديمة لنيجيريا مدينة لاجوس بينما العاصمة الحالية ابوجا .

62 . - تصدر مصر إلى نيجيريا الأسمدة و المعدات الثقيلة و الاطارات .

63 . - تمتد الولايات المتحدة الأمريكية بين دائرتي عرض ٢٥ و ٤٩ درجة شمالا .

64 - يحد الولايات المتحدة من الشمال دولة كندا ومن الجنوب دولة المكسيك .

65 - يطلق على المرتفعات الشرقية للولايات المتحدة جبال الأبلش .

66 . - يتركز نحو 50% من سكان الولايات المتحدة في إقليم نيو انجلند في المنطقة الشمالية الشرقية .

بم تفسر

ممارسة الإنسان العديد من الأنشطة التقليدية في الماضي بسبب قلة عدد البشر قسوة البيئة - عدم توافر الإمكانيات العلمية. يعتبر النشاط الزراعي من الأنشطة الاقتصادية الأساسية في العالم. لأنه مصدر رئيسي لغذاء الإنسان . - مصدر لتربية الحيوان . - مصدر للمواد الخام (زراعية / حيوانية / معدنية).

تحتاج الزراعة الكثيفة إلى أيدي عاملة كثيرة.

لأنها تتم من خلال عمليات عديدة مثل بذر الحبوب والري وتنقية الحشائش .

صعوبة استخدام الآلات والمكيننة الزراعية في مناطق الزراعة الكثيفة بسبب ضيق وصغر مساحة الحقول الزراعية .

تتميز الزراعة التجارية بالتخصص في محصول واحد . (توجد الزراعة التجارية في نطاقات محددة) .

لأنها تهدف إلى الإنتاج التجاري الضخم .

انخفاض التكاليف وقلة عدد العمال في الزراعة التجارية والعلمية لأنها تعتمد على استخدام الآلات والمكيننة الزراعية الحديثة

تعرف الزراعة التجارية والعلمية بنظام الزراعة الواسعة

لأنها تتم في مزارع واسعة و باستخدام آلات وميكنة زراعية حديثة يزرع قصب السكر في كل القارات ما عدا أوروبا

لوقوع قارة أوروبا في المنطقة المعتدلة وقصب السكر يحتاج إلى مناخ مداري .

تركز زراعة البنجر في قارة أوروبا .

لتوافر ظروف زراعته من حرارة معتدلة وتربة زراعية ملائمة

لجوء الهند للطاقة النووية والكهربائية .

أنها تفتقر للبتروول ومصادر الطاقة الأخرى .

أهمية محصول القطن في العالم .

إنتاج خيوط تستخدم في صناعة أجود الملابس والمنسوجات . مصدر لاستخراج زيت بذرة القطن وصناعة الأعلاف .

مع تحيات مدرسة الغازي الإعدادية بنات ٩

بم تفسر

- شهرة القطن المصري والسوداني .
- لأنه من النوع طويل التيلة .
- تعد الصين أولى دول العالم المنتجة للشاي .
- لتوافر ظروف الزراعة من تربته من خصبة خفيفة ومناخ حار وهواء رطب ومطر غزير .
- أهمية المطاط الطبيعي .
- يستخدم في صناعة إطارات السيارات .
- قلة عدد القائمين على حرفة الرعي البدائي في شبه الجزيرة العربية و بادية الشام / ودول وسط آسيا .
- أ - في شبه الجزيرة العربية وبادية الشام : لتدفق البترول وتوطين البدو .
- ب - ودول وسط آسيا : لانتشار التعليم .
- أهمية الثروة الحيوانية في العالم .
- تعد المصدر الرئيسي للحوم الحمراء والألبان بجانب الجلود والصوف وغيرها .
- تعد الصين أكبر دول العالم العربية للأغنام .
- لتوافر الحشائش التي تربي عليها .
- زيادة معدل الاستهلاك العالمي من اللحوم الحمراء .
- لارتفاع مستوى المعيشة .
- تعتبر أستراليا أولى دول العالم في إنتاج الصوف .
- بسبب تربية أستراليا الأغنام المارينو المشهورة بغزارة الصوف .
- تعد الصين وإندونيسيا والولايات المتحدة من أوائل الدول في إنتاج الأسماك في العالم .
- بسبب طول السواحل على البحار والمحيطات. - تقدم وسائل الصيد .
- أهمية اصطياد الحيتان .
- للاستفادة من لحومها وشحومها .
- ازدهار صناعة الألمونيوم في العالم المتقدم
- لتوافر مقومات صناعته بها مثل الكهرباء والخبرة الفنية

بم تفسر

تطور حرفة صيد وتربية الأسماك

لتوافر المقومات الطبيعية (ضخالة المياه الساحلية – التقاء التيارات البحرية الدافئة والباردة - توافر الموانئ) والعوامل البشرية (توافر الخبرات الفنية والعلمية في تطوير صناعة المراكب وأدوات الصيد والثلاجات. – التوسع في تربية الأسماك على أسس علمية حديثة).
تربية الأسماك على أسس علمية حديثة).

انتشار حرفة صيد الأسماك على سواحل القارات

لتوافر العوامل الطبيعية والبشرية لحرفة صيد الأسماك بها.

توطن صناعة الألومنيوم في الدول المتقدمة (تصدر الدول النامية خام البوكسيت إلى الدولة المتقدمة).

بسبب توافر مقومات صناعة الألومنيوم في الدول المتقدمة من

(طاقة كهربائية وخبرة فنية وعلمية وسوق محلية وخارجية استوع

الإنتاج) و عدم توفرها في الدول النامية المنتجة للبوكسيت. [

التوسع في استخدام الغاز الطبيعي كمصدر للطاقة .

لأنه من مصادر الطاقة أقل تلويثا للبيئة - و الرخيصة - وسهلة النقل

تطور الصناعة تطورا مذهلا في الدول المتقدمة

لأنها : - أخذت بالأساليب العلمية - تطبيق الأبحاث والتجارب

العلمية. تطوير وتحديث المنتجات الصناعية بشكل مستمر .

يعد إقليم شمال شرق الولايات المتحدة الصناعي أكبر الأقاليم

الصناعية في العالم الجديد . .

التوافر كل مقومات الصناعة .

دولة الهند عبارة عن شبه جزيرة

يحيط بها الماء من ثلاث جهات ماعدا الشمال

القيمة المحدودة للأبقار في الهند

لتقديسها بسبب وجود الديانة الهندوسية التي تحرم ذبح البقر .

يقل عدد السكان بنطاق المرتفعات والأحواض الغربية بالولايات

المتحدة .

بسبب وعورة التضاريس والظروف الطبيعية الصعبة .

بم تفسر

- تعد الهند من الدول الرئيسية المنتجة للأسماك .
تطل على خلجان بسواحل بحرية طويلة
تطور الصناعة في الهند .
لتوافر مقومات الصناعة بها . (ايدي عاملة . خبرات فنية . مواد خام وغيرها)
- تركز سكان البرازيل على الساحل الجنوبي الشرقي .
لتوافر المدن الصناعية
إنشاء البرازيل لمدن جديدة مثل برازيليا ومينأؤوس .
لدفع السكان للهجرة نحو الداخل .
امتلاك البرازيل ثروة حيوانية كبيرة ومتنوعة .
لاتساع المراعي بها
- قلة عدد السكان في نيجيريا في دلتا النيجر .
لوجود المناخ الاستوائي
تنتج نيجيريا كميات كبيرة من الأسماك .
للمصايد على خليج غينيا ونهر النيجر والبحيرات
انكماش مساحة الحشائش في ألمانيا .
لإحلال الزراعة والتوسع العمراني .
جذب المرتفعات الوسطى في ألمانيا للسياح
لوجود التلال و الينابيع المائية .
تطور الصناعة الألمانية بعد الحرب العالمية الثانية
لتدفق الاستثمارات واستخدام التكنولوجيا
شهرة مدينة ميونخ .
مركز صناعة السيارات .
تنوع المناخ والنبات الطبيعي بالولايات المتحدة
لاتساعها وتنوع السطح
قلة عدد سكان ألاسكا بالولايات المتحدة
لشدة البرودة .

بم تفسر

اهمية الحديد

يدخل في كثير من الصناعات مثل الحديد والصلب

اهمية النحاس

يدخل في الصناعات مثل الأسلاك والادوات الكهربائية

اهمية البوكسيت

هو الخام الرئيسي لصناعة الالمونيوم

تكون الفحم

تكون من بقايا الأشجار التي انطمست منذ ملايين السنين ونتيجة

للضغط والحرارة تكون الكربون

أهمية الفحم

عماد الصناعة في القرن ١٨ وظل مصدر للطاقة حتى القرن ٢٠

وحتى اليوم هو مصدر للطاقة

تكوين البترول

تحلل كائنات عضوية بحرية وغطتها الرواسب وتحلت وتحولت

لبترول

اهمية البترول

يرتبط به التنمية الاقتصادية والاجتماعية - والعلاقات السياسية

والمشاكل الدولية - ومعه الغاز الطبيعي يشكل ٥٥ ٪ من طاقة

العالم .

سكان البرازيل خليط من عدة اجناس

لأنه يوجد بها خليط من السكان من اجناس مختلفة مثل :

١- السكان الأصليون للبلاد (الهنود الحمر)

٢- العناصر السوداء ذات الأصول الإفريقية 3 البرتغاليون .

تعتبر منطقة نيو انجلند بالولايات المتحدة أكثر المناطق ازدهاما

بالسكان

لوجود المدن الكبرى مثل نيويورك و المناطق الصناعية والتجارية

الكبرى

ما النتائج المترتبة علي

- صغر مساحة الحقول الزراعية في نطاق الزراعة الكثيفة
- صعوبة استخدام الآلات والميكنة الزراعية
- استخدام الطرق العلمية في الزراعة التجارية والعلمية
- أدى لقلة عدد العمالة وقلّة التكاليف .
- انتشار التعليم في قبائل دول وسط آسيا
- قلة عدد العاملين في حرفة الرعي البدائي بدول وسط آسيا .
- توافر الحشائش في الصين .
- جعلها من أكبر دول العالم في تربية الأغنام / وفي إنتاج اللحوم .
- تدفق البترول وتوطين البدو في شبه الجزيرة العربية وبادية الشام
- قلة عدد العاملين في حرفة الرعي البدائي .
- عدم توافر الطاقة الكهربائية والخبرة الفنية بالدول النامية المنتجة للبوكسيت .
- أدى تصدير البوكسيت للدول المتقدمة .
- زيادة الطلب على البترول وتعدد استخداماته
- ارتفاع أسعاره بشكل مستمر .
- توافر مقومات الصناعة في شمال شرق الولايات المتحدة الأمريكية
- جعله أكبر الأقاليم الصناعية بالعالم الجديد .
- الوحدة الاقتصادية الأوروبية .
- التكامل في الجوانب الاقتصادية وحماتها وتدعيمها جمركية من جانب الاتحاد الأوروبي .
- تحريم الديانة الهندوسية أكل لحوم الأبقار .
- أدى إلى جعل القيمة الاقتصادية للأبقار في الهند محدودة ..
- معرفة الإنسان الزراعة منذ أقدم العصور
- أدى إلى استقرار الإنسان على ضفاف الأنهار ..
- صغر المساحة في الزراعة الكثيفة
- صعوبة استخدام الآلات بها .

ماذا يحدث إذا

أنتجت مصر الكهرباء من الأمواج وحركة المد والجزر
يقل التلوث وتكتفي مصر من الطاقة .

لم يتركز إنتاج البترول في دول الخليج العربي
لم تصبح من مراكز الصناعة الحديثة ويقل الدخل القومي بها .
توفرت مصادر الطاقة لدى الدول المنتجة للبوكسيت .

تقوم بتصنيع الألومنيوم بدلا من تصدير البوكسيت خام .
اتبعت مصر نظام الزراعة الواسعة في الصحراء الغربية وشبه جزيرة
سيناء

سوف تنتج مصر إنتاجا زراعية تجارية ضخمة وتقل عدد العمالة
الزراعية والتكاليف وتكتفي من المحاصيل الزراعية .
لم تتوافر مقومات الصناعة في الولايات المتحدة الأمريكية
لم تصبح القوة الصناعية الأولى في العالم .

التوسع في استخدام الغاز كوقود
يقلل من التلوث البيئي التوسع في الصناعة - قلة سعر البترول
لم يوجد البترول في دول الخليج

لما ساهم ب 47 % من تجارته ولما ظهر بها الصناعات البترولية
أخذت الدول النامية بأسلوب تطور الصناعة

لتطورت الصناعة وزاد الدخل وقل تصدير المعادن كخامات
تطورت صناعة نيجيريا

ل زاد الدخل ورفع مستوى المعيشة بالدولة
وقعت البرازيل في المنطقة القطبية

لما زرعت القصب والبن ولما وجد بها الغابات والحشائش
لم توجد الهندوسية في الهند

لأصبحت الأبقار بها ذات قيمة اقتصادية كبيرة في
التجارة الدولية

اثبت بالأدلة ان

معظم الدول المنتجة للألومنيوم ليست هي المنتجة للبوكسيت
تصدير البوكسيت من الدول النامية للدول المتقدمة حيث تتوافر
مقومات صناعة الألومنيوم فأكبر الدول المصنعة للألومنيوم هي
الولايات المتحدة .

هناك عمليات تسبق عملية التعدين .

أ - البحث والكشف عن الخامات . ب - إعداد المنجم لعملية التعدين
توسع العالم في استخدام الغاز الطبيعي .

حيث يستخدم في

[١ - الصناعة على نطاق واسع 2 - الاستخدامات المنزلية - توليد
الطاقة الكهربائية - وقود للسيارات بديلا للبنزين للحد من التلوث .
تطورت الصناعة في الدول المتقدمة تطورا مذهلا .

حيث أن الدول المتقدمة هي التي تطورت فيها الصناعة تطورا
مذهلا آخذة بالأساليب العلمية وتطبيق الأبحاث والتجارب العلمية
في الاختراعات وتطوير وتحديث المنتجات المحلية بشكل مستمر .

أكتب ما تشير إليه العبارات الآتية :

زراعة الأراضي بأكثر من محصول في العام الواحد لإشباع حاجات
السكان من الغذاء (الزراعة الكثيفة) ..

رعى يعتمد على أحدث الأساليب العلمية والتخصص لإنتاج الألبان
واللحوم (الرعي التجاري) .

نوع من الرعي يوجد في المناطق الصحراوية يعتمد على الأساليب
التقليدية (الرعي البدائي) .

نوع من مصادر الطاقة يستخرج من باطن الأرض لا ينتج عنه تلوث
للبنية (الغاز الطبيعي) .

محصول ذات طبيعة خاصة تحتاج زراعته إلى هواء رطب ، وترربة
خصبة خفيفة ، ومطر غزير (الشاي) .

- (التعدين) استخراج المعادن من باطن الأرض
- (القطن) من محاصيل الألياف ويستخدم في صناعة اجود انواع المنسوجات

نباتات كانت موجودة تحولت إلى مواد كربونية سوداء بفعل الضغط والحرارة

- (الفحم) يطلق عليه زيت الصخر ونشأ عن تحلل كائنات بحريه وغطتها
- (البتترول) رواسب من الطين والرمال
- (البوكسيت) معدن يستخدم في صناعة الألومنيوم
- (بنجر السكر) المحصول الثاني لإنتاج السكر
- (طاقة كهربائية) تنتج من حركة الرياح وحركة المد والجزر
- (المطاط) محصول ذات طبيعة خاصة يستخدم في صناعة إطارات السيارات

كهرباء يتم توليدها باستخدام الفحم أو البترول أو الغاز الطبيعي (كهرباء حرارية)

- (كهرباء نووية) كهرباء يتم توليدها عن طريق المحطات النووية
- (كهرباء مائية) كهرباء يتم توليدها عن طريق الشلالات أو السدود

أهم الأقاليم الصناعية في العالم :

اقليم غرب ووسط أوروبا :

بريطانيا - فرنسا - ألمانيا .

اقليم شمال شرق الولايات المتحدة :

يتسع ليشمل البحيرات العظمى ويتكامل مع المناطق الصناعية بكندا

اقليم روسيا وأوكرانيا : مدينة موسكو وما حولها - إقليم الأورال .

اقليم شرق آسيا : جزيرة هونشو باليابان - كوريا - مناطق صناعية

عديدة بالصين .

مراكز الصناعة الحديثة : أ - آسيا (جنوب شرق آسيا مثل ماليزيا

وسنغافورة وإندونيسيا وتايلاند)

ب - الأوقيانوسية أستراليا . ج - أمريكا ش : كندا - المكسيك .

د - البرازيل - الأرجنتين - شيلي .

علاقة مصر مع الدول

العلاقات المصرية الألمانية :

علاقات ثقافية وعلمية بين البلدين تتمثل في :
(هيئة التبادل العلمي الألمانية - المركز الثقافي الألماني - الجامعة
الألمانية بالقاهرة - معهد الآثار الألماني)

علاقات اقتصادية تتمثل في :

تمويل ألمانيا لمحطات توليد الكهرباء من الرياح في مصر
تصدر مصر إلى ألمانيا البترول والغاز الطبيعي والملابس
تستورد مصر من ألمانيا الصناعات الكيماوية والآلات والسيارات

العلاقات المصرية البرازيلية :

ترتبط مصر بالبرازيل بعلاقات قديمة تمتد إلى القرن التاسع عشر ،
منها العلاقات الاقتصادية ، وهناك اهتمام بتوسيع نطاق التبادل
التجاري بين البلدين-

تصدر مصر إلى البرازيل (الأقطان المواد الغذائية - الأثاث -
المنسوجات الأسمدة)

تستورد مصر من البرازيل (الحبوب الغذائية خاصة الزيتية - السكر
- المعادن خاصة الحديد - اللحوم - البن

وضع علاقة مصر بدول الهند

علاقات سياسية واقتصادية حيث تستورد مصر من الهند
(السمسم والتوابل والشاي)

وتصدر مصر إلى الهند (القطن ، الأسمدة ، البترول) .

وضع علاقة مصر بدولة نيجيريا ؟ - علاقات اقتصادية تقوم على
التبادل التجاري حيث تصدر مصر إلى نيجيريا (الأسمدة ، مواشير
الالومنيوم ، والأسلاك النحاسية ، والمعدات الثقيلة) .
وتستورد مصر من نيجيريا (الحبوب الزيتية) .

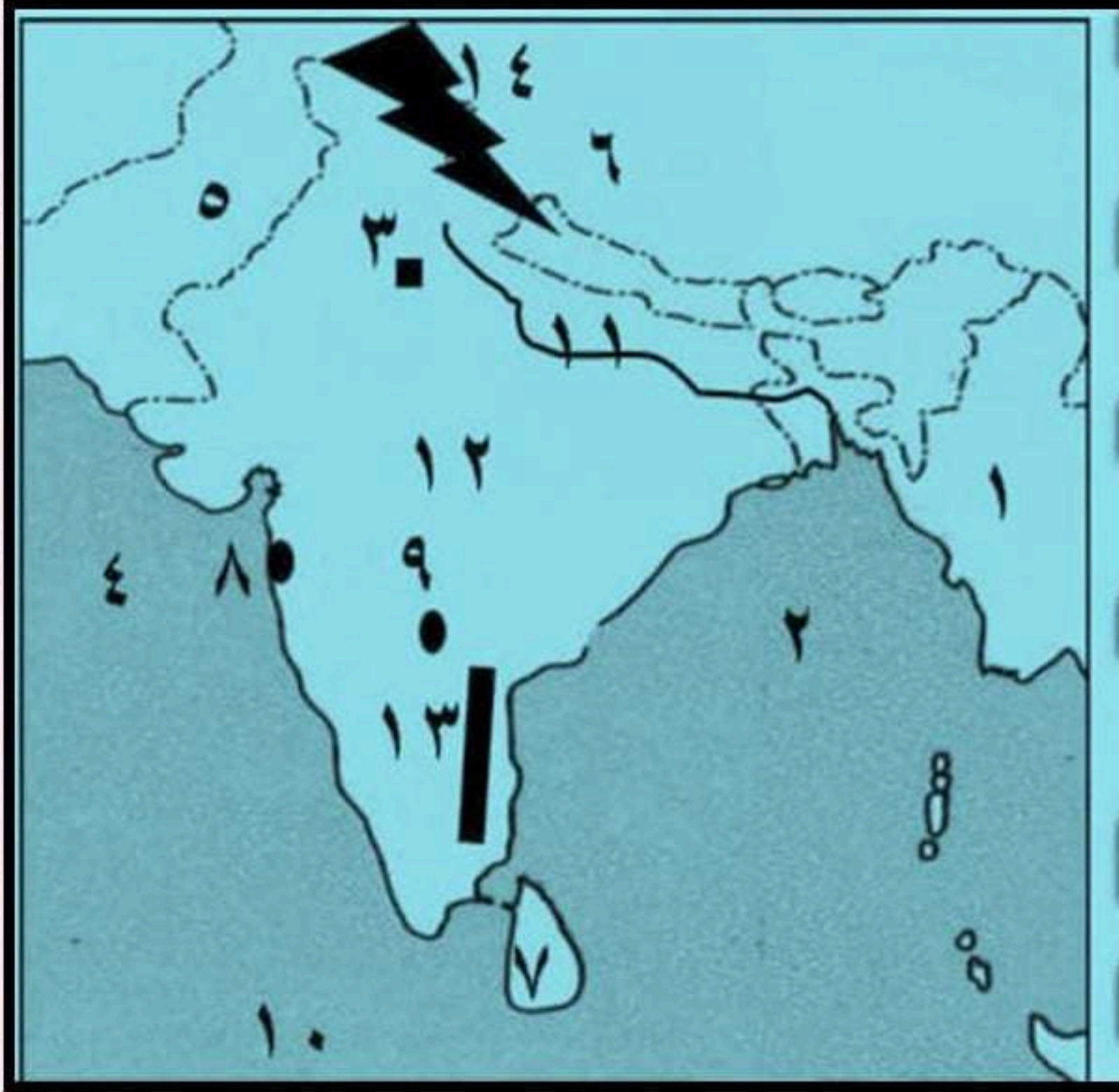
وضع علاقة مصر بدولة الولايات المتحدة الأمريكية ؟

- علاقات ثقافية وعلمية تقوم على التبادل العلمي . . توجد منطقة
للتجارة الحرة . . اتفاقية الكويز .

. وتستورد مصر من الولايات المتحدة (الطائرات ، الأسلحة)

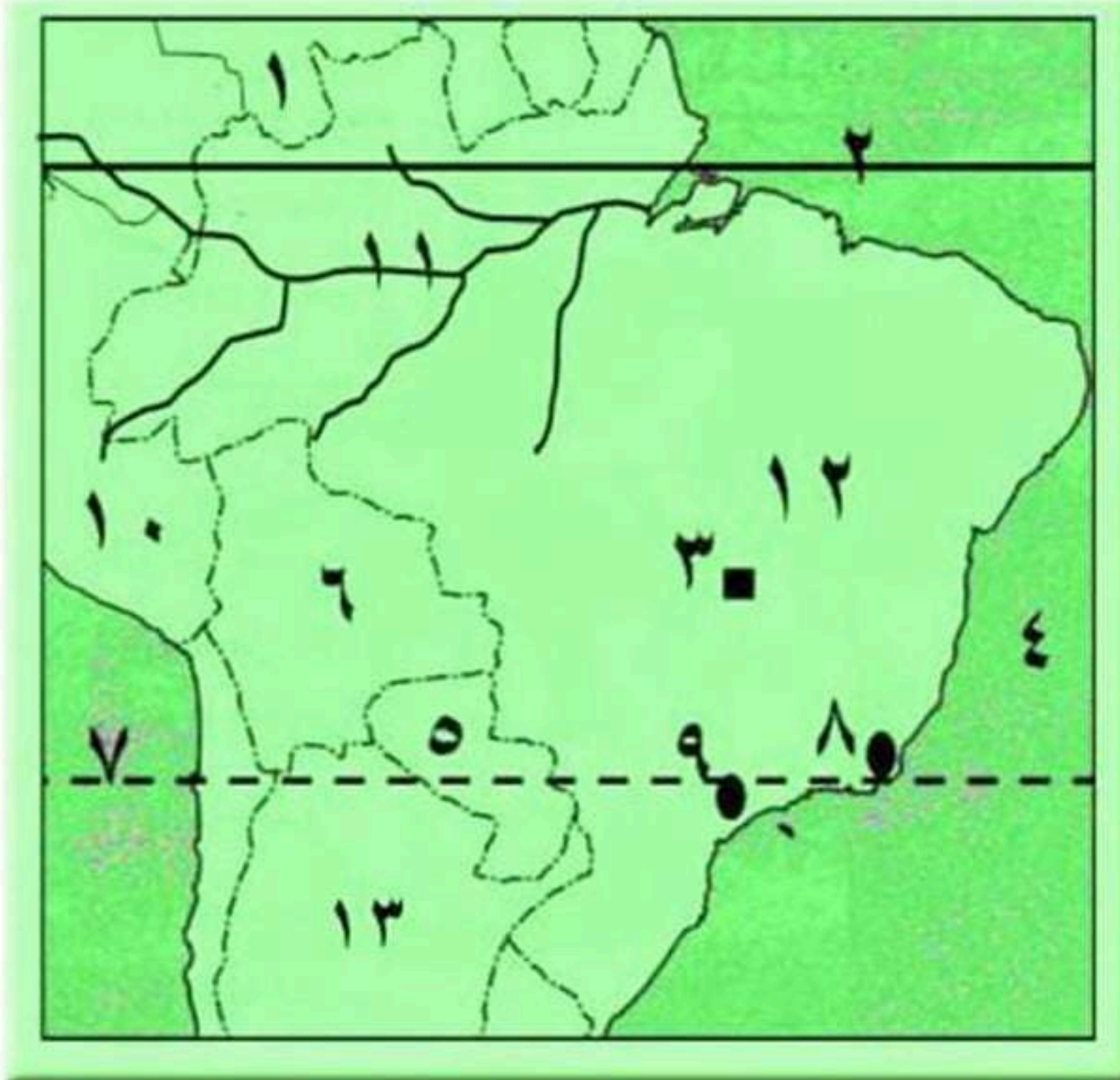
وضح ما تدل عليه بيانات الخريطة

خريطة الهند



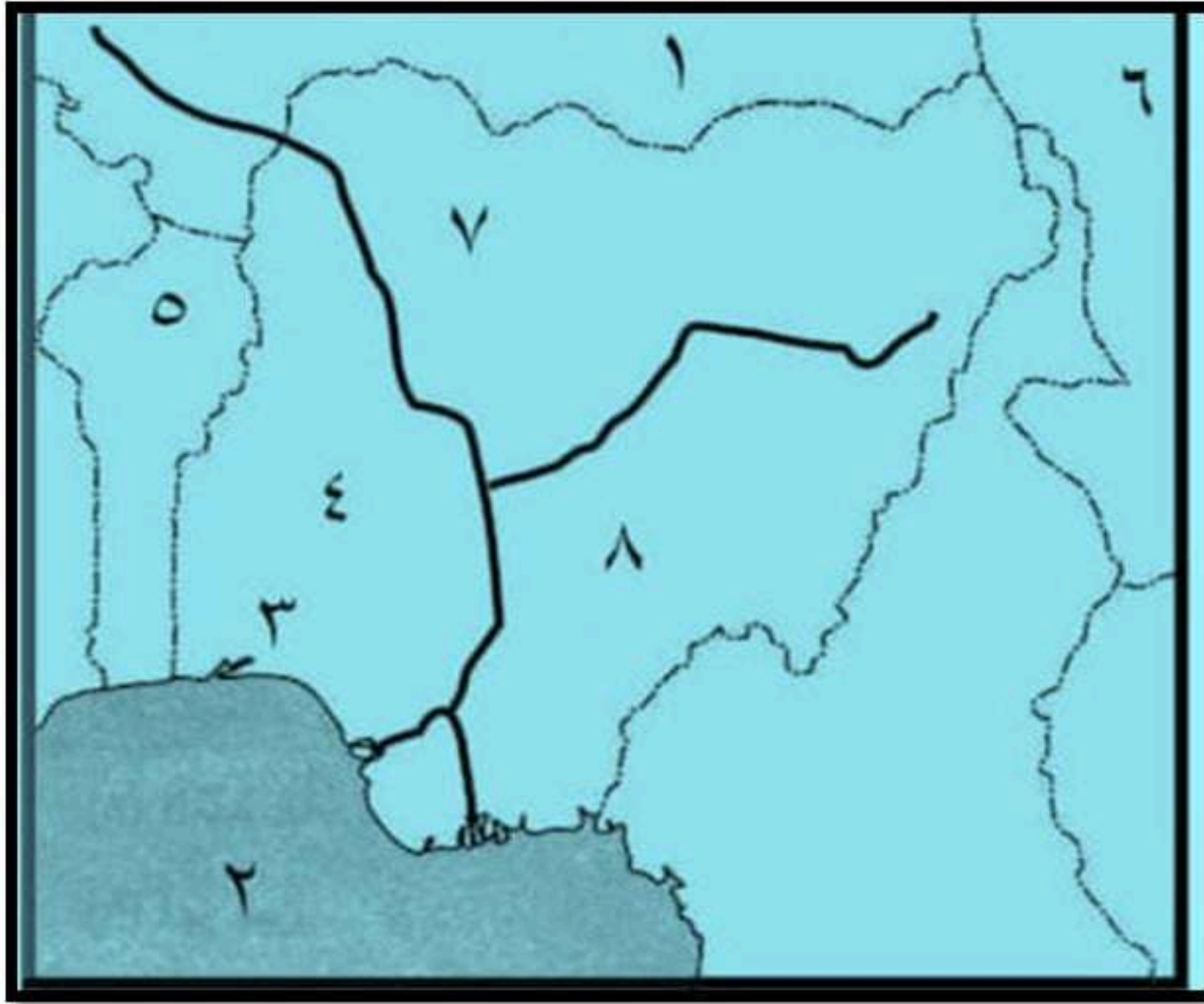
- ١ - دولة ميانمار
- ٢ - خليج البنغال
- ٣ - مدينة نيودلهي
- ٤ - بحر العرب
- ٥ - دولة باكستان
- ٦ - دولة الصين
- ٧ - جزيرة سيلان
- ٨ - مدينة بومباي
- ٩ - مدينة حيدر أباد
- ١٠ - المحيط الهندي
- ١١ - نهر الجانج

خريطة البرازيل



- ١ - دولة فنزويلا
- ٢ - خط الاستواء
- ٣ - مدينة برازيليا
- ٤ - المحيط الأطلنطي
- ٥ - دولة باراجواي
- ٦ - دولة بوليفيا
- ٧ - مدار الجدي
- ٨ - مدينة ريو دي جانيرو
- ٩ - مدينة ساو باولو
- ١٠ - دولة بيرو
- ١١ - نهر الأمازون
- ١٢ - هضبة البرازيل
- ١٣ - دولة الأرجنتين

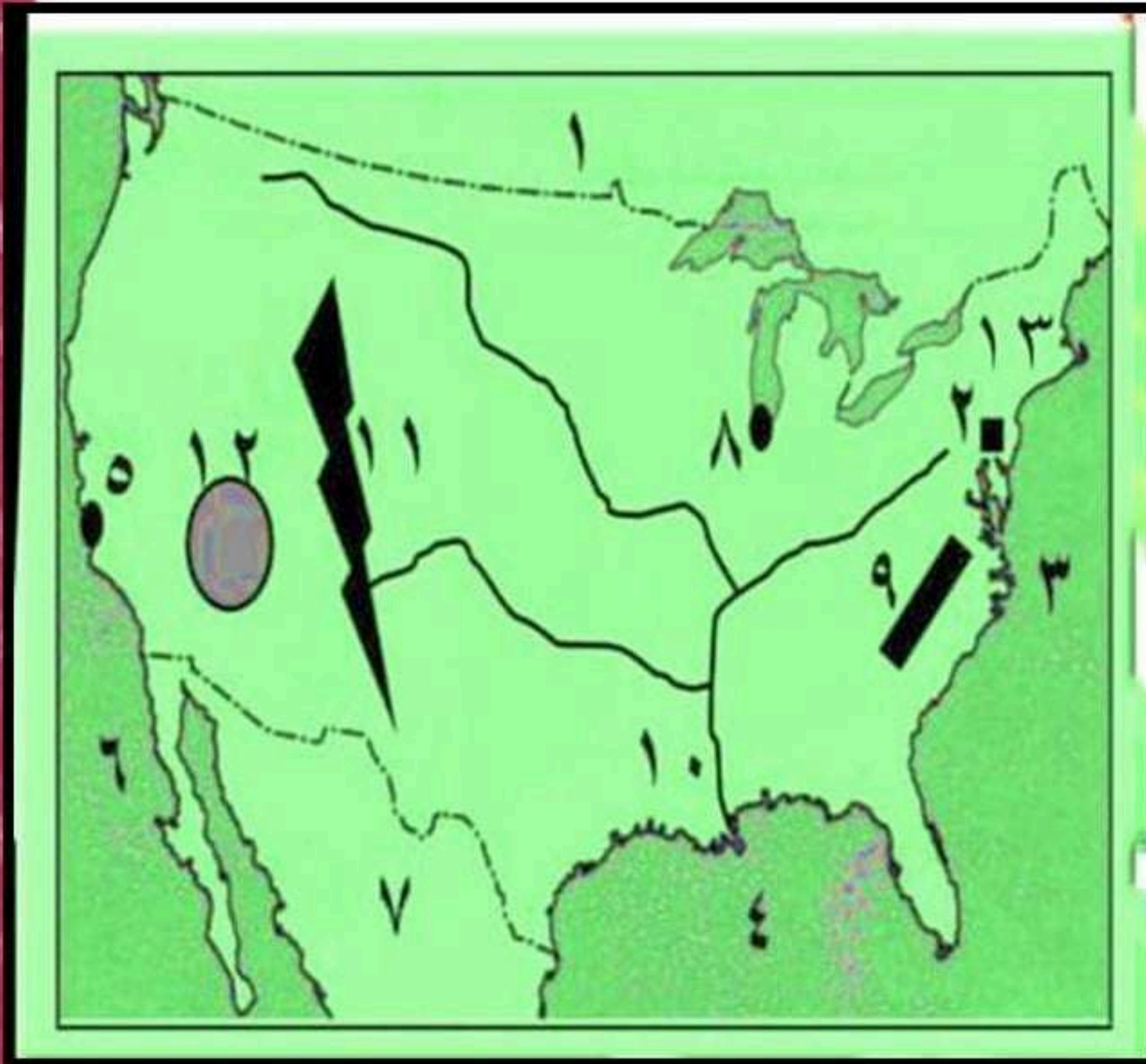
وضح ما تدل عليه بيانات الخريطة



خريطة نيجيريا

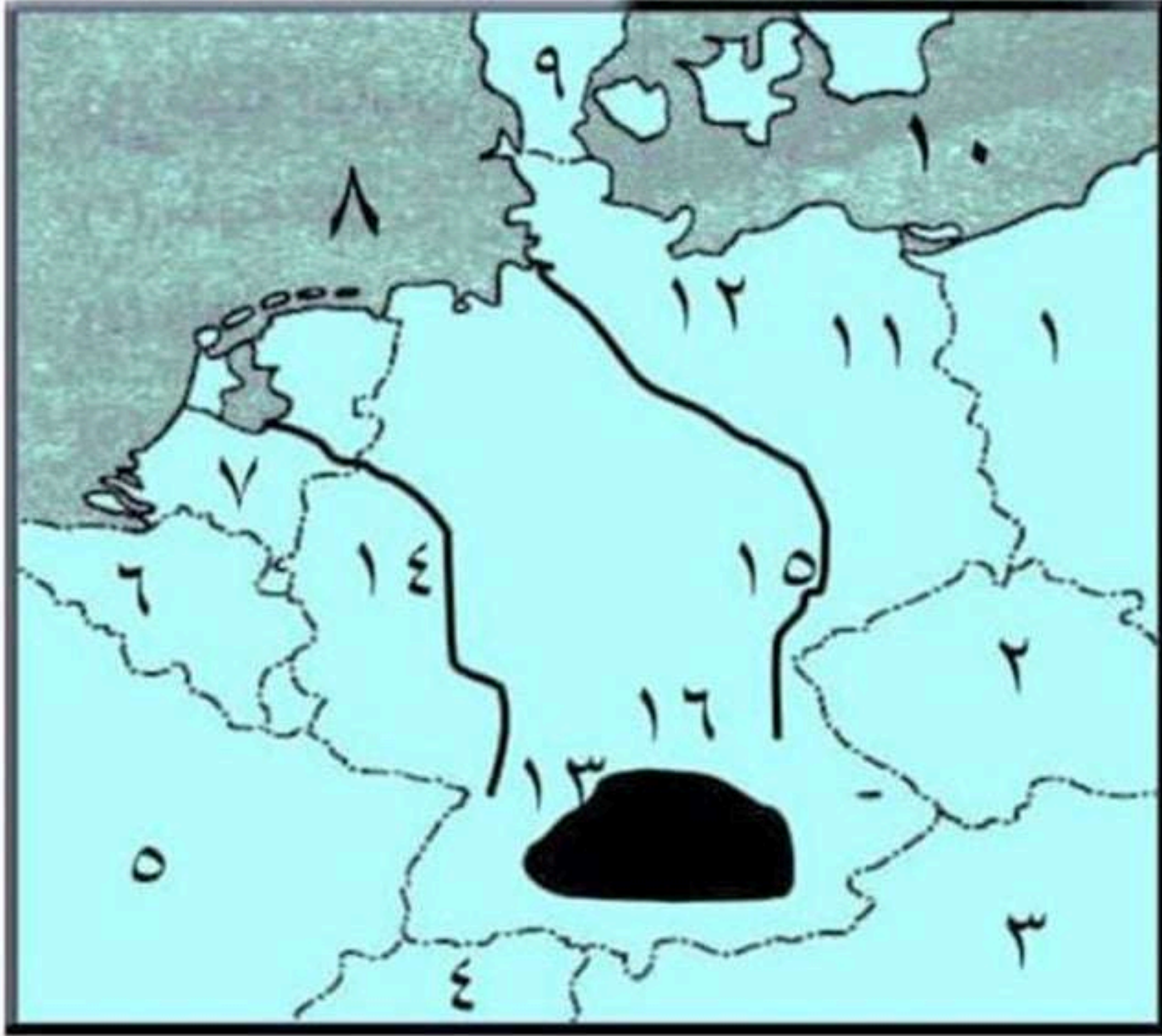
- ١ - دولة النيجر .
- ٢ - خليج غينيا
- ٣ - مدينة لاجوس .
- ٤ - مدينة إيبادان .
- ٥ - دولة بنين .
- ٦ - دولة تشاد .
- ٧ - مدينة أبوجا .
- ٨ - نهر النيجر .

خريطة الولايات المتحدة الأمريكية



- ١ - دولة كندا .
- ٢ - مدينه واشنطن
- ٣ - المحيط الأطلنطي
- ٤ . خليج المكسيك .
- ٥ - مدينة لوس أنجلوس .
- ٦ - المحيط الهادي .
- ٧ - دولة المكسيك .
- ٨ - مدينة شيكاغو .
- ٩ - جبال الأبلش .
- ١٠ . نهر المسيسيبي .
- ١١ . جبال الروكي
- ١٢ - هضبة كلورادو .
- ١٣ . مدينة نيويورك .

وضح ما تدل عليه بيانات الخريطة



خريطة ألمانيا

- ١ - دولة هولندا .
- ٢ - دولة التشيك .
- ٣ - دولة النمسا .
- ٤ - دولة سويسرا .
- ٥ - دولة فرنسا .
- ٦ - دولة بلجيكا .
- ٧ - دولة هولندا .
- ٨ - بحر الشمال .
- ٩ - دولة الدنمارك .
- ١٠ - بحر البلطيق .
- ١١ - مدينة برلين .
- ١٣ - جبال الألب .
- ١٥ - نهر إلب .
- ١٦ - مدينة ميونيخ .

- ١٢ - مدينة هامبورج
- ١٤ - نهر الراين .

مقارنة بين /

الزراعة التجارية	الزراعة الكثيفة	الزراعة البسيطة	التعريف
تعرف بالزراعة الواسعة وتهدف للإنتاج التجاري الضخم.	هي زراعة الأرض بشكل مكثف لأشباع حاجة السكان من الغذاء	هي زراعة يقوم بها عدد قليل من السكان في مناطق صغيرة ومعزولة	
مناطق القمح والقطن بأمريكا ش- مزارع المطاط والشاي ج.ش آسيا	المناطق الحارة والمعتدلة	المناطق الحارة على هوامش الغابات الاستوائية والسافانا	اماكن انتشارها
تهدف للإنتاج التجاري الضخم / تستخدم أحدث الآلات وتتم في مزارع واسعة/ تخصص في محصول واحد/تقل التكلفة والعمالة	تتم من خلال عمليات عديدة / تتطلب أيدى عاملة وفيرة/ يصعب استخدام الميكنة لضيق الحقول/ تزرع الأرض أكثر من مرة	استخدام ادوات بدائية بسيطة/ ضيق المساحة وتباعدها/ تمارس لتوفير الاحتياجات اللازمة للسكان دون وجود فائض للتصدير.	خصائصها
المطاط - القمح - القطن - الشاي	القمح - الأرز - القطن	اليام - الكسافا - الذرة - الموز	المحاصيل

الدول المقررة علي المحافظات

الدول المقررة ٢٠٢٠ - ٢٠٢١ م			المحافظة
البرازيل	نيجيريا	الهند	الأزهر الشريف
ألمانيا	نيجيريا	الهند	البحيرة
ألمانيا	نيجيريا	الهند	الوادي الجديد
ألمانيا	نيجيريا	الهند	الإسماعيلية
ألمانيا	البرازيل	نيجيريا	الإسكندرية
ألمانيا	نيجيريا	الهند	الدقهلية
الولايات المتحدة	نيجيريا	الهند	الجيزة
ألمانيا	نيجيريا	الهند	الشرقية
الولايات المتحدة	نيجيريا	الهند	الفيوم
الولايات المتحدة	البرازيل	نيجيريا	الغربية
ألمانيا	البرازيل	نيجيريا	المنيا
ألمانيا	البرازيل	نيجيريا	مرسى مطروح
ألمانيا	نيجيريا	الهند	القاهرة
الولايات المتحدة	نيجيريا	الهند	دمياط
ألمانيا	نيجيريا	الهند	سوهاج
ألمانيا	نيجيريا	الهند	أسيوط
الولايات المتحدة	البرازيل	نيجيريا	المنوفية
ألمانيا	البرازيل	نيجيريا	قنا
ألمانيا	البرازيل	نيجيريا	الأقصر/أسوان
الولايات المتحدة	ألمانيا	البرازيل	كفر الشيخ
الولايات المتحدة	نيجيريا	البرازيل	السويس/بور سعيد
ألمانيا	الهند	نيجيريا	بنى سويف
الولايات المتحدة	نيجيريا	الهند	قليوبية/البحر الأحمر



فاص بطلاب

الصف الثالث الإعدادي

المرابعة العامة والنهائية

في التاريخ دس ، ج ،

الفصل الدراسي الثاني ،

مع تحيات مدرسة الهغازي الإعدادية بنات

صح ، خطأ

السؤال الأول ضع كلمة (صح) أمام العبارة الصحيحة وكلمة (خطأ) أمام العبارة غير الصحيحة مع التصويب /

1- حاصر الإنجليز قصر عابدين في سبتمبر ١٩٥٢م (خطأ)
حيث حاصر الانجليز قصر عابدين في فبراير ١٩٤٢م.

2- وافق الملك فاروق على مغادرة البلاد قبل الموعد المحدد (صح)

3- لم تؤد معاهدة ١٩٣٦م بين مصر وبريطانيا إلى استقلال حقيقي لمصر (صح).

4- تم تمصير البنوك وشركات التأمين بعد ثورة 23 يوليو ١٩٥٢م (صح).

5- عقد مؤتمر باندونج بأندونيسيا عام 1957م (خطأ)

حيث عقد مؤتمر باندونج بأندونيسيا ١٩٥٥م.

6- كان لمصر دور فعال في مساندة الدول العربية والأفريقية للحصول على استقلالها بعد ثورة 23 يوليو ١٩٥٢م (صح).

7- رحل الإنجليز نهائيا عن مصر في يوليو ١٩٥٣م (خطأ)
حيث تم رحيل الانجليز نهائيا عن مصر في يونيو ١٩٥٦م.

8- الاهتمام بالتعليم الصناعي ومراكز التدريب المهني من انجازات ثورة يوليو ١٩٥٢م في المجال الثقافي (خطأ)

في المجال الاقتصادي (الصناعي) .

9- كانت أول تجربة عربية لتحقيق الوحدة العربية بين مصر والسعودية عام ١٩٥٨م (خطأ)

كانت بين مصر وسوريا .

10- تعرف المرحلة الأولى من إعادة بناء القوات المسلحة بحرب الاستنزاف والمواجهة (خطأ)

حيث مرحلة الاستنزاف والمواجهة تعرف بالمرحلة الثانية .

11- يعتبر الفريق أول عبد المنعم رياض من شهداء حرب الاستنزاف
(صح)

12 - كان مركز الحركة الصهيونية في البداية مدينة لندن (صح)

13- في عام ١٩٢٠م تم إلغاء الانتداب البريطاني على فلسطين

(خطأ) تم فرض الانتداب البريطاني على فلسطين عام ١٩٢٠م .

14- وافقت الدول العربية على تقسيم فلسطين عام ١٩٤٧م

(خطأ) . لم توافق .

15 - أعلن اليهود قيام دولة إسرائيل في ١٥ مايو ١٩٤٨م (صح)

16- أعلنت مصر وقفها بجانب سوريا بعد التهديدات الإسرائيلية

عام ١٩٦٧م (صح) .

17- كانت مساندة مصر لثورة الجزائر من أسباب العدوان الثلاثي على

مصر عام ١٩٥٦م (صح)

18 - قبلت مصر قرار مجلس الأمن رقم ٢٤٢ وامتنعت إسرائيل عن

تنفيذه (صح)

19 - استطاع الجيش المصري تدمير خط ألوان بينما استطاع الجيش

السوري تدمير خط بارليف (خطأ)

حيث استطاع الجيش المصري تدمير خط بارليف وسوريا قامت

بتدمير خط ألون .

20 - اصدر وزراء النفط العرب قرار في اجتماعهم بالكويت

بخفض الصادرات النفطية . (صح)

21- كان اصدار دستور عام ١٩٧١م إجراء لتهيئة الجبهة

الداخلية . (صح)

22 - أعطى الرئيس السادات اشارة بدء حرب أكتوبر ١٩٧٣م

(صح)

23 - من أهداف ثورة 23 يوليو ١٩٥٢م القضاء على

الاستعمار (صح)

مع تحيات مدرسة الهغازي الإعدادية بنات

24 - حرصت مصر على تصفية الخلافات وتوحيد الصف العربي استعداداً لحرب أكتوبر ١٩٧٣ م (صح)

25 - شغل سعد الدين الشاذلي منصب رئيس هيئة عمليات القوات المسلحة عام ١٩٧٣ م (خطأ)

حيث شغل الفريق محمد عبد الغني الجمسي منصب رئيس هيئة عمليات القوات المسلحة عام ١٩٧٢ م .

26 - عقدت اتفاقية أوسلو بين إسرائيل ومنظمة التحرير الفلسطينية (صح)

27 - عارضت مصر اتفاقية أوسلو بين ١٩٩٣ م .

(خطأ) . حيث أيدت مصر الاتفاقية عام ١٩٩٣ م .

28 - من مزايا السلام وإنهاء الصراع العربي الإسرائيلي دفع عجلة التنمية في الدول العربية (صح)

29 - ادي توقيع مصر معاهدة 1936 م إلى جعل مصر ميداناً لمعارك الحرب العالمية الثانية (صح) .

30 - أعلنت مصر وقوفها إلى جانب سوريا عام ١٩٩٧ م تطبيقاً لاتفاقية سان ريمون (خطأ)

أعلنت مصر وقوفها إلى جانب سوريا عام ١٩٦٧ م طبقاً لاتفاقية الدفاع المشترك .

31 - لتهيئة وإعداد الجبهة الداخلية تم إصدار دستور ١٩٧٩ م (خطأ) دستور ١٩٧١ م .

32 - قدم روجرز وزير خارجية الولايات المتحدة مبادرته لوقف إطلاق النار أثناء حرب أكتوبر (خطأ)

حيث اتم ذلك أثناء حرب الاستنزاف .

33 - ساهمت مشاركات الدول العربية المالية والعسكرية في حرب أكتوبر ١٩٧٣ م في تحقيق النصر (صح)

- 34 - قامت القوات المسلحة بحماية الممتلكات أثناء ثورة ٢٥ يناير ٢٠١١م . (صح)
- 35 - انتهت حرب أكتوبر ١٩٧٣م حالة اللا سلم واللا حرب بين مصر وإسرائيل (صح)
- 36 - من نصوص مؤتمر كامب ديفيد إنشاء قوة شرطة فلسطينية قوية لضمان حفظ الأمن والنظام (خطأ)
- حيث من نصوص اتفاقية أسلو عام ١٩٩٣م إنشاء قوة شرطة فلسطينية .
- 37 - من أهم إنجازات ثورة 23 يوليو ١٩٥٢م في المجال الدولي كسر احتكار السلام العالمي بعد صفقة الأسلحة السوفيتية (صح) .
- 38 - انتهت حرب أكتوبر ١٩٧٣م نظرية الأمن الإسرائيلية (صح)
- 39 - كان مؤتمر كامب ديفيد سبتمبر ١٩٧٨م بدعوة من الرئيس الأمريكي كارتر (صح) .
- 40 - ألغت ثورة يوليو دستور ١٩٢٣م كما حلت الأحزاب السياسية (صح)
- 41 - حققت معاهدة ١٩٣٦م الاستقلال الكامل . (خطأ)
- لاستمرار التدخل الانجليزي مثلما حدث في فبراير ٤٢ .
- 42 - منحت المرأة حق الانتخاب في دستور ١٩٥٢م . (خطأ)
- ١٩٥٦م .
- 43 - كسرت مصر احتكار السلاح . (صح)
- 44 - قرر جمال عبد الناصر بتأسيس المنابر الثلاث . (خطأ)
- الرئيس السادات .
- 45 - اذيع بيان الثورة باسم اللواء جمال عبد الناصر . (خطأ)
- باسم محمد نجيب .
- 46 - غادر فاروق قبل الميعاد المحدد له . (صح)
- 47 - كانت وحدة مصر وسوريا ١٩٥٨م . (صح)

- تأسست حركة صهيون في لندن (صح)
- اعلنت انجلترا الانتداب على فلسطين ١٩٢٠ (صح)
- قررت عصبة الأمم تقسيم فلسطين ١٩٤٧ (خطأ)
- الامم المتحدة .
- اعلنت قيام دولة اسرائيل ١٤ مايو ١٩٤٨ (خطأ).
- ١٥ مايو ١٩٤٨ م .
- مناصره مصر للجزائر من اسباب حرب ١٩٦٧ (خطأ) ١٩٥٦ م .
- بعد فشل العدوان الثلاثي انسحبت إسرائيل اوائل ١٩٥٧ (صح) .
- استولت إسرائيل على الجولان وسيناء في عدوان ١٩٦٧ (صح)
- ارتكب اليهود مذبحه يافا ١٩٩٨ (خطأ)
- مذبحة دير ياسين .
- حدثت وحده مصر واليمن ١٩٥٨ (خطأ)
- مع سوريا .
- انسحبت انجلترا وفرنسا من بورسعيد ١٩٥٦ (صح)
- انسحبت إسرائيل من كل سيناء كامله بعد معاهده السلام مباشره .
- (خطأ) عدا طابا .
- حصلت مصر على طابا بالقوة العسكرية والحروب (خطأ)
- بهئية التحكيم .
- قدمت أمريكا المساعدات لمصر في الحرب . (صح)
- تركت حرب اكتوبر اثر في العلاقات والدول المحبة للسلام (صح)
- قدمت أمريكا المساعدات لمصر في الحرب . (خطأ)
- لإسرائيل .
- أعطى السادات اشارة الحرب ١٩٧٣ . (صح)
- ساهمت التكنولوجيا في ثورة يناير . (صح)

بم تفسر

قيام ثورة يوليو

استمرار الاحتلال - هزيمة فلسطين - فساد النظام الملكي - سوء الأحوال عامة .

لم تحقق معاهدة ١٩٣٦ الاستقلال الحقيقي .

حينما تدخلت إنجلترا في عوده النحاس للوزارة في فبراير ١٩٤٢م هزيمة حرب ١٩٤٨ .

دعم أمريكا لإسرائيل - عدم استعداد العرب للحرب .
فساد النظام الملكي .

استبداد الملك وانتشار الرشاوى مثل اسلحه فلسطين الفاسدة .
ارهاق الاقتصاد المصري

لمعاهدة ١٩٣٦ والتي اخذت اقتصاد مصر لصالح إنجلترا في الحرب
سوء الأحوال الاجتماعية قبل ثورة يوليو

صراع الأحزاب - وجود الاقطاع بمصر - تفشي المرض والفقير
موافقة الملك على الرحيل قبل الموعد المحدد له

لأنه ادرك أن الشعب والجيش يكرهان حكمه
رحيل الانجليز ١٩٥٦ .

بعد عقد اتفاق الجلاء في اكتوبر ١٩٥٤م .
اهتمام الثورة بالزراعة .

التوسع في الزراعة وزيادة الرقعة - انشاء السد العالي
اهتمام الثورة بالصناعة .

انشاء المصانع - الاهتمام بالتعليم الصناعي - الاهتمام بالبحث
العلمي .

اهتمام الثورة بالتجارة .

گفتح الأسواق الخارجية - تمصير البنوك -
شركات التأمين

بم تفسر

- عجز الأحزاب عن التعبير عن ارادة الشعب
- الفساد الاحزاب والصراع على الحكم .
- سقوط الادعاء باستقلال مصر عام ١٩٤٢ .
- حينما حاصرت انجلترا قصر عابدين وتم تعيين النحاس .
- اصدار الاصلاح الزراعي
- للقضاء على الاقطاع واقامه عدالة اجتماعيه
- سوء الأحوال الاقتصادية قبل الثورة
- لمعاهده ١٩٣٦ والتي أرهقت الاقتصاد واصبحت مصر ميدان للحرب .
- نجاح الثورة في القضاء على الاستعمار
- بعقد اتفاقية الجلاء ١٩٥٤ ورحيل اخر جندي في يونيو ١٩٥٦
- اهتمت الثورة بالمرأة .
- اصبح لها حق الترشح والانتخاب في دستور ١٩٥٦ .
- تعددت اهداف الثورة
- القضاء على (الاستعمار - الاقطاع - الاحتكار) اقامه (عدالة اجتماعية - جيش)
- عدم وجود حياه ديموقراطية قبل ثورة يوليو
- خضوع الملك للإنجليزي - فساد الاحزاب - فساد الملك
- بناء السد العالي .
- للمحماية من الفيضان والجفاف - توليد الكهرباء
- فلسطين هامه للعرب .
- ولد بها المسيح - اسراء النبي بها - بها المسجد الأقصى .
- اصدار انجلترا وعد بلفور .
- لرغبه انجلترا في مساعدته اليهود لهم في الحرب
- هزيمه ١٩٤٨ م .
- دعم أمريكا الاسرائيل - عدم استعداد العرب للحرب

مع تحيات مدرسة الهغازي الإعدادية بنات

بم تفسر

عدوان ١٩٥٦ م .

لعقد مصر صفقه اسلحه مع روسيا - نصره مصر للجزائر - تأميم
القنال السويس .

فشل عدوان ١٩٥٦ م.

المقاومة الباسلة - تنديد الامم المتحدة بالعدوان - تهديد روسيا
بالتدخل - وقوف الدول العربية بجانب مصر - تدعو الولايات المتحدة
بحل المنازعات سلميا .

عدوان ١٩٦٧ م.

لرغبة اسرائيل في القضاء على قوة مصر بعد فشل عدوان ١٩٥٦
فاستدرجت مصر للحرب .

هزيمه ١٩٦٧ م.

تفوق اسرائيل العسكري واستخدامها عنصر المفاجئة - مسانده
امريكا الاسرائيل
قيام حرب فلسطين .

لاعلان قيام دولة فلسطين - الرغبة في نصره الشعب الفلسطيني
وقوف مصر بجانب سوريا ١٩٦٧ .

تطبيقا لاتفاقية الدفاع المشترك بين مصر وسوريا

اغلاق مصر خليج العقبة ١٩٦٧

إحكاما للحصار الاقتصادي الذي فرضه العرب على اسرائيل
تقديم امريكا مبادرة روجرز

لوقف النار تمهيدا للحل السلمي وتوقف حرب الاستنزاف

فشل اسرائيل في اختراق الاجواء المصرية

لوجود شبكه من حائط الصواريخ

قيام حرب ١٩٤٨

لنصره الشعب الفلسطيني من بطش اليهود

لنصره الشعب الفلسطيني من بطش اليهود

بعد هزيمة فلسطين بالخيانة تكون الضباط الأحرار

مع تحيات مدرسة المغازي الإعدادية بنات

بم تفسر

انجلترا صانعه مشكلة فلسطين

اصدرت وعد بلفور - الانتداب ١٩٢٠ - والسماح بالهجرة ونقل الاراضي

قيام ثوره ٢5 يناير

تدهور الأحوال الاقتصادية والاجتماعية - قانون الطوارئ - تزوير انتخابات ٢٠١٠م -

سوء الأوضاع الاجتماعية قبل ثورة يناير

بزياده الفوارق الاجتماعية وغياب العدالة الاجتماعية

تشكيل اللجان الشعبية

مواجهة السرقات وحماية المنشآت العامة

الاستعانة بالقوات المسلحة بالثورة

لتأمين الناس والشركات والمحافظة على المواطنين

اراد مبارك امتصاص غضب الثوار

عين نائب له - شكل حكومة جديده

اهميه ١١ فبراير ٢٠١١

تخلي مبارك عن الحكم وتسليم الإدارة للقوات المسلحة

قيام ثوره ٣٠ يوليو

لم تقدم السلطة ايه حلول وتدهور الأوضاع في مصر

تدهور الاقتصاد قبل ثورة يناير

سوء تطبيق الخصخصة والانفتاح الاقتصادي وزيادة البطالة ورفع

الأسعار

انتخابات ٢٠١٠ مخالفة لإرادة الشعب

حيث تم تزويرها لصالح الحزب الوطني وكان ذلك مخالف للشعب

الجيش هو ضامن الثورة

ساند الشعب في ثورته في يناير ووقف بجوار الشعب

في ثورة 30 يونيو

مع تحيات مدرّسة المغازي الإعدادية بتات

بم تفسر

هناك علاقة بين التكنولوجيا وثوره 20 يناير
قامت الثوره بالاتصال الحديث مثل الانترنت والفييس بوك
هناك علاقة بين الانتخابات والثورة
عندما تم تزوير انتخابات ٢٠١٠ قامت ثورة يناير ٢٠١١
اهميه صدور الدستور الدائم
اكذ على سياده القانون - التعددية الحزبية - فهدأ من الجبهة
الداخلية .

غياب الاستقرار السياسي من ١٩١٩ الى ١٩٥٢
للصراعات الحزبية خاصة الوفد والقصر وايضا مع الاحتلال
شهدت مصر نهضة نسائية قبل عام ١٩١٩
حيث انشاء مدرسة للبنات - انشأت مجله الريحانة الجميلة حافظ
لم يحقق مجلس المشورة حياه برلمانيه سليمة
لأنه استشاري فقط وبالتعيين
كانت الحياه النيابية في عهد محمد علي صوريه
لأنها استشارية لا سلطه لها وهو من يختار الاعضاء بنفسه
الامم المتحدة منظمة دوليه
لأنها تضم كل دول العالم المستقلة والتي ترتبط بروابط مع بعضها
مجلس الأمن اهم اجهزه الامم المتحدة
مسئول عن الامن والسلام الدوليين وهو سلطة قانونية على الاعضاء
انشاء مجلس الوصايا
لرعاية مصالح الشعوب التي كانت محتله من غيرها والاخذ
بيدها نحو الاستقلال
انشاء الصحة العالمية
لرعاية الصحية ونشر الوعي لحمايه مياه الشرب وتطوير
الخدمات الصحية .

مع تحيات مدرسة المغازي الإعدادية بنات

ما نتائج

تلاقي مصالح اليهود وانجلترا في الحرب العالميه
اصدار انجلترا وعد بلفور حتى يساعدوا اليهود في الحرب
مؤتمر سان ريمو ١٩٢٠
وضع فلسطين تحت الانتداب الانجليزي تمهيدا لمساعدته اليهود
تقسيم الأمم المتحدة لفلسطين ١٩٤٧
رفض العرب ذلك فقامت اسرائيل بمذبحة دير ياسين
انهاء الانتداب الانجليزي لفلسطين
قيام الدولة الاسرائيلية بموافقة امريكا وروسيا
حرب ١٩٤٨
هزيمة العرب واستيلاء اسرائيل على معظم فلسطين عدا القدس
وغزة والضفة الغربية
حرب ١٩٥٦
فشل العدوان وانسحاب فرنسا وانجلترا ١٩٥٦ واسرائيل اوائل ١٩٥٧
وجود قوات طوارئ
عدوان ١٩٦٧
استيلاء اسرائيل على غزة والجولان وسيناء والقدس وهزيمة العرب
قرار ٢٤٢
قبلته مصر وامتنعت اسرائيل واصبح هناك حريه ملاحه في البحر
الاحمر ومناطق منزوعة سلاح .
الانتصار في حرب الاستنزاف
قدم روجرز مبادرته بوقف القتال للحل السلمي
تطبيق الهدنه ١٩٤٨ م
قويت اسرائيل من نفسها مما ادى لهزيمة العرب .
انتداب انجلترا على فلسطين
فلسطين السماح بالهجرة وانتقال الملكية من العرب
اليهود .

مع تحيات مدرسة الهغازي الإعدادية بنات

ما نتاج

الضربة الجوية

تحقيق الأهداف والتمهيد لعبور القوات المصرية

حرب اكتوبر

انتصار مصر وعوده سيناء - تدمير عقيدته اسرائيل القتالية -

اظهرت اهمية بترول العرب

تقديم امريكا معلومات عسكرية لإسرائيل

حدوث ثغره الدفرسوار

اجتماع وزراء النفط بالكويت

خفض إنتاج البترول - حظر نفط الى امريكا والدول المساعدة

لإسرائيل

العمليات العسكرية الجوية والمدفعية

تحقيق الأهداف و التمهيد لعبور القوات المصرية ونصر اكتوبر

بناء حائط الصواريخ غرب القناة

فشل الطيران الاسرائيلي في عبور الطائرات الاسرائيلية للغرب

مبادرة السادات لزياره اسرائيل

التمهيد لقبول التفاوض وانهاء الصراع العربي الاسرائيلي

اجتماع كامب دافيد

التوصل لاتفاق للسلام بين مصر واسرائيل برعاية أمريكية

معاهدة السلام

استعادته سيناء عدا طابا وانهاء الصراع بين البلدين

قرار محكمة العدل ١٩٨٨

اصدرت احقيه مصر بطابا وعادت طابا لمصر ١٩٨٩

العدوان الثلاثي علي مصر ١٩٥٦م

فشل العدوان - انسحاب انجلترا وفرنسا من بورسعيد في

23ديسمبر ١٩٥٦م - انسحاب اسرائيل من غزة وسيناء

في اوائل عام ١٩٥٧ - ادراك الدولة العربية الخطر

الاسرائيلي فقامت الوحدة بين مصر وسوريا ١٩٥٨

مع تحيات مدرسة المغازي الإعدادية بنات

ماذا يحدث لو

لم تقدم الولايات المتحدة الدعم لإسرائيل أثناء حرب أكتوبر ١٩٧٣م .

لم تتمكن إسرائيل من إحداث ثغرة في منطقة الدفرسوار - ولم تحظر الدول العربية البترول عن الولايات .

لم تهزم الجيوش العربية في حرب فلسطين ١٩٤٨م (حققت القوات العربية الانتصار في حرب ١٩٤٨م) .

لم تتمكن إسرائيل من الاستيلاء على فلسطين بالكامل عد الضفة الغربية وقطاع غزة والقدس العربية .

لم تساند مصر حركات التحرر الوطني في الجزائر ضد الاستعمار الفرنسي .

لم تشارك فرنسا في العدوان الثلاثي على مصر ١٩٥٦م .

لم يتعاون الجيش مع الشعب أثناء ثورة ٢٥ يناير ٢٠١١م .

لم يصبح الجيش هو الضامن لثورة ٢٥ يناير ٢٠١١م وربما لم تنجح ثورة ٢٥ يناير .

لم تصدر بريطانيا وعد بلفور ١٩١٧م .

عدم ظهر مشكلة فلسطين و دولة إسرائيل أوج . لم تسعى بريطانيا

لإنشاء وطن قومي لليهود في فلسطين من خلال السماح بهجرة

أعداد كبيرة من اليهود إلى فلسطين والسماح بانتقال ملكية

الأراضي من عرب فلسطين إلى اليهود عن طريق الشراء .

لم يذهب الرئيس السادات لزيارة القدس عام ١٩٧٧م .

لم يتم حل الصراع العربي الإسرائيلي سلميا ولم يتم تمهيد الطريق

أمام إسرائيل للقبول بمبدأ التفاوض .

لم تقدم الولايات المتحدة معلومات عسكرية إسرائيل خلال حرب

أكتوبر ١٩٧٣م .

لم تتمكن إسرائيل من إحداث ثغرة في منطقة الدفرسوار .

لم تتصارع الأحزاب السياسية في مرحلة ما بعد ثورة ١٩١٩م .

لم تضعف الأحزاب السياسية . - يتحقق الاستقرار سياسي .

ماذا يحدث لو

قامت منظمات المجتمع المدني بدورها الاجتماعي .
(دال . لمنظمات المجتمع المدني دور مكمل للعمل الحكومي)

سوف تقوم بـ

- 1- تثقيف المواطنين وتعريفهم بحقوقهم السياسية .
- 2- توضيح علاقة المواطن بالدولة .
- 3- توفير مناخ يحقق الوحدة الوطنية .
- 4- تدعيم السياسة العامة للدولة في القضايا الدولية ..

لم تستخدم الدول العربية البترول كسلاح في حرب
أكتوبر ١٩٧٣ م .

لم يتم الضغط على الدول المساندة لإسرائيل ولم يسهم في
تحقيق نصر أكتوبر ١٩٧٣ م .

وافقت إسرائيل على قرار مجلس الأمن رقم ٢٤٢ لعام ١٩٦٧ م .
تنسحب إسرائيل من الأراضي التي احتلتها . - عدم قيام حرب
أكتوبر ١٩٧٣ .

لم يكن هناك تعاون بين منظمة اليونسكو ومصر .
لم تساهم في

1- إحياء مكتبة الإسكندرية .

2- إنقاذ معابد أبو سمبل من الغرق ١٩٦٤ م .

لم يقيم المجتمع المصري بتشكيل اللجان الشعبية أثناء
ثورة ٢٥ يناير ٢٠١١ م .

لم يتم حماية المنشآت والمناطق . ولم يتم مواجهة أعمال
السرقه والحرق والترويع .

فشل السادات في تصفية الخلافات العربية

لما استطاع الانتصار ولما ساعدته الدول العربية في الحرب .

لم تدعم أمريكا إسرائيل في الحرب

لانتصرت مصر دون عناء وانتهت إسرائيل .

إلى من تنسب الاعمال الآتية

- عقد معاهدة السلام مع إسرائيل عام ١٩٧٩ م .
- الرئيس انور السادات .
- دعا مصر وإسرائيل لعقد مؤتمر كامب ديفيد للسلام .
- جيمي كارتر رئيس الولايات المتحدة الامريكية .
- عادت في عهده طابا إلى السيادة المصرية
- الرئيس محمد حسني مبارك.
- بادر بزيارة إسرائيل من أجل السلام عام ١٩٧٧ م ..
- الرئيس محمد انور السادات .
- اختاره الرئيس الراحل أنور السادات رئيساً لأركان حرب القوات المسلحة المصرية ١٩٧١ م . .
- الفريق سعد الدين الشاذلي .
- كان مديراً للمخابرات العامة ثم وزيراً للحربية وقائد القوات المسلحة .
- المشير أحمد اسماعيل .
- تولى القيادة العامة الموحدة للقوات المسلحة المصرية السورية في أكتوبر عام ١٩٧٣ م .
- المشير أحمد اسماعيل .
- تنازل عن العرش لأبنه أحمد فؤاد الثاني ..
- الملك فاروق .
- قائد جيش مصري استشهد في أثناء حرب الاستنزاف .
- الفريق أول عبد المنعم رياض .
- وزير خارجية بريطانيا الذي اصدر تصريح الاقامة وطن قومي لليهود في فلسطين .
- بلفور .
- أول رئيس جمهورية لمصر بعد إلغاء الملكية وإعلان الجمهورية .
- اللواء محمد نجيب .
- تولى رئاسة الحكومة المصرية في فبراير ١٩٤٢ م .
- مصطفى النحاس

اختر الإجابة الصحيحة

مما بين القوسين

أصبح لبريطانيا حق الانتداب على فلسطين وفقا لقرارات مؤتمر ...
(لندن - باريس - الاستانة - سان ريمو) .

استولت إسرائيل على هضبة الجولان بعد

(حرب ١٩٤٨م - العدوان الثلاثي عام ١٩٥٦م -

عدوان يونيه ١٩٦٧م - حرب الاستنزاف) .

من أبشع الجرائم الصهيونية بفلسطين مذبحه

(رفح - بيت لحم - القدس - دير ياسين) .

من انجازات ثورة 23 يوليو في المجال الاجتماعي

(تمصير البنوك - استصلاح الأراضي لإنشاء المصانع -

جعل التعليم بالمجان) .

الاهتمام بالتعليم الصناعي ومراكز التدريب المهني من انجازات ثورة

يوليو ١٩٥٢م في المجال

(الاجتماعي - السياسي - الاقتصادي - الثقافي) .

أقامت جسر جوية لتقديم المساعدات العسكرية الإسرائيلية

أثناء حرب أكتوبر ١٩٧٣م .

(فرنسا - الصين - الاتحاد السوفيتي - الولايات المتحدة الأمريكية)

حصل على وسام نجمة سيناء الذي يعد أعلى الأوسمة العسكرية .

(سعد الدين الشاذلي - المشير أحمد إسماعيل - عبد المنعم رياض -

محمد عبد الفني الجمسي)

كانت معاهدة السلام بين مصر وإسرائيل في ١٩٧٩م برعاية

(أوروبية - أمريكية - الاتحاد السوفيتي - عربية)

في سبتمبر ١٩٧٠م توفي القائد والزعيم المصري

(سعد زغلول - جمال عبد الناصر - محمد نجيب - السادات)

في يوليو ١٩٥٦م تم

(جلاء القوات البريطانية عن مصر - تنفيذ مشروع السد العالي -

حل الأحزاب السياسية - تأميم قناة السويس) .

من أهم إنجازات ثورة يوليو ١٩٥٢م في المجال الدولي
(عقد اتفاقية الجلاء - إعلان الجمهورية - مؤتمر باندونج - حل
الأحزاب السياسية)

في مارس ١٩٨٩م استردت مصر منطقة
(رفح - طابا - العريش - القنطرة)

قدمت الولايات المتحدة عام ١٩٧٣م معلومات عسكرية لإسرائيل
ومساعدتها على إحداث ثغرة.....
(رأس العش - الإسماعيلية - الدفرسوار - القنطرة)

أغلقت مصر في وجه الملاحة الإسرائيلية في مايو ١٩٩٧م .
(قناة السويس - خليج العقبة - خليج السويس - ميناء الإسكندرية)

إقامة سلطة حكومة ذاتية انتقالية فلسطينية تعرف الآن بالسلطة
الوطنية الفلسطينية من نصوص.....

(معاهدة السلام - مؤتمر مدريد - اتفاقية أوسلو - مؤتمر كامب
ديفيد) .

تم التوقيع علي ميثاق الجامعة العربية في مارس ١٩٤٥ بعدد.....
دول عربية .

(سبع - عشر - تسع - اربع)

تأسس الحزب الوطني علي يد

(سعد زغلول - مصطفى كامل - عبد المنعم رياض - محمد عبد
الغني الجمسي)


استجاب الخديوي اسماعيل لدعوة وأنشأ اول مدرسة
لتعليم البنات ١٨٧٣م

(رفاة الطهطاوي - علي مبارك - سع زغلول - مصطفى كامل)
انشأ محم علي عدة مجالس استشارية منها مجلس ١٨٢٩م

(الشعب - النواب - المشورة - المشايخ)

يقع مقر منظمة الامم المتحدة في مدينة

(لندن - باريس - نيويورك - باندونج)



عام لطلاب الصف الثالث الإعدادي


إيكم أطلس فرائها

الدراسات الاجتماعية «الترم الثاني»

للحصول على الدرجة النهائية في

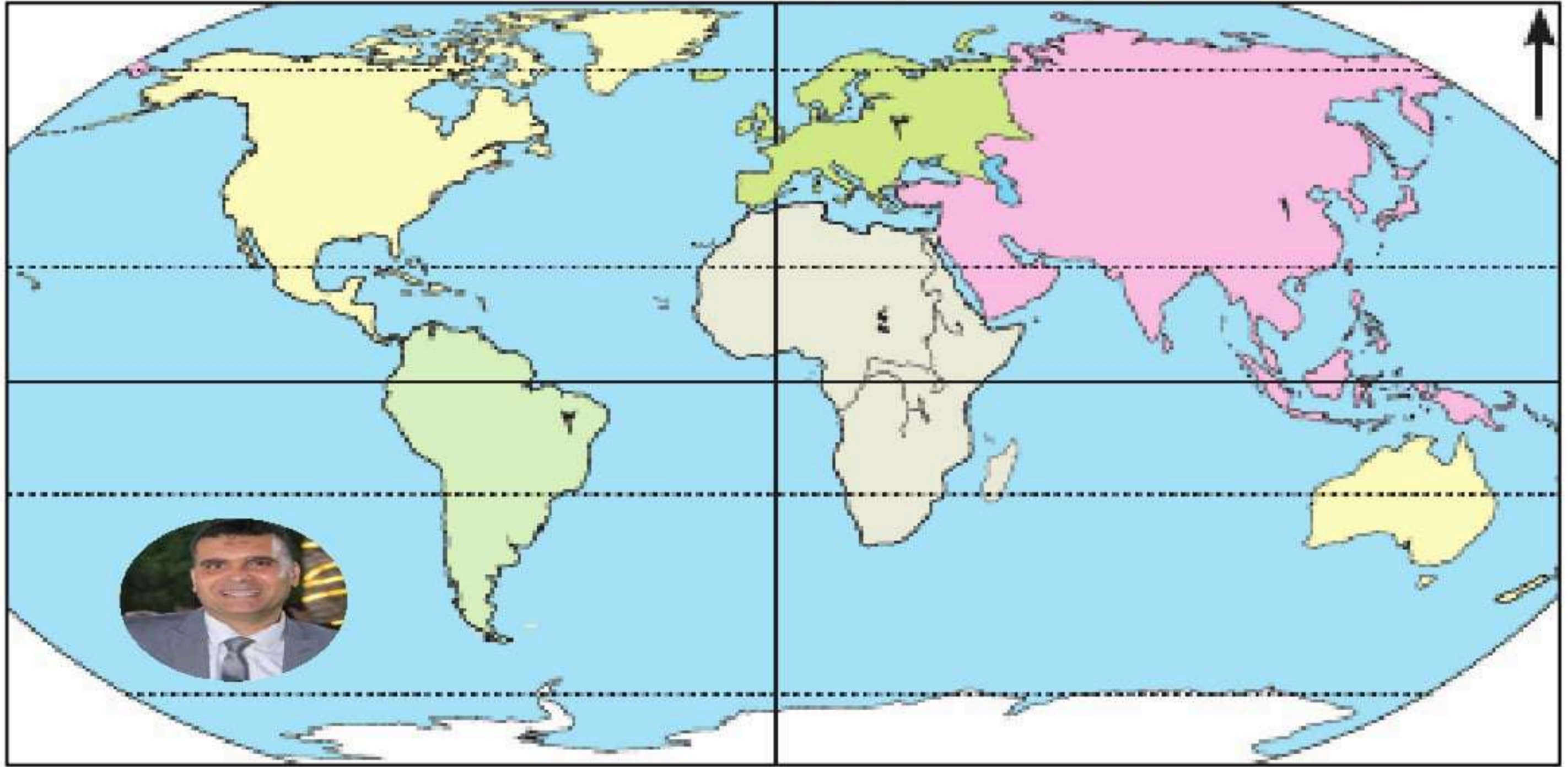
سؤال الخريطة إن شاء الله،

مع تحيات مدرسة المغازي الإعدادية بنات



أهم الأشكال والخرائط

أمامك خريطة صماء للعالم، اكتب ماتدل عليه الأرقام:



الإجابة:

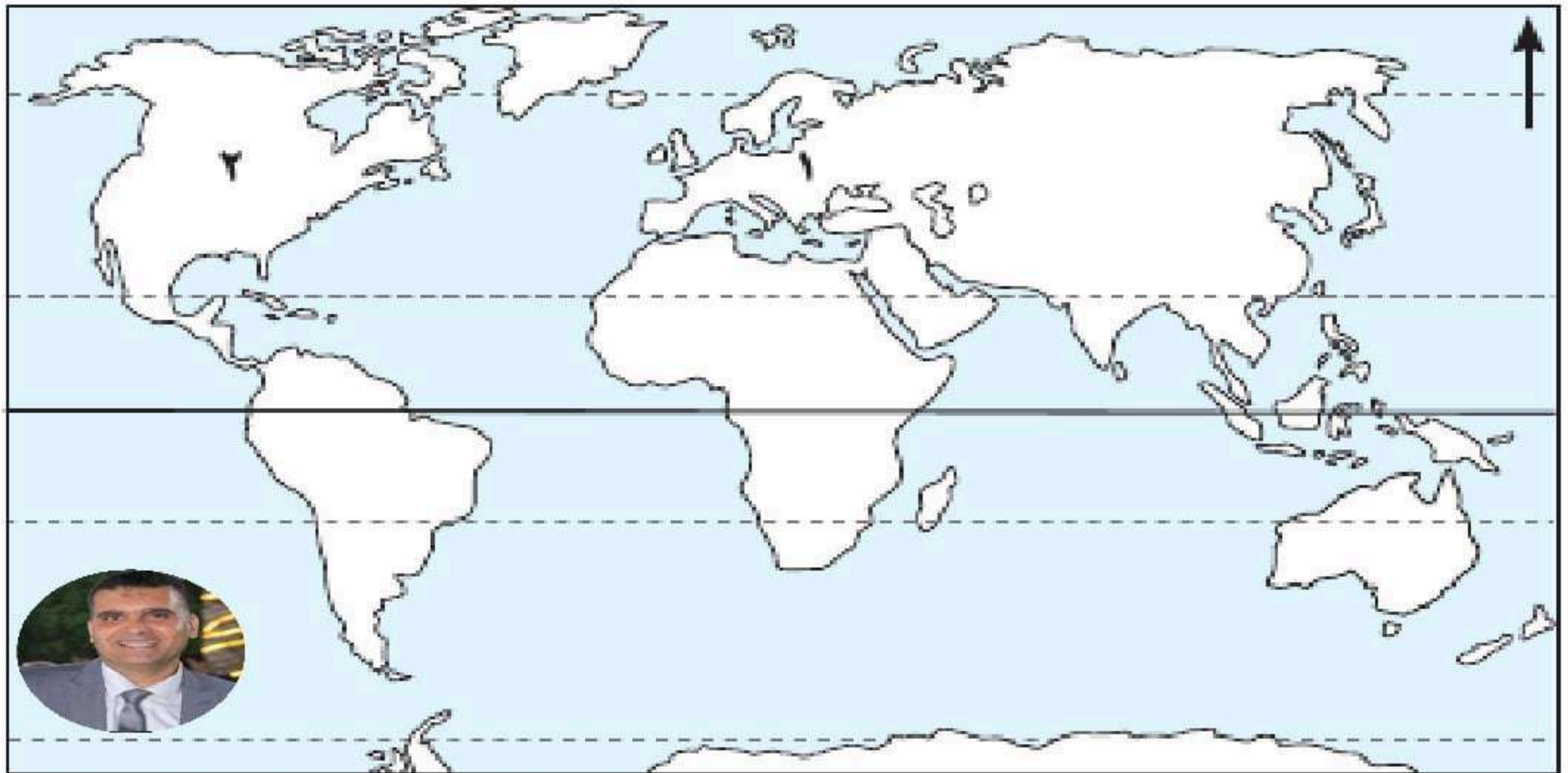
سلسلة (ابن إياس) في الدراسات الاجتماعية

أ / محمود حليم

Tel: ٠١٠٠٣٥٣٢١١٢

- ١- أولى دول العالم إنتاجًا للشاي الصين.
- ٢- أولى دول العالم إنتاجًا لقصب السكر البرازيل.
- ٣- أكبر قارات العالم إنتاجًا للطاقة النووية أوروبا.
- ٤- ثاني قارات العالم في إنتاج المطاط إفريقيا.

أمامك خريطة صماء للعالم، اكتب ماتدل عليه الأرقام:

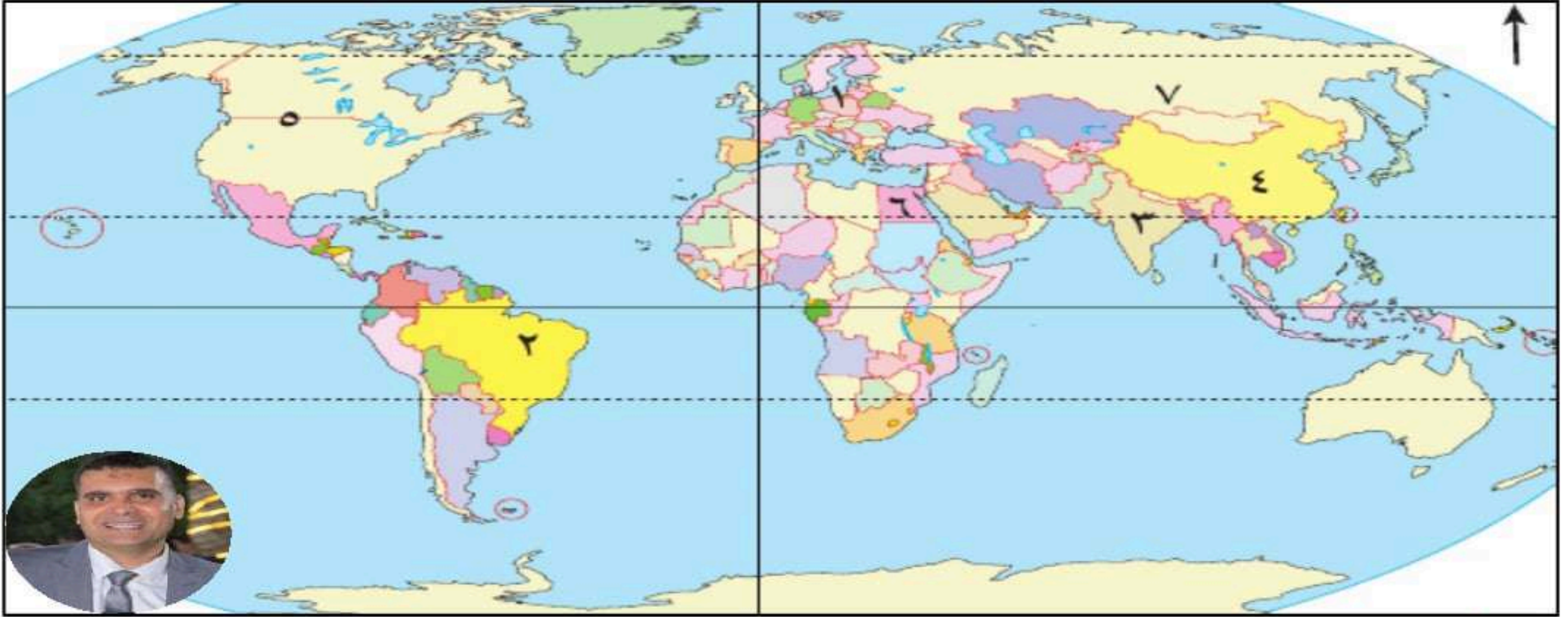


الإجابة:

- ١- أكبر قارات العالم إنتاجًا للبنجر أوروبا.
- ٢- أكبر قارات العالم إنتاجًا للذرة أمريكا الشمالية.



أمامك خريطة صماء للعالم، اكتب ماتدل عليه الأرقام:



الإجابة:

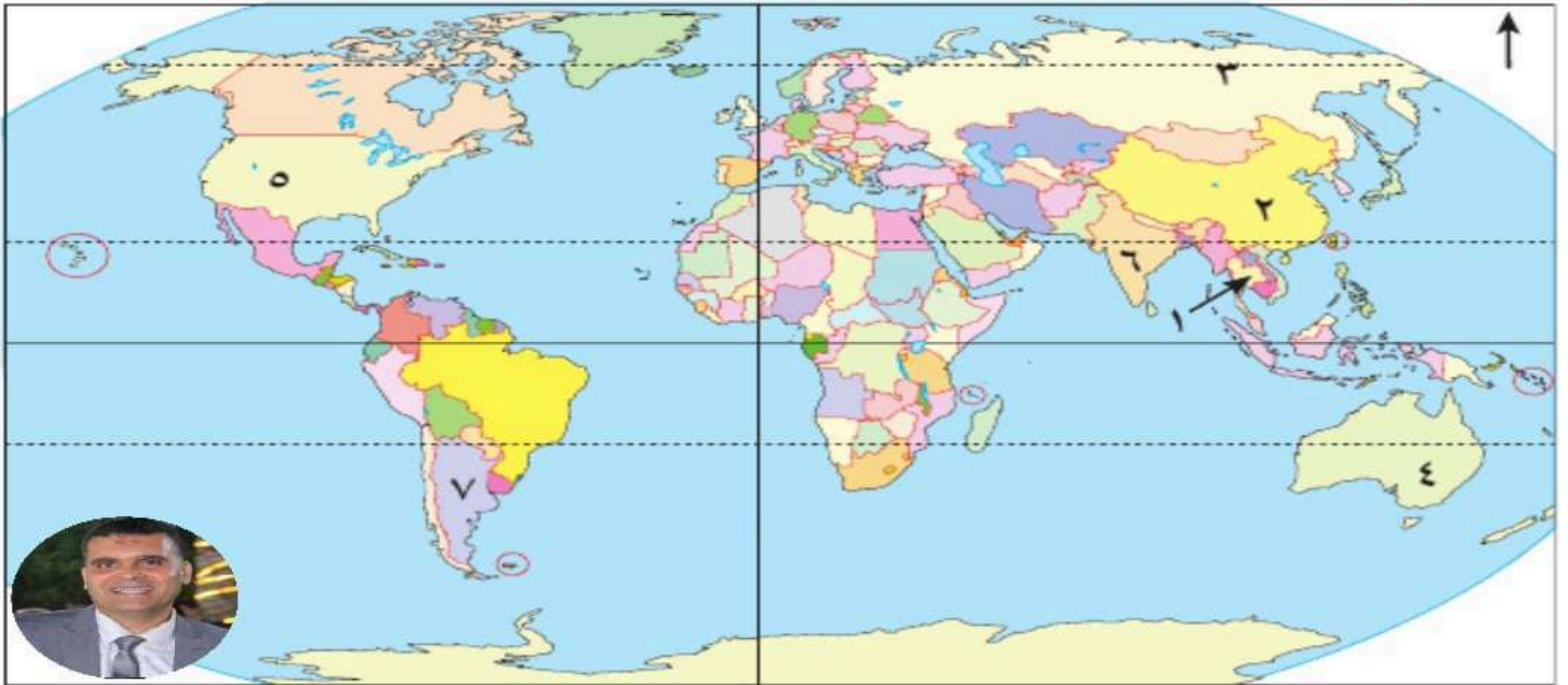
سلسلة (ابن إياس) في الدراسات الاجتماعية

أ / محمود حليم

Tel: ٠١٠٠٣٥٣٢١١٢

- ١- أكبر القارات إنتاجًا للبنجر أوروبا.
- ٢- أكبر دول العالم إنتاجًا لقصب السكر البرازيل.
- ٣- ثاني دول العالم إنتاجًا للسكر الهند.
- ٤- أكبر دول العالم إنتاجًا للقمح الصين.
- ٥- أكبر قارات العالم إنتاجًا للذرة أمريكا الشمالية.
- ٦- دولة تشتهر بالقطن طويل التيلة مصر.
- ٧- القارة الأولى إنتاجًا للمطاط الطبيعي آسيا.

أمامك خريطة صماء للعالم، اكتب ماتدل عليه الأرقام:

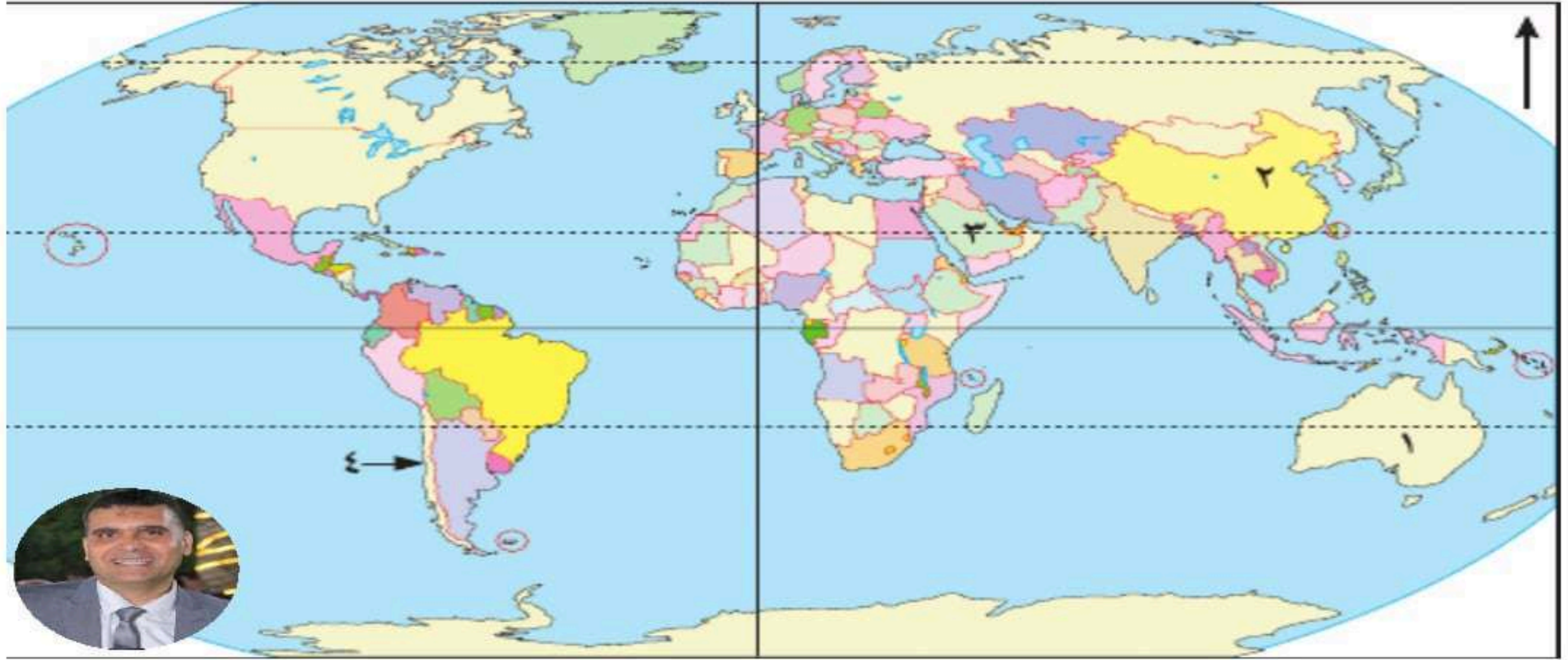


الإجابة:

- ١- دولة رئيسة في تصدير الأسماك تايلاند.
- ٢- أكبر دول العالم في أعداد الأغنام الصين.
- ٣- صحاري يرعى فيها حيوان الرنة التندرا.
- ٤- أكبر دول العالم في إنتاج الصوف أستراليا.
- ٥- أكبر دول العالم إنتاجًا للدواجن الولايات المتحدة.
- ٦- أكبر دول العالم إنتاجًا للألبان الهند.
- ٧- دولة يسود فيها الرعي التجاري الأرجنتين.



أمامك خريطة صماء للعالم، اكتب ماتدل عليه الأرقام:



سلسلة (ابن إياس) في الدراسات الاجتماعية

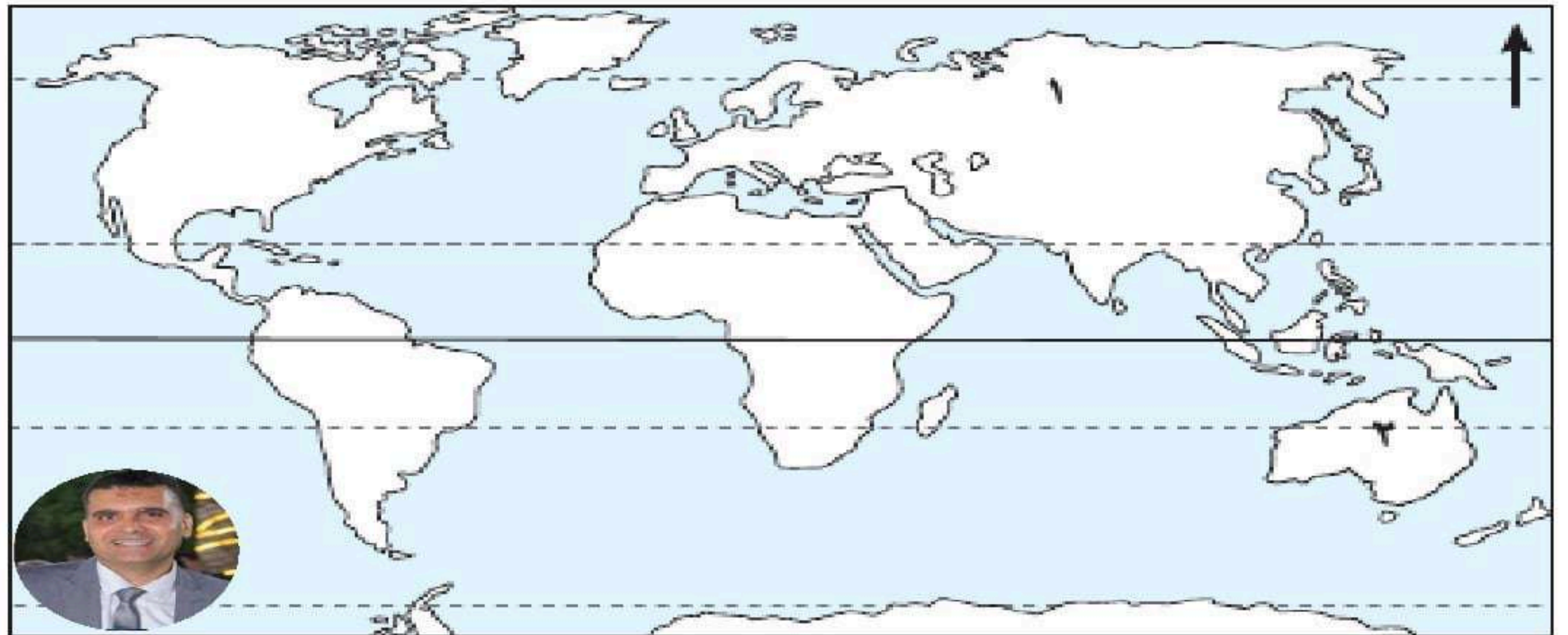
Tel.: ٠١٠٠٣٥٣٢١١٢

- ١- أولى دول العالم إنتاجاً للوكسيت
- ٢- ألى دول العالم إنتاجاً للفحم
- ٣- أولى دول العالم إنتاجاً للبترول
- ٤- أولى دول العالم إنتاجاً للنحاس

الإجابة:

- ١- أستراليا .
- ٢- الصين .
- ٣- السعودية .
- ٤- شيلي .

أمامك خريطة صماء للعالم، اكتب ماتدل عليه الأرقام:



سلسلة (ابن إياس) في الدراسات الاجتماعية

أ / محمود حليم

Tel.: ٠١٠٠٣٥٣٢١١٢

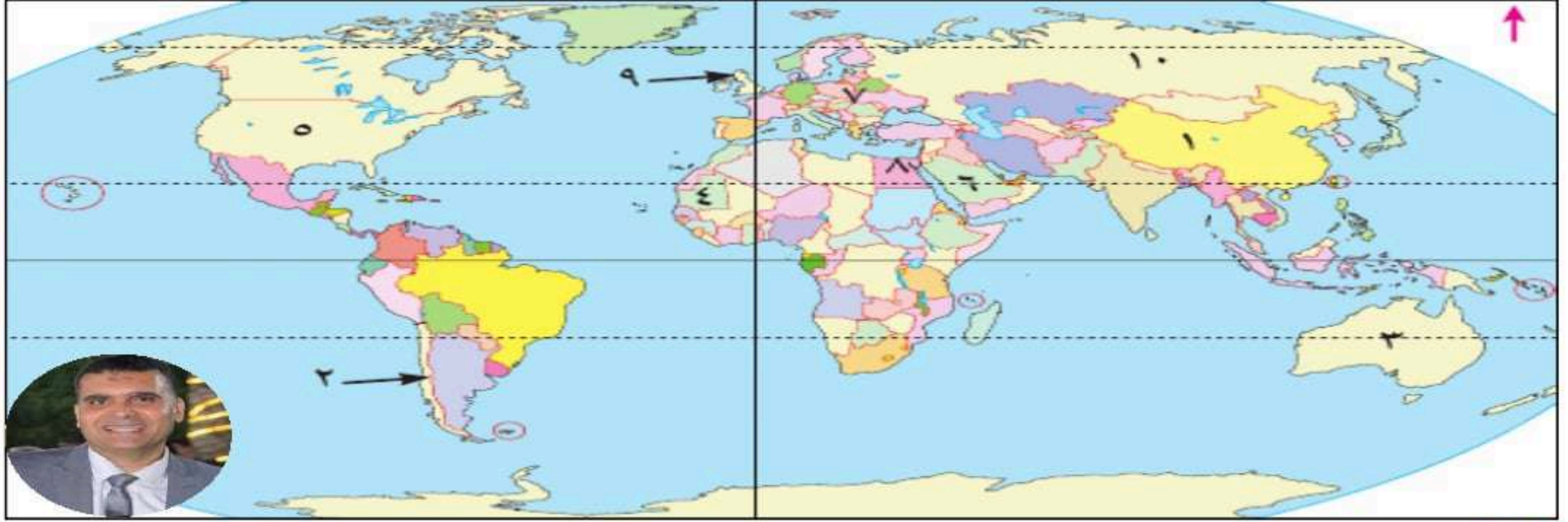
- ١- إقليم صناعي
- ٢- مركز صناعي حديث

الإجابة:

- ١- روسيا وأوكرانيا.
- ٢- أستراليا.



أمامك خريطة صماء للعالم، اكتب ماتدل عليه الأرقام:



الإجابة:

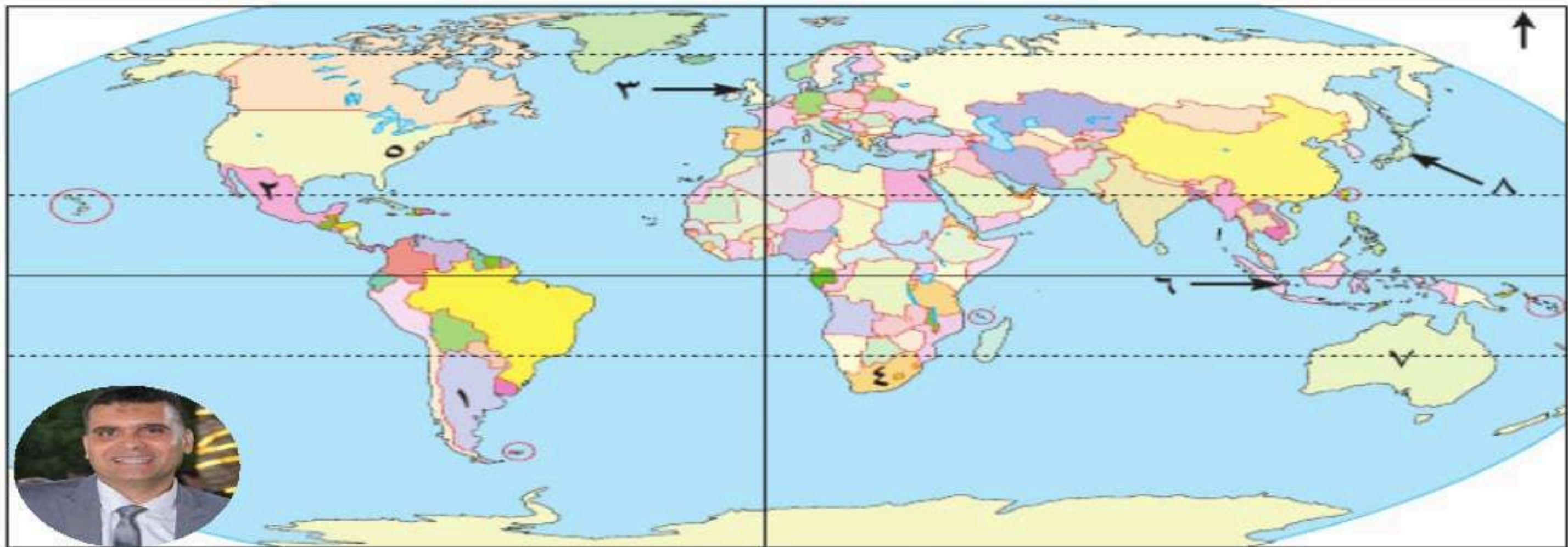
سلسلة (ابن إياس) في الدراسات الاجتماعية

أ / محمود سليم

Tel.: ٠١٠٠٣٥٣٢١١٢

- ١- أكبر دول العالم إنتاجاً للحديد الصين .
- ٢- أكبر دول العالم إنتاجاً للنحاس شيلي .
- ٣- أكبر دول العالم إنتاجاً للبوكسيت أستراليا .
- ٤- دولة مصدرة للحديد موريتانيا .
- ٥- ثاني دول العالم إنتاجاً للبترول الولايات المتحدة .
- ٦- أكبر دول العالم إنتاجاً للبترول السعودية .
- ٧- أكبر قارات العالم إنتاجاً للطاقة النووية أوروبا .
- ٨- دولة عربية منتجة للطاقة الكهربائية من الرياح مصر .
- ٩- دولة منتجة للكهرباء من الأمواج بريطانيا .
- ١٠- ثاني دول العالم إنتاجاً للبترول روسيا .

أمامك خريطة صماء للعالم، اكتب ماتدل عليه الأرقام:



الإجابة:

سلسلة (ابن إياس) في الدراسات الاجتماعية

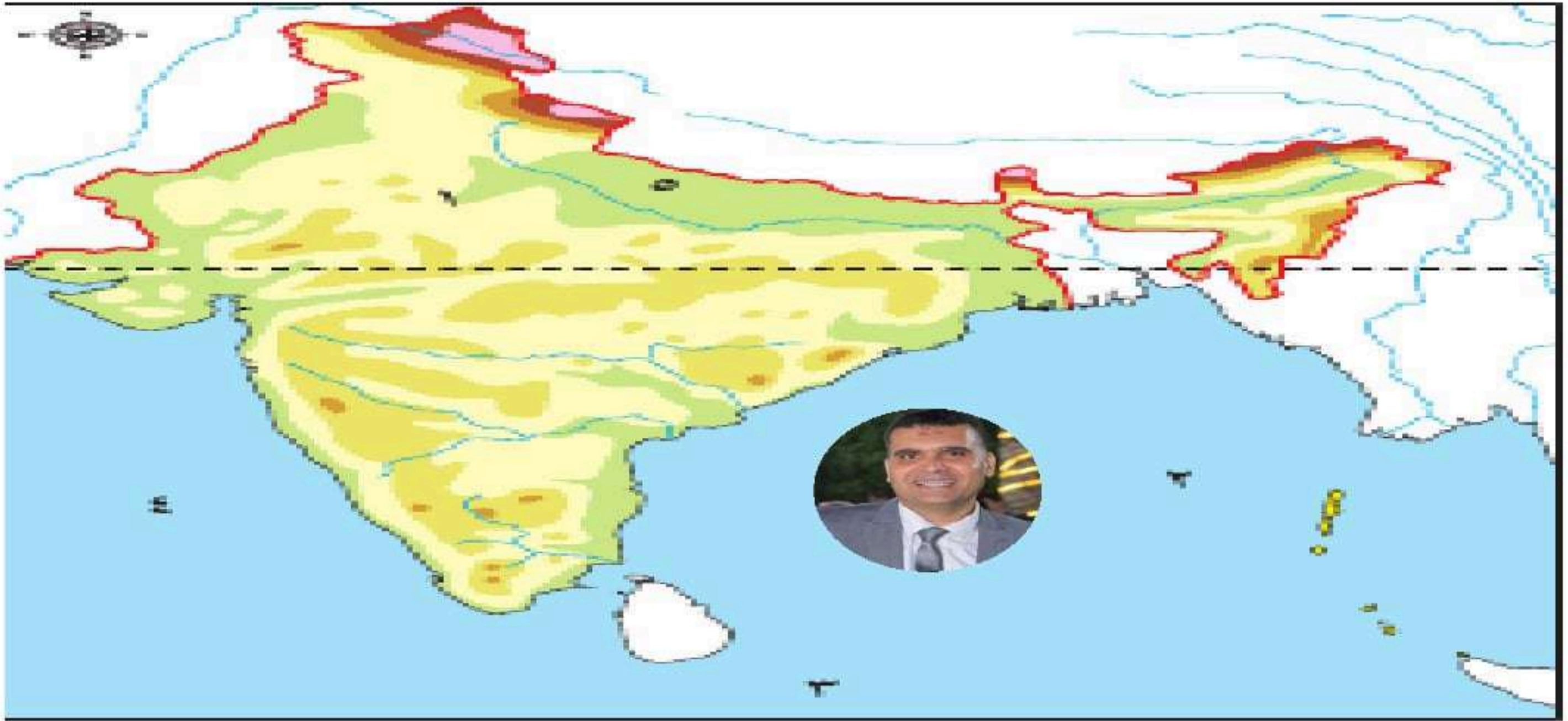
أ / محمود سليم

Tel.: ٠١٠٠٣٥٣٢١١٢

- ١- دولة صناعية حديثة الأرجنتين .
- ٢- دولة صناعية حديثة المكسيك .
- ٣- دولة تتبع إقليم غرب أوروبا الصناعي بريطانيا .
- ٤- دولة تطورت فيها الصناعة جنوب أفريقيا .
- ٥- أكبر الأقاليم الصناعية في العالم الجديد شمال شرق الولايات المتحدة .
- ٦- دولة صناعية حديثة أندونيسيا .
- ٧- دولة صناعية حديثة أستراليا .
- ٨- جزر صناعية هامة جزر اليابان .



أمامك خريطة صماء لدولة الهند ، اكتب مدلول الأرقام الموقعة عليها .:



سلسلة (ابن إياس) في الدراسات الاجتماعية

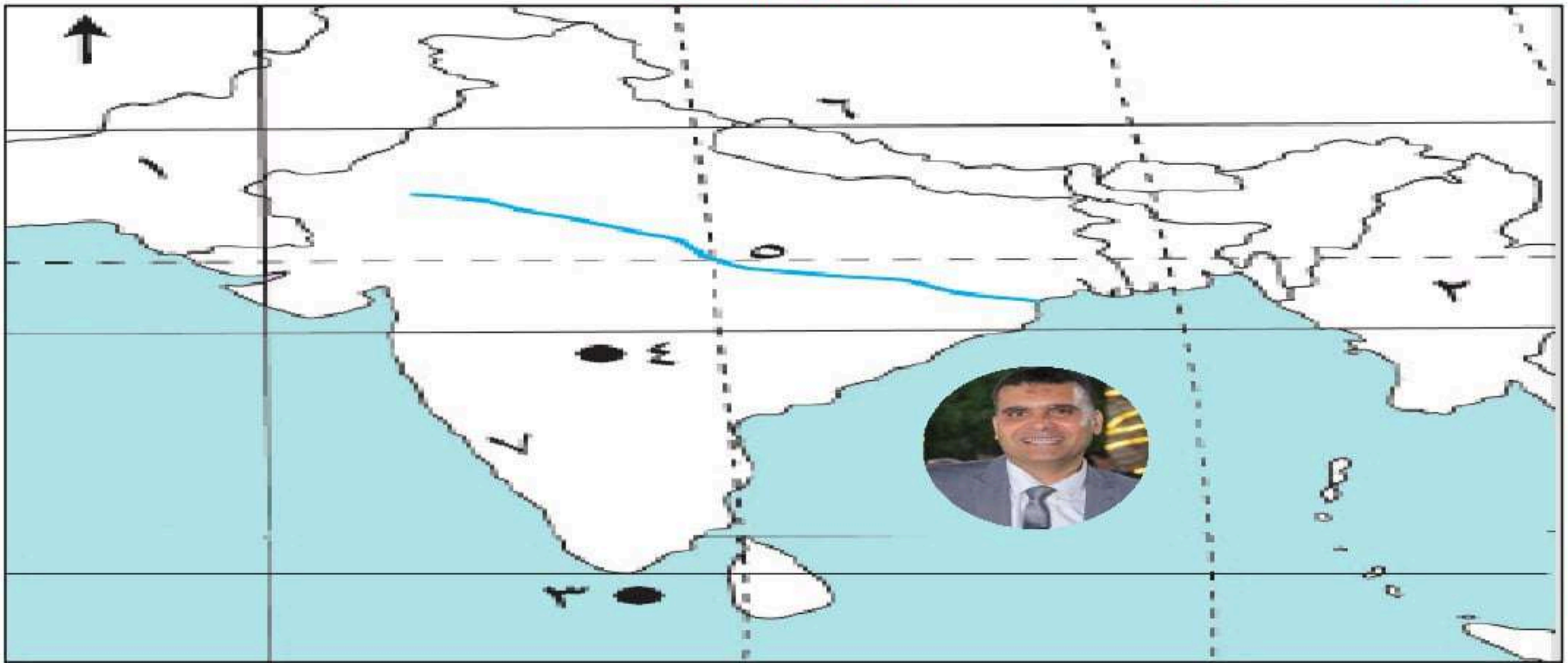
أ / محمود سليم

Tel: ٠١٠٠٣٥٣٢١١٢

الإجابة:

- ١- مدينة نيودلهي .
- ٢- خليج البنغال .
- ٣- المحيط الهندي .
- ٤- البحر العربي .
- ٥- دولة نيبال .

أمامك خريطة صماء لدولة الهند ، لاحظ مدلول الأرقام التالية .:



الإجابة:

سلسلة (ابن إياس) في الدراسات الاجتماعية

أ / محمود سليم

Tel: ٠١٠٠٣٥٣٢١١٢

- ١- دولة باكستان .
- ٢- دولة ميانمار .
- ٣- المحيط الهندي .
- ٤- هضبة الدكن .
- ٥- نهر الكانج .
- ٦- جبال الهيمالايا .
- ٧- ساحل ملبار .



أمامك خريطة صماء لنيجيريا، اكتب ما تشير الأرقام التي عليها .:



الإجابة:

- 1- نهر النيجر.
- 2- خليج غينيا.
- 3- دولة النيجر.

سلسلة (ابن إياس) في الدراسات الاجتماعية

أ / محمود سليم

Tel.: ٠١٠٠٣٥٣٢١١٢

الخريطة الطبيعية:

أمامك خريطة صماء لدولة نيجيريا ، لاحظ مدلول الأرقام التالية .:



الإجابة:

- 1- هضبة جوس.
- 2- دولة الكاميرون .
- 3- نهر النيجر .
- 4- دولة النيجر .
- 5- مرتفعات أوموس .
- 6- خليج غينيا .
- 7- دولة بنين .

سلسلة (ابن إياس) في الدراسات الاجتماعية

أ / محمود سليم

Tel.: ٠١٠٠٣٥٣٢١١٢



الخريطة الاقتصادية :

أمامك خريطة صماء لدولة نيجيريا ، لاحظ مدلول الأرقام التالية .:



الإجابة:

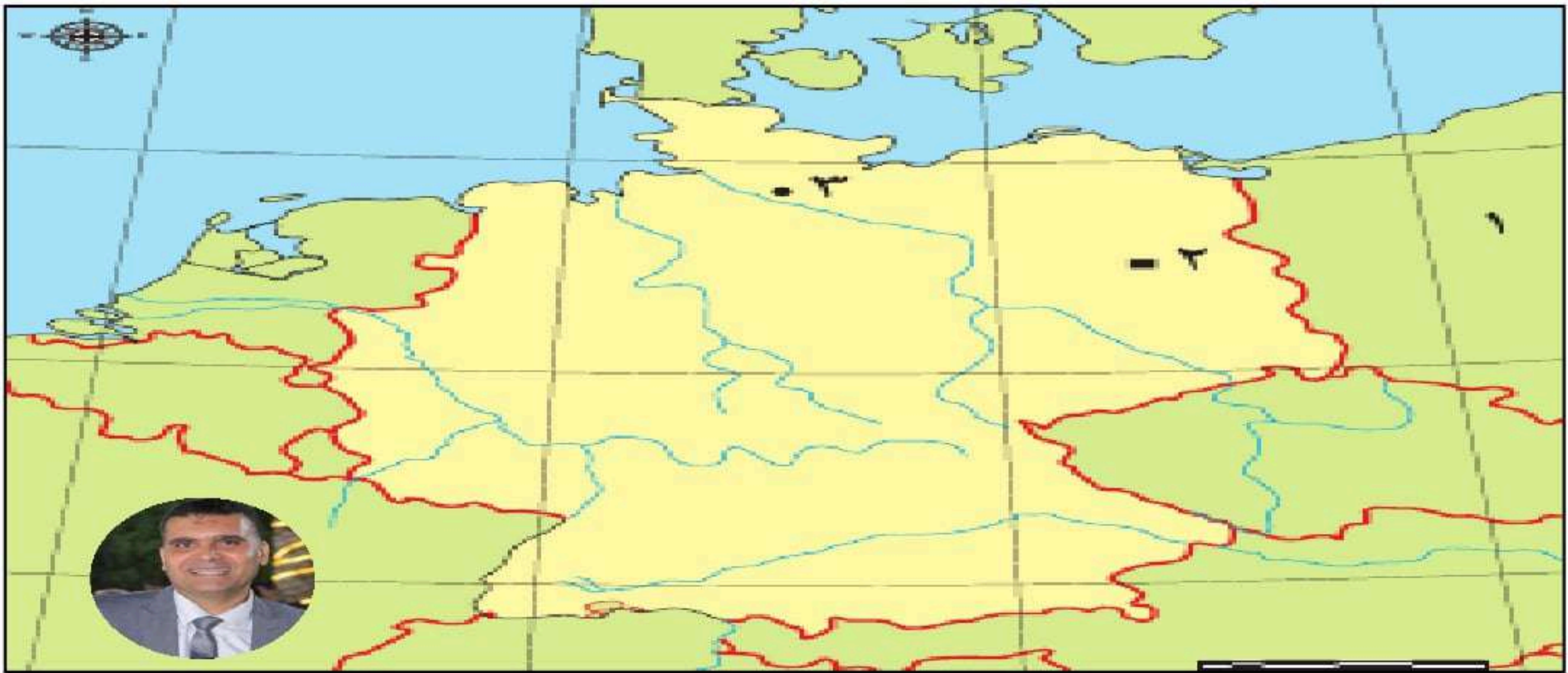
- 1- خليج غينيا .
- 2- نهر النيجر .
- 3- مدينة أبوجا .
- 4- دولة بنين .
- 5- مدينة لاجوس .
- 6- مدينة كانو .
- 7- نهر بنوى .

سلسلة (ابن إياس) في الدراسات الاجتماعية

أ / محمود حليم

Tel: ٠١٠٠٣٥٣٢١١٢

أمامك خريطة صماء لألمانيا، اكتب مدلول الأرقام التالية .:



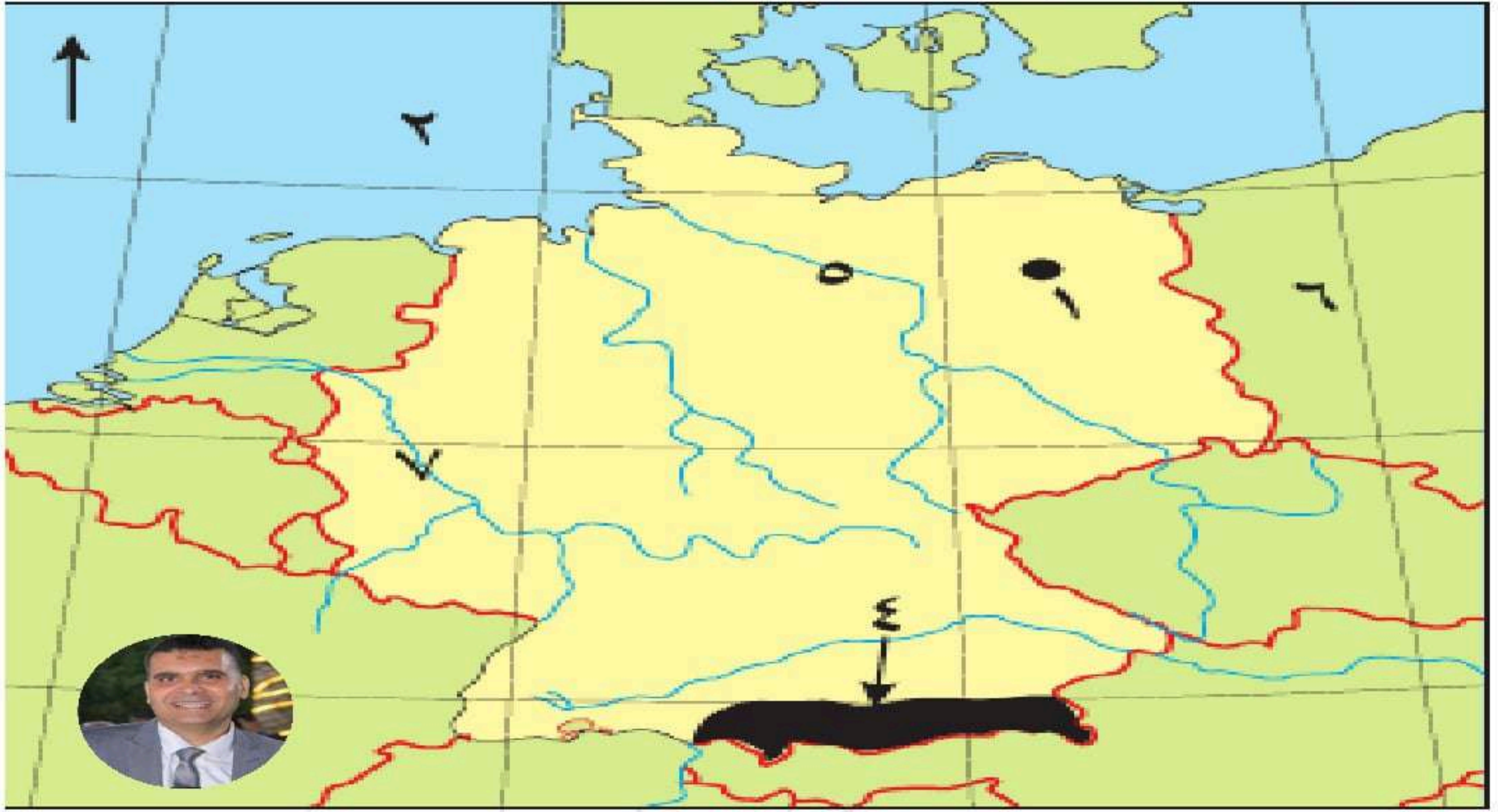
الإجابة:

- 1- دولة بولندا .
- 2- العاصمة برلين .
- 3- أهم الموانئ هامبورج .



الخريطة الطبيعية :

أمامك خريطة صماء لدولة ألمانيا ، لاحظ مدلول الأرقام التالية :



الإجابة:

- ١- العاصمة برلين .
- ٢- بحر الشمال .
- ٣- دولة فرنسا .
- ٤- جبال الألب .
- ٥- نهر إلب .
- ٦- دولة بولندا .
- ٧- نهر الراين .

سلسلة (ابن إياس) في الدراسات الاجتماعية

أ / محمود سليم

Tel.: ٠١٠٠٣٥٣٢١١٢

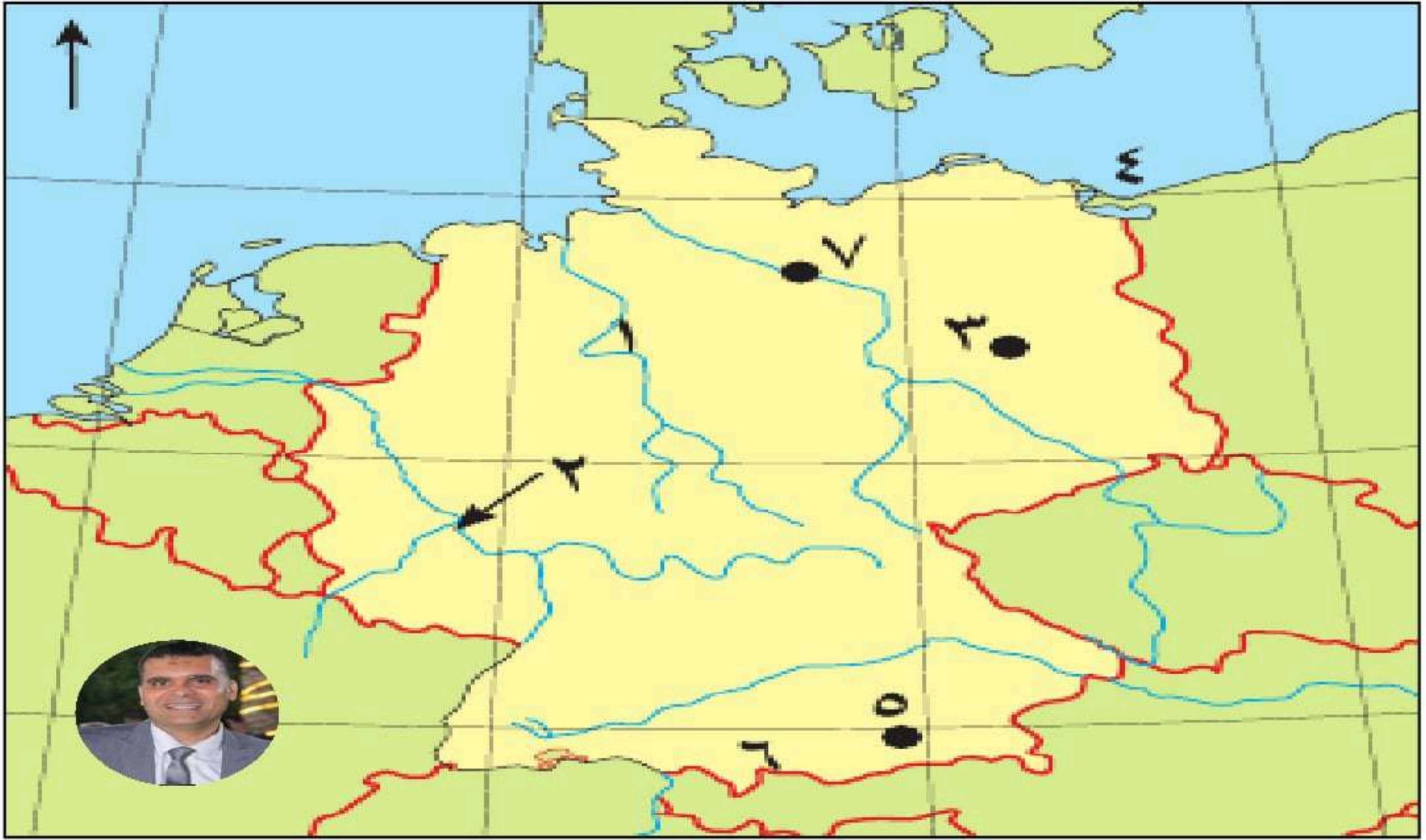
سلسلة (ابن إياس) في الدراسات الاجتماعية

أ / محمود سليم

Tel.: ٠١٠٠٣٥٣٢١١٢

الخريطة الاقتصادية :

أمامك خريطة صماء لدولة ألمانيا ، لاحظ مدلول الأرقام التالية .:



الإجابة:

- ١- السهل الألماني الشمالي .
- ٢- نهر الراين .
- ٣- العاصمة برلين .
- ٤- البحر البلطي .
- ٥- مدينة ميونخ .
- ٦- جبال الألب .
- ٧- مدينة هامبورج .

سلسلة (ابن إياس) في الدراسات الاجتماعية

أ/ محمود سليم

Tel.: ٠١٠٠٣٥٣٢١١٢

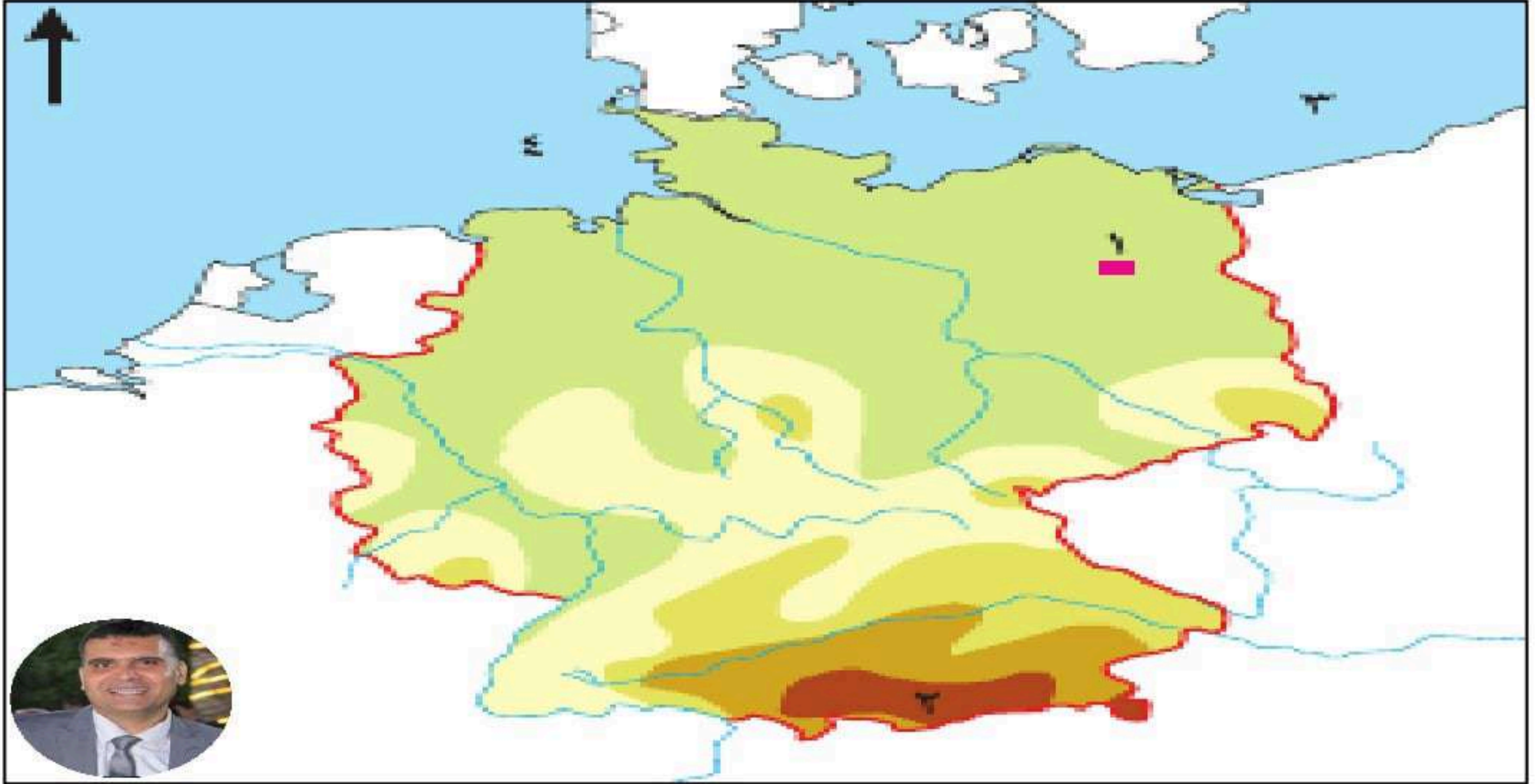
سلسلة (ابن إياس) في الدراسات الاجتماعية

أ/ محمود سليم

Tel.: ٠١٠٠٣٥٣٢١١٢



أمامك خريطة صماء لجمهورية ألمانيا الاتحادية، اكتب مدلول الأرقام الموقعة عليها .:



الإجابة:

- ١- مدينة برلين .
- ٢- جبال الألب .
- ٣- البحر البلطي .
- ٤- بحر الشمال .

سلسلة (ابن إياس) في الدراسات الاجتماعية

أ/ محمود سليم

Tel.: ٠١٠٠٣٥٣٢١١٢

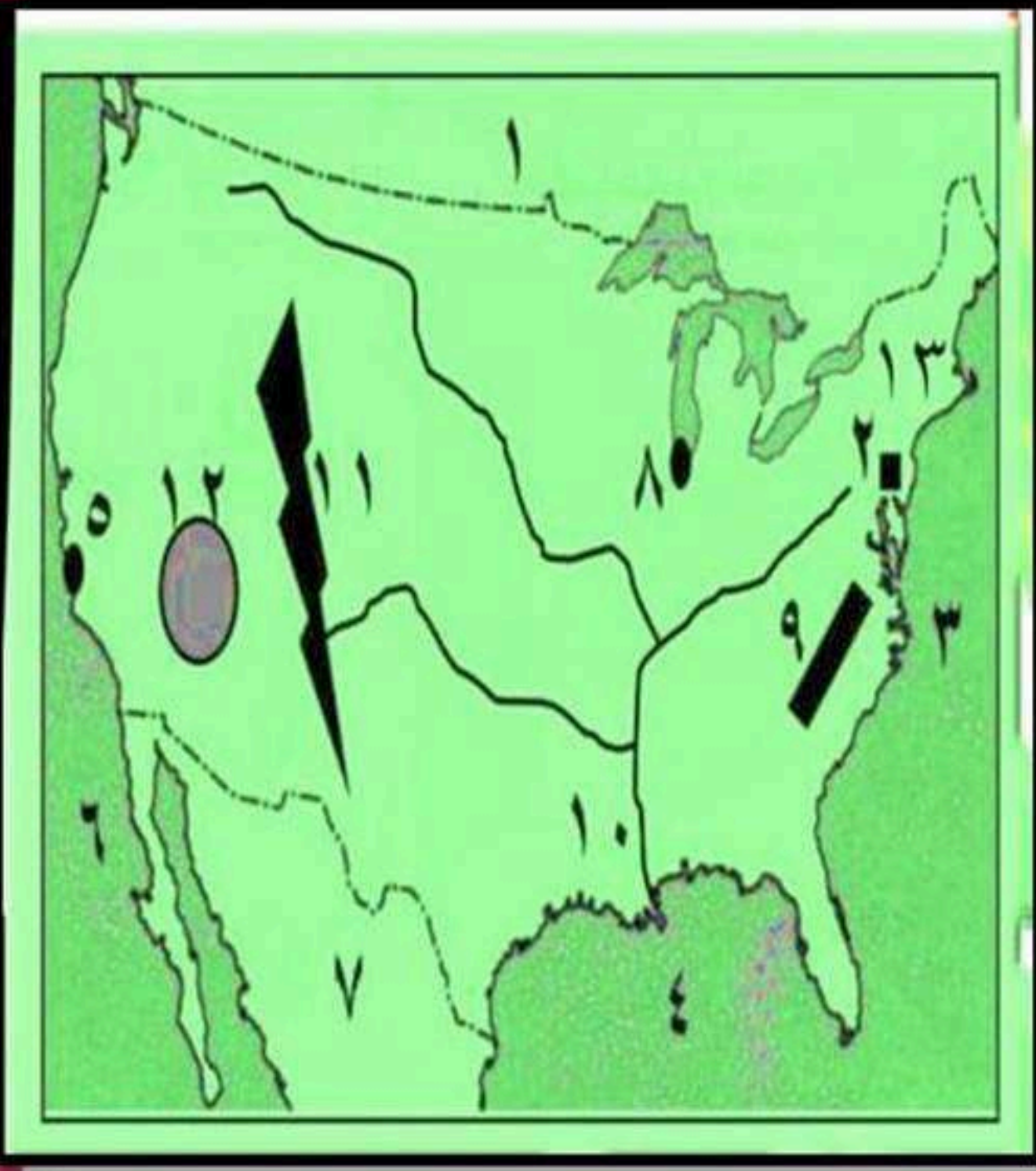
سلسلة (ابن إياس) في الدراسات الاجتماعية

أ/ محمود سليم

Tel.: ٠١٠٠٣٥٣٢١١٢



خريطة الولايات المتحدة الأمريكية



- ١- دولة كندا .
- ٢- مدينه واشنطن
- ٣- المحيط الأطلنطي
- ٤ . خليج المكسيك .
- ٥- مدينة لوس أنجلوس .
- ٦- المحيط الهادي .
- ٧- دولة المكسيك .
- ٨- مدينة شيكاغو .
- ٩- جبال الأبلش .
- ١٠ . نهر المسيسيبي .
- ١١ . جبال الروكي
- ١٢ - هضبة كلورادو .
- ١٣ . مدينة نيويورك .

سلسلة (ابن إياس) في الدراسات الاجتماعية

أ/ محمود سليم

Tel.: ٠١٠٠٣٥٣٢١١٢

الدول المقررة علي المحافظات

الدول المقررة ٢٠٢٠ - ٢٠٢١ م			المحافظة
البرازيل	نيجيريا	الهند	الأزهر الشريف
ألمانيا	نيجيريا	الهند	البحيرة
ألمانيا	نيجيريا	الهند	الوادي الجديد
ألمانيا	نيجيريا	الهند	الإسماعيلية
ألمانيا	البرازيل	نيجيريا	الإسكندرية
ألمانيا	نيجيريا	الهند	الدقهلية
الولايات المتحدة	نيجيريا	الهند	الجيزة
ألمانيا	نيجيريا	الهند	الشرقية
الولايات المتحدة	نيجيريا	الهند	الفيوم
الولايات المتحدة	البرازيل	نيجيريا	الغربية
ألمانيا	البرازيل	نيجيريا	المنيا
ألمانيا	البرازيل	نيجيريا	مرسى مطروح
ألمانيا	نيجيريا	الهند	القاهرة
الولايات المتحدة	نيجيريا	الهند	دمياط
ألمانيا	نيجيريا	الهند	سوهاج
ألمانيا	نيجيريا	الهند	أسيوط
الولايات المتحدة	البرازيل	نيجيريا	المنوفية
ألمانيا	البرازيل	نيجيريا	قنا
ألمانيا	البرازيل	نيجيريا	الأقصر/أسوان
الولايات المتحدة	ألمانيا	البرازيل	كفر الشيخ
الولايات المتحدة	نيجيريا	البرازيل	السويس/بور سعيد
ألمانيا	الهند	نيجيريا	بنى سويف
الولايات المتحدة	نيجيريا	الهند	قليوبية/البحر الأحمر

أولا : الجغرافيا

السؤال الأول (علل لما يأتي)

- ١- مارس الإنسان الأنشطة الاقتصادية البدائية في الماضي ؟
ج١- بسبب قسوة البيئة - عدم توفر الإمكانيات العلمية الحديثه - قلة العدد
- ٢- يعد النشاط الزراعي من الأنشطة الاقتصادية الأساسية في العالم ؟
ج٢- لان النشاط الزراعي مصدر رئيس للغذاء _ مصدر هام من مصادر الدخل القومي - يوفر فرص عمل - تدخل بعض المحاصيل الزراعية في الصناعة مثل القطن في صناعة الغزل والنسيج - القصب في صناعة السكر - ارتباط الزراعة بشروة الحيوانات .
- ٣- الزراعة الكثيفة تحتاج إلى أيدي عاملة كثيرة ؟
ج٣- من اجل تنقية الحشائش - بذر البذور - عمليات الري .
- ٤- صعوبة استخدام الميكنة في الزراعة الكثيفة ؟
ج٤- لأنها تتميز بالضيق - صغر مساحتها .
- ٥- الزراعة التجارية العالمية تعتمد علي التخصص ؟
ج٥- لأنها تهدف إلى إنتاج تجاري ضخم ويتم فيها زراعة مساحات واسعة .
- ٦- أنتاج قارة من آسيا من الأرز يستهلك محليا دون وجود فائض للتصدير ؟
ج٦- بسبب زيادة عدد السكان - هو الغذاء الرئيس للدول شرق وجنوب شرق آسيا .
- ٧- يزرع الأرز بكميات قليلة في استراليا ؟
ج٧- بسبب عدم توفر الظروف المناخية الملائمة للزراعة .
- ٨- القطن في مصر والسودان من أجود أنواع القطن في العالم ؟
ج٨- لأنه طويل التيلة - لون ابيض - خيوطه ناعمة
- ٩- أنتاج أمريكا الشمالية من الذرة يستهلك محليا ؟
ج٩- لأنه يستخدم كعلف للماشية .
- ١٠- لا يزرع قصب السكر في أوروبا ؟
لان قصب السكر المحاصيل المدرية الحارة وهذا لا يتوفر في أوروبا .
- ١١- زراعة بنجر السكر في أوروبا ؟
- بسبب ملائمة الظروف المناخية والتربة .
- ١٢- قلة العاملين بحرفة الرعي البدني ؟
ج١٢- بسبب سياسة توطين البدو - ظهور البترول في دول الخليج - ترك البدو حرفتهم واتجاههم الي التعدين .
- ١٣- القيمة الاقتصادية للبقرة في الهند محدود ؟
- بسبب وجود الدين الهندوسية التي تحرم ذبح البقر .
- ١٤- أهمية الثروة الحيوانية ؟
- الاستفادة من لحومها - ألبانها - جلودها - أصوافها .
- ١٥- زيادة معدل الاستهلاك العلمي من اللحوم ؟
بسبب زيادة عدد السكان - ارتفاع مستوى المعيشة .
- ١٦- شهرة استراليا بإنتاج الصوف الجيد ؟
لأنها تربي أغنام المارينو .
- ١٧- قيام الدول النامية بتصدير البوكسيت ؟
ج١٧- لأنها لا تمتلك مقومات صناعة الألومنيوم من طاقة كهربائية - الخبرة العلمية الفنية .
- ١٨- أهمية الفوسفات الاقتصادية ؟
ج١٨- لأنه يدخل في صناعة الأسمدة والمبيدات الحشرية - دبع الجلود .
- ١٩- يعد البترول من أهم مصادر الطاقة ؟
ج١٩- لأنه يرتبط بالتنمية الاقتصادية والاجتماعية - يرتبط بالعلاقات السياسية بين الدول - مصدر هام من مصادر الدخل القومي .
- ٢٠- اتجاه العالم الي استخدام الغاز الطبيعي ؟
ج٢٠- لأنه رخيص الثمن - سهولة نقله - طاقة نظيفة لا تلوث البيئة .
- ٢١- تقدم الصناعة في إقليم غرب وشرق أوروبا ؟
ج٢١- بسبب توفر مقومات الصناعة حيث تتوفر المواد الخام - مصادر الطاقة الكهربائية والنووية - التقدم العلمي .
- ٢٢- يعد إقليم شمال شرق الولايات المتحدة اكبر الإقليم الصناعية في العالم الجديد ؟
ج٢٢- بسبب توفر المواد الخام - وجود شبكة الطرق البرية والحديد .
- ٢٣- دولة الهند صارة صن شبه جزيرة يحيط بها الماء من ثلاث جهات ماعدا الشمال
- ٢٤- القيمة المحدودة للأبقار في الهند لتقديسها
- ٢٥- تعد الهند من الدول الرئيسية المنتجة للأسماك تطل على جلجان بسواحل بحرية طويلة
- ٢٦- تطور الصناعة في الهند لتوافر مقومات الصناعة بها .
- ٢٧- يتركز سكان البرازيل على الساحل الجنوبي الشرقي لتوافر المدن الصناعية
- ٢٨- إنشاء البرازيل مدن جديدة مثل برازيليا وميناوس لدفع السكان للهجرة نحو الداخل
- ٢٩- امتلاك البرازيل ثروة حيوانية كبيرة ومتنوعة لاتساع المراعى بها

٣٠. قلة عدد السكان في نيجيريا في دلتا النيجر
٣١. تنتج نيجيريا كميات كبيرة من الأسماك
٣٢. انكماش مساحة الحشائش في ألمانيا
٣٣. جذب المرتفعات الوسطى في ألمانيا للسياح
٣٤. تطور الصناعة الألمانية بعد الحرب العالمية الثانية
٣٥. شهرة مدينة ميونخ
٣٦. تنوع المناخ والنبات الطبيعي بالولايات المتحدة
٣٧. قلة عدد سكان الاسكا بالولايات المتحدة
٣٨. تعد الولايات المتحدة القوة الاقتصادية الأولى في العالم
٣٩. ضخامة الإنتاج الزراعي بالولايات المتحدة
٤٠. لأنه يوجد بها خليط من السكان من اجناس مختلفة مثل :
١. السكان الأصليون للبلاد (الهنود الحمر) ٢. العناصر السوداء ذات الأصول الإفريقية ٣. البرتغاليون
٤١. تعتبر منطقته نيو انجلند بالولايات المتحدة أكثر المناطق ازدحاما بالسكان
- لوجود المدن الكبرى مثل نيويورك و المناطق الصناعية والتجارية الكبرى
٤٢. ترتفع الكثافة السكانية في كثير من مناطق الساحل الغربي للولايات المتحدة
- لوجود المناطق الصناعية والمدن الكبرى مثل سان فرانسيسكو ولوس أنجلوس وكذلك في المناطق الزراعية الخصبة مثل الوادي الأوسط في كاليفورنيا
٤٣. يقل عدد السكان بنطاق المرتفعات والأحواض الغربية بالولايات المتحدة
- بسبب وعورة التضاريس والظروف الطبيعية الصعبة.

السؤال الثاني (أكمل العبارات الآتية)

- ١- أولي دول العالم إنتاج القمح ؟ ج- (الصين) .
- ٢- أولي دول العالم إنتاج الأرز؟ ج- (الصين) .
- ٥- أولي دول قارة أفريقيا في إنتاج الأرز؟ ج- (مصر) .
- ٧- ثاني قارات العالم إنتاج الذرة ؟ ج- (آسيا) .
- ٩- أولي دول العالم إنتاج قصب السكر ؟ ج- (البرازيل) .
- ١١- تتركز زراعته بنجر السكر في قاره (أوروبا) وامم دولها (فرنسا - ألمانيا) .
- ١٢- أولي قارات العالم إنتاج القطن (آسيا) .
- ١٤- أولي دول العالم في إنتاج القطن (الصين - الهند) .
- ١٦- أولي دول العالم في إنتاج الكتان (فرنسا) .
- ١٨- أولي دول العالم في إنتاج الجوت (الهند) .
- ٢٠- أولي دول العالم في إنتاج المطاط (تايلاند) .
- ٢٢- أولي دول العالم إنتاج للشاي (الصين) .
- ٢٤- تم اكتشاف البن لأول مره في دوله (أثيوبيا) .
- ٢٦- من الدول التي تمارس الرعي التجاري في أمريكا الشمالية (الولايات المتحدة الأمريكية) .
- ٢٧- من الدول التي تمارس الرعي التجاري في أمريكا الجنوبية (الأرجنتين) .
- ٢٨- أولي قارات العالم إنتاج للأبقار (آسيا) .
- ٣٠- أولي دول العالم إنتاج للأغنام (الصين) .
- ٣٢- ثاني دول العالم إنتاج للحوم (الولايات المتحدة الأمريكية) .
- ٣٤- أولي دول العالم إنتاجاً للآلبان (الهند) .
- ٣٦- أولي دول العالم تصديراً للأسماك (الصين) .
- ٣٨- أولي دول العالم إنتاجاً للنحاس (شيلي) .
- ٤٢- أولي دول العالم إنتاجاً للمنجيز (جنوب أفريقيا) .
- ٤٤- أولي دول العالم إنتاجاً للفحم (الصين) .
- ٤٦- أكثر أنواع الفحم إستخداماً وانتشاراً (البيتومين) .
- ٤٨- أقل أنواع الفحم جوده (اللجنيت) .
- ٢- أولي قارات العالم إنتاج الأرز؟ ج- (آسيا) .
- ٤- أولي دول العالم إنتاج الأرز خارج قارات آسيا ؟ ج- (البرازيل) .
- ٦- أولي قارات العالم في إنتاج الذرة ؟ ج- (أمريكا الشمالية) .
- ٨- يزرع قصب السكر في جميع قارات العالم ماعدا قارة . ج- (أوروبا) .
- ١٠- ثاني دول العالم في إنتاج قصب السكر؟ ج- (الهند) .
- ١٣- ثاني قارات العالم إنتاجاً للقطن (أمريكا الشمالية) .
- ١٥- أولي قارات العالم إنتاجاً للكتان (أوروبا) .
- ١٧- تتركز زراعته الجوت في قاره (آسيا) .
- ١٩- مدينة بها مصنع الجوت في مصر في (بلبيس) بمحافظته الشرقية .
- ٢١- أولي دول قارة أفريقيا في إنتاج المطاط (نيجيريا) .
- ٢٣- أولي دول العالم إنتاجاً للبن (البرازيل) .
- ٢٥- أولي دول العالم استهلاكاً للبن (الولايات المتحدة الأمريكية) .
- ٢٩- أولي دول العالم إنتاجاً للأبقار (الهند) .
- ٣١- أولي دول العالم إنتاجاً للحوم (الصين) .
- ٣٣- أولي دول العالم إنتاجاً للدواجن (الولايات المتحدة الأمريكية) .
- ٣٥- أولي دول العالم إنتاجاً للأسماك (الصين) .
- ٣٧- أولي دول العالم إنتاجاً للحديد (الصين) .
- ٣٩- أولي دول العالم إنتاجاً للبوكسيت (أستراليا) .
- ٤٢- أولي دول العالم إنتاجاً للفوسفات (الصين) .
- ٤٥- ثاني دول العالم إنتاجاً للفحم (الولايات المتحدة الأمريكية) .
- ٤٧- أجود أنواع الفحم (الأنثراسيت) .
- ٤٩- أولي دول العالم إنتاجاً للبتروول (المملكة العربية السعودية) .

- ٥٠- ثاني دول العالم إنتاجا للبتروال (روسيا) ٥١- أولى دول العالم إنتاجا للغاز الطبيعي (الولايات المتحدة الأمريكية)
 ٥٢- أولى قارات العالم إنتاجا للكهرباء (أمريكا الشمالية) ٥٣- أولى قارات العالم إنتاجا للطاقة النووية (أوروبا)
 ٥٤- أكبر الأقاليم الصناعية في العالم الجديد . إقليم (شمال شرق الولايات المتحدة الأمريكية)
 ٥٥- من المراكز الصناعية الحديثة في شرق آسيا (ماليزيا - تايلاند - أندونيسيا - سنغافورا) .
 ٥٦- تتركز في دول الخليج الصناعية (البتروال) .
 ٥٧- تنسب الجزيرة اليابانية - هونشو - وجمهورية كوريا إلى إقليم (شرق آسيا) الصناعي .
 ٥٨- ينتج النحاس في قاره أوروبا في دولة (بولندا) .
 ٥٩- من أهم المراكز الصناعية في إقليم روسيا وأوكرانيا (موسكو، الأورال) .

السؤال الثالث (ما النتائج المترتبة على) :

- ١- ضيق مساحة الحقول في الزراعات الكثيفة ؟ ج- صعوبة إستغلال الميكنة .
 ٢- استخدام الآلات الزراعية الحديثة في الزراعة التجارية ؟ قلة التكلفة / قلة عدد العماله الزراعه / توفير الوقت / توفير الجهد .
 ٣- إعتقاد دول جنوب شرق آسيا على الأرز كمصدر رئيسي للغذاء ؟
 ج- أصبح إنتاج الأرز يستهلك محليا دون وجود فائض للتصدير .
 ٥- وجود الديانة الهندوسية في الهند ؟ ج- تحريم ذبح الأبقار مما أدى إلى قلة القيمة الاقتصادية للأبقار في الهند .
 ٦- تربية أستراليا لأغنام المارنيو ؟ ج- شهرة أستراليا بإنتاج الصوف الجيد .
 ٩- إتساع مساحة العيش في أستراليا ؟ ج- أصبحت أستراليا أولى دول العالم إنتاجا للأغنام .
 ١٠- طول سواحل الصين على المحيط الهادي ؟ ج- أصبحت الصين أولى دول العالم إنتاجا للثروة السمكية .
 ١١- توفر البترول في دول الخليج بوفرة ؟
 ج- قلة عدد العاملين بحرقه الرعى البدائي / تحقيق الرفاهية والنمو العمراني لدول الخليج .
 ١٥- إعتقاد الرعى التجاري على التخصص والتقدم العلمي ؟
 ج- أصبح الرعى التجاري هو المصدر الرئيسي للحوم ولالبان في العالم .
 ١٦- ارتفاع نسبة إنتاج الولايات المتحدة للذرة الشامية ؟ ج- تم استخدامها كعلف للماشية .
 ١٧- عدم زراعه قصب السكر في أوروبا ؟ ج- إهتمام أوروبا بزراعه بنجر السكر .
 ١٨- الوحده الاقتصادية لدول أوروبا ؟ ج- أدت إلى التكتل في الجوانب الصناعية والاقتصادية و حمايتها جمركيا .

السؤال الخامس :

قارن بين الزراعة البسيطة والزراعة الكثيفة والتجارة العالمية من حيث : الخصائص و مناطق زراعتها و أهم المحاصيل .

الزراعة البسيطة	الزراعة الكثيفة	الزراعة التجارية
التعرف	زراعة الأرض بشكل مكثف لإشباع حاجة السكان من الغذاء	تسمى بالزراعة الواسعة التي تعتمد على الأساليب الحديثة
أماكن انتشارها	توجد في المناطق الحارة والمعتدلة	في مناطق القمح والقطن في الولايات المتحدة - مزارع المطاط والشاي في جنوب شرق آسيا زراعة القمح في أستراليا
مميزاتها	زراعة الأرض مرتين وثلاثة في السنة تتم من خلال عمليات عديدة مثل بذر البذور والري وتقيية الحشائش تتطلب أيدي عاملة وفيرة - يصعب فيها استخدام الميكنة	وتهدف إلى الإنتاج التجاري الضخم وتستخدم أحدث الآلات الحديثة تتميز بالتخصص
المحاصيل	القمح الأرز القطن	القمح والمطاط والشاي والقطن

الرعي البدائي	الرعي التجاري	
تعارسه جماعات سكانية في المناطق الصحراوية في الدول النامية	يعتمد على الأساليب الحديثة والتخصص في حيوان المراضى لإنتاج الألبان واللحوم	مميزاته
الصحارى العازة بشبه الجزيرة والشام وسط آسيا	مناطق الحشائش (السافانا - الإستبس) ويسود في الولايات المتحدة والأرجنتين	مناطق انتشاره

السؤال السادس (أكتب ما تشير إليه كل عبارة) :

- ١- زراعة الأراضى بأكثر من محصول في العام الواحد لإشباع حاجات السكان من الغذاء
- ٢- رعى يعتمد على أحدث الأساليب العلمية والتخصص لإنتاج الألبان واللحوم
- ٢- نوع من الرعي يوجد في المناطق الصحراوية يعتمد على الأساليب التقليدية
- ٤- نوع من مصادر الطاقة يستخرج من باطن الأرض لا ينتج عنه تلوث للبيئة
- ٥- محصول ذات طبيعة خاصة تحتاج زراعته إلى هواء رطب ، وتربة خصبة خفيفة ، ومطر غزير
- ٦- استخراج المعادن من باطن الأرض
- ٧- من محاصيل الألياف تتركز زراعته في دول قارة آسيا
- ٨- نباتات كانت موجودة تحولت إلى مواد كربونية سوداء بفعل الضغط والحرارة
- ٩- يطلق عليه زيت الصخر ونشأ عن تحلل كائنات بحرية وغطتها رواسب من الطين والرمال
- ١٠- معدن يستخدم في تحويل الحديد إلى صلب
- ١١- المحصول الثاني لإنتاج السكر
- ١٢- تنتج من حركة الرياح وحركة المد والجزر
- ١٢- محصول ذات طبيعة خاصة يستخدم في صناعة إطارات السيارات
- ١٤- كهرباء يتم توليدها باستخدام الفحم أو البترول أو الغاز الطبيعي
- ١٥- كهرباء يتم توليدها عن طريق المحطات النووية
- ١٦- كهرباء يتم توليدها عن طريق الشلالات أو السدود

وضح علاقة مصر بدول الهند ؟ - علاقات سياسية واقتصادية حيث تستورد مصر من الهند (السمسم ، التوابل ، الشاي) .
وتصدر مصر إلى الهند (القطن ، الأسمدة ، البترول) .

وضح علاقة مصر بدوله نيجيريا ؟ - علاقات اقتصادية تقوم على التبادل التجاري حيث
- تصدر مصر إلى نيجيريا (الأسمدة ، مواسير الألومنيوم ، والأسلاك النحاسية ، والمعدات الثقيلة) .
- وتستورد مصر من نيجيريا (الحبوب الزيتية) .

وضح علاقة مصر بدوله ألمانيا ؟ - علاقات ثقافية وعلمية تقوم على التبادل العلمي حيث - توجد الجامعة الألمانية في القاهرة - وتصدر مصر لألمانيا (الملابس ، الغاز الطبيعي) - وتستورد من ألمانيا (السيارات ، الآلات) .

وضح علاقة مصر بدوله البرازيل ؟ - علاقات اقتصادية تقوم على التبادل التجاري حيث
- تستورد مصر من البرازيل (البن ، السكر ، الدخان ، اللحوم) . - وتصدر مصر للبرازيل (الأسمدة ، المواد الغذائية) .

وضح علاقة مصر بدوله الولايات المتحدة الأمريكية ؟

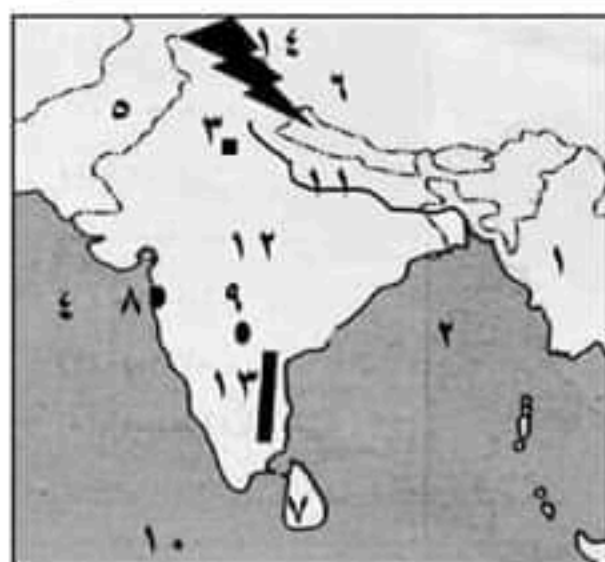
- علاقات ثقافية وعلمية تقوم على التبادل العلمي . - توجد منطقتهم للتجارة الحرة .
- اتفاقية الكوييز . - وتستورد مصر من الولايات المتحدة (الطائرات ، الأسلحة) .

السؤال السابع : أين تقع المدن التالية وما شهرتها ؟

المدينة	الدولة	الشهرة
نيودلهي	الهند	العاصمة السياسية للهند .
بومباي	الهند	العاصمة التجارية للهند
حيدر أباد	الهند	تشتهر بالصناعات اليدوية والفن المعماري ووجود المركز الإسلامي
ابوجا	نيجيريا	العاصمة الحالية لنيجيريا .
لاجوس	نيجيريا	العاصمة القديمة لنيجيريا وهي العاصمة الاقتصادية .
ايبادان	نيجيريا	عاصمة الولاية الغربية وهي مركز التجارة .
برلين	ألمانيا	العاصمة السياسية لألمانيا .
هامبورج	ألمانيا	ميناء هام وقريبه من بحر الشمال
ميونخ	ألمانيا	عاصمة إقليم بافاريا .

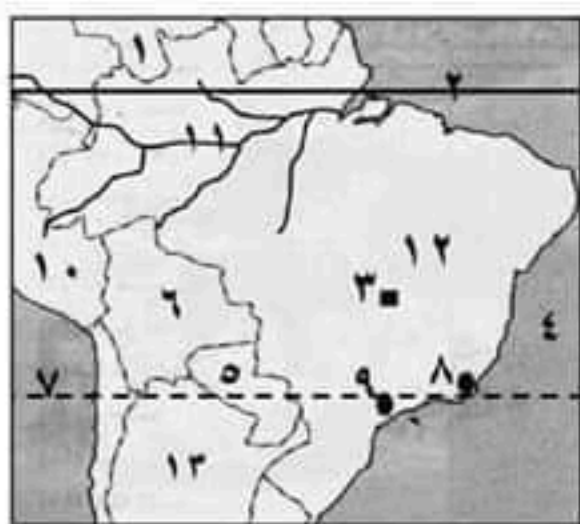
برازيليا	البرازيل	العاصمة الحالية للبرازيل .
ريودي جانيرو	البرازيل	العاصمة القديمة للبرازيل وتعد من أجمل دول العالم.
ساوبولو	البرازيل	أهم الموانئ على المحيط الأطلنطي
ميناؤوس	البرازيل	على نهر الأمزون لتوجيه السكان نحو الداخل
واشنطن	الولايات المتحدة الأمريكية	العاصمة السياسية وبها البيت الأبيض والكونجرس
نيويورك	الولايات المتحدة الأمريكية	ميناء هام على المحيط الأطلنطي وبها مقر الأمم المتحدة.
شيكاغو	الولايات المتحدة الأمريكية	تقع على بحيرة متشجين وهي عاصمة السهول الوسطى
سان فرانسيسكو	الولايات المتحدة الأمريكية	ميناء هام في المحيط الهادي

أمامك خريطة صماء للهند وضح ما تدل عليه البيانات :



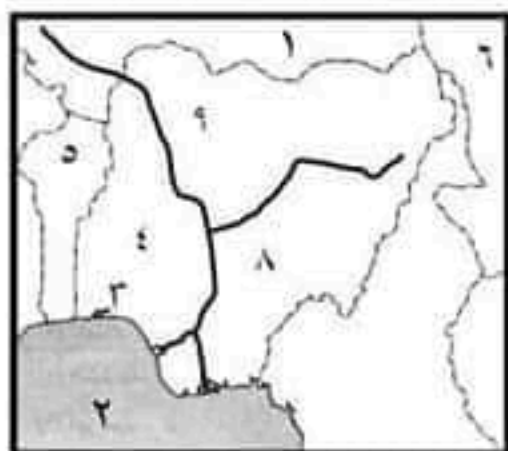
- ١- دولة بورما .
- ٢- خليج البنغال .
- ٣- مدينة نيودلهي .
- ٤- بحر العرب .
- ٥- دولة باكستان .
- ٦- دولة الصين .
- ٧- جزيرة سيلان .
- ٨- مدينة بومباي .
- ٩- مدينة حيدرآباد .
- ١٠- المحيط الهندي .
- ١١- نهر الجانج .
- ١٢- هضبة الدكن .
- ١٣- جبال الغات الشرقية .
- ١٤- جبال الهيمالايا .

أمامك خريطة صماء للبرازيل :



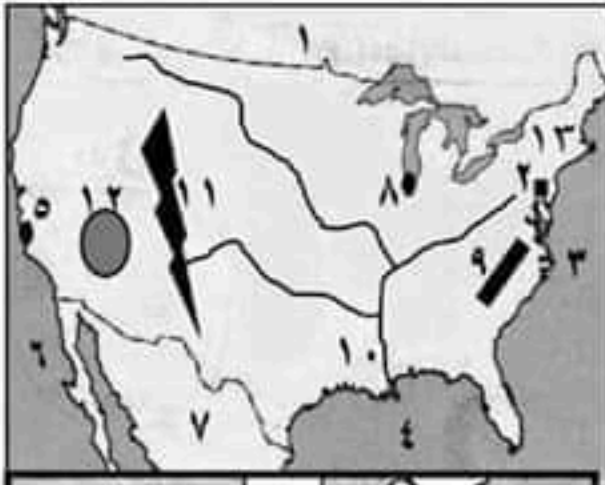
- ١- دولة فنزويلا .
- ٢- خط الاستواء .
- ٣- مدينة برازيليا .
- ٤- المحيط الأطلنطي .
- ٥- دولة باراجواي .
- ٦- دولة بوليفيا .
- ٧- مدار الجدي .
- ٨- مدينة ريودي جانيرو .
- ٩- مدينة ساوبولو .
- ١٠- دولة بيرو .
- ١١- نهر الأمزون .
- ١٢- هضبة البرازيل .
- ١٣- دولة الأرجنتين .

أمامك خريطة صماء للنيجيرية وضح ما تدل عليه البيانات :



- ١- دولة النيجر .
- ٢- خليج غينيا .
- ٣- مدينة لاجوس .
- ٤- مدينة إيبادان .
- ٥- دولة بنين .
- ٦- دولة تشاد .
- ٧- مدينة ابوجا .
- ٨- نهر النيجر .

أمامك خريطة للولايات المتحدة الأمريكية :



- ١- دولة كندا . ١١- جبال الروكي . ١٢- حفصة كلورادو
- ٢- مدينة واشنطن . ١٣- مدينة نيويورك
- ٣- المحيط الأطلنطي .
- ٤- خليج المكسيك .
- ٥- مدينة لوس أنجلوس .
- ٦- المحيط الهادي .
- ٧- دولة المكسيك .
- ٨- مدينة شيكاغو .
- ٩- جبال الأبالاش .
- ١٠- نهر المسيسيبي .

أمامك خريطة لألمانيا :



- ١- دولة بولندا .
- ٢- دولة التشيك .
- ٣- دولة النمسا .
- ٤- دولة سويسرا .
- ٥- دولة فرنسا .
- ٦- دولة بلجيكا .
- ٧- دولة هولندا .
- ٨- بحر الشمال .
- ٩- دولة الدنمارك .
- ١٠- بحر البلطيق .
- ١١- مدينة برلين .
- ١٢- مدينة هامبورج .
- ١٣- جبال الألب .
- ١٤- نهر الراين .
- ١٥- نهر الب .
- ١٦- مدينة ميونيخ .
- ١٧- دولة بلجيكا .

ثانيا التاريخ

السؤال الأول (علل لما يأتي) :

- ١- قيام ثوره ٢٣ يوليو ١٩٥٢ م ؟ ج- ١) استمرار الاحتلال البريطاني لمصر . ٢) مزيمه الجيش المصري في حرب فلسطين .
- ٢) فساد النظام الملكي الذي أدى إلى انحدار سمعه مصر . ٤) تدهور الأحوال الاقتصادية . ٥) سوء الأحوال الاجتماعيه .

٢- قيام ثوره ٢٥ يناير ٢٠١١ ؟

ج- أولا : العوامل الخارجيه :

- ١) غياب دور مصر الرائد على المستوى العربي والافريقي .
- ٢) التأثير بالثوره التونسيه التي أطاحت بالرئيس التونسي زين العابدين بن علي .

ثانيا : العوامل الداخليه :

- ١) سوء الأحوال الاقتصادية تتمثل في : أ) ارتفاع معدل البطاله . ب) ارتفاع الأسعار . ج) الخصخصة .
- ٢) سوء الأحوال الاجتماعيه والتي تتمثل في : أ) زياده الفوارق بين الطبقات . ب) زواج المصلحه .
- ٣) سوء الأحوال السياسيه والتي تتمثل في : أ) قانون الطوارئ .
- ب) التزوير في انتخابات مجلس الشعب ٢٠١٠ م وحصول الحزب الوطني على ٩٧٪ من المقاعد . ج) مشروع التوريث .
- ٤) سوء الأحوال التعليميه والصحيه .

٣- وقوف مصر بجانب سوريا ؟ ج- طبقا لاتفاقية الدفاع المشترك .

٤- هزيمة الجيش المصري في فلسطين عام ١٩٤٨ م ؟

- ج- ١) صفقه الأسلحه الفاسده ٢) عدم استعداد الجيش المصري للحرب ٣) قيام الولايات المتحده الأمريكيه بمساعدته إسرائيل .
- ٥- قيام الملك فاروق بمغادره البلاد قبل الموعد المحدد ؟ ج- لأنه أدرك أن الجيش والشعب يكرهونه - تخلى الانجليز عنه .
- ٦- صدور قرار الاصلاح الزراعي ؟ ج- للقضاء على الاقطاع .

٧- محاصره الانجليز لقصر عابدين عام ١٩٤٢ م ؟ ج- لإجبار الملك فاروق على تشكيل حكومه النحاس باشا .

٨- أهميه فلسطين بالنسبه للعرب ؟

- ج- ولد بها المسيح عليه السلام - بها المسجد الأقصى أولى القبلتين وثالث الحرمين - بها أسرى الرسول ﷺ .

٩- حرب فلسطين عام ١٩٤٨ ؟

- ج- لإنقاذ الفلسطينيين من بطش اليهود - مساعدته الفلسطينيين على إقامة حكومتهم داخل دولتهم .

١٠- العدوان الثلاثي على مصر أكتوبر ١٩٥٦ م ؟

ج- تأميم مصر لقناه السويس - مساعده مصر للثوره في الجزائر - صفقه السلاح مع الاتحاد السوفيتي .

١١- فشل العدوان الثلاثي على مصر؟

ج- مقاومه الجيش والشعب المصري - وقوف الدول العربيه بجانب مصر - تهديد الاتحاد السوفيتي - رفض امريكا استخدام القوه في حل المنازعات - تنديد الامم المتحده بالعدوان .

١٢- إغلاق مصر لخليج العقبه ؟

ج- حتى تضع إسرائيل تحت الحصار الاقتصادي .

١٣- العدوان الاسرائيلي في ٥ يونيو عام ١٩٦٧ ؟

ج- إغلاق مصر لخليج العقبه في وجه الملاحه الاسرائيليه لاتفاقيه الدفاع المشترك .

١٤- تقدم الولايات المتحده بمبادره روجرز ؟

ج- لوقف إطلاق النار بين مصر وإسرائيل اثناء حرب الاستنزاف .

١٥- هزيمه الدول العربيه في ٥ يونيو عام ١٩٦٧ م ؟

ج- التفوق العسكري لإسرائيل - وقوف امريكا بجانب إسرائيل - استخدام إسرائيل لعنصر المفاجاه - نقص التدريب عند العرب

١٦- اندلاع حرب أكتوبر عام ١٩٧٣ م ؟

ج- بسبب رفض إسرائيل نداءات السلام وامتناعها عن تنفيذ قرار ٢٤٢ - تصميم مصر وسوريا على ازاله نكسه ١٩٦٧ م .

١٧- إنتصار مصر في حرب عام ١٩٧٣ م ؟

ج- (١) الاستعداد الجيد للحرب . (٢) استخدام عنصر المفاجاه . (٣) وقوف الدول العربيه بجانب مصر .

١٨- زياره الرئيس السادات لإسرائيل عام ١٩٧٧ م ؟

ج- من أجل إنهاء الصراع العربي الإسرائيلي سلمياً .

١٩- إعتبار يوم ١٨ يونيو من كل عام يوم خالد في تاريخ الشعب المصري ؟

ج- لأنه في يوم ١٨ يونيو عام ١٩٥٢ م تم إلغاء الملكية واعلان الجمهوريه وأصبح محمد نجيب أول رئيس لجمهوريه مصر العربيه وفي يوم ١٨ يونيو عام ١٩٥٦ تم خروج القوات البريطانيه من مصر .

٢٠- يعد يوم ١١ فبراير عام ٢٠١١ م يوم خالد في تاريخ الشعب المصري ؟

ج- لانه في هذا اليوم تخلى الرئيس مبارك عن الرئاسه تاركاً إداره البلاد للمجلس الأعلى للقوات المسلحه .

٢١- تشكيل اللجان الشعبيه ؟

ج- لمواجهة أعمال السرقة والتخريب ، وحفظ الأمن ، وحمايه الممتلكات العامه والخاصه .

٢٢- صدور الدستور الدائم عام ١٩٧١ ؟

ج- مؤكداً على سياده القانون واستقلال القضاء وتحديد مهام رئيس الدوله والسلطه التشريعيه والسلطه التنفيذية

٢٣- إصدار إنجلترا وعد بلفور عام ١٩١٧ م ؟

ج- لإنشاء وطن قومي لليهود في فلسطين .

٢٤- قلّه أهميه مجلس المشوره ؟

ج- لان محمد علي كان يقوم باختيار الاعضاء بنفسه وكانت الكلمه الأخيره لمحمد علي .

٢٥- أهميه إنشاء جامعه الدول العربيه (وأهدافها) ؟

ج- (١) تحقيق التعاون بين الدول العربيه . (٢) إقامة علاقات بين الدول العربيه . (٣) المحافظه على استقلال الدول العربيه

٢٦- أهداف إنشاء الامم المتحده ؟

ج- إقامة علاقات بين دول العالم - تحقيق التعاون بين الدول - تحقيق السلام بين دول العالم - احترام حقوق الإنسان

٢٨- يعد مجلس الأمن من أهم أجهزة الأمم المتحده ؟

ج- لانه هو المسؤول عن حفظ الأمن والسلام بين دول العالم .

٢٩- إنشاء منظمه الصحة العالميه ؟

ج- لتوفير الرعاية الصحيه لجميع شعوب العالم - حمايه مياه الشرب من التلوث .

٢٠- أهميه إنشاء منظمه الاغذيه والزراعه ؟

ج- لتحسين الإنتاج الزراعي والحيواني - القضاء على الجوع في العالم .

السؤال الثاني (إنسب الاعمال الآتيه) :

١- تنازل عن حكم مصر لابنه أحمد فؤاد الثاني .

(الملك فاروق)

٢- أول رئيس لجمهوريه مصر العربيه . (محمد نجيب)

٤- أذاع بيان ٢٣ يوليو ١٩٥٢ م . (السادات)

٩- قام بتقديم مبادره وقف إطلاق النار اثناء حرب الاستنزاف . (روجرز)

١٠- قائد حرب أكتوبر وبطل السلام . (محمد أنور السادات)

١٢- دعى إلى عقد مؤتمر كامب ديفيد . (جيمي كارتر)

١٤- قام بإنشاء مجلس المشوره عام ١٨٢٩ م . (محمد علي)

١٦- أصدرت أول جريدة نسائية . (جميلة حافظ)

١٨- تولت منصب وزيرة الشؤون الاجتماعيه عام ١٩٧١ في عهد السادات . (عائشة راتب)

١٩- كانت رئيسة اللجنة النسائية للوفد في المؤتمر النسائي ١٩٢٠ . (هدى شعراوي)

٢٠. كانت رئيسة اللجنة التشريعية بمجلس الشعب
٢١. تولت منصب أول قاضية في المحكمة الدستورية ٢٠٠٢
٢٢. تولت منصب أول عمدة (إيفها هايل)
٢٤. أسس الحزب الوطني ١٩٠٧ (مصطفى كامل)
٢٦. أسس حزب الإصلاح على المبادئ الدستورية (الشيخ على يوسف)
- (أمال عثمان)
(تهاني الجبالي)
٢٣. أول مأذونة مصرية
٢٥. أسس حزب الأمة (أحمد لطفي السيد)

السؤال الثالث

١- أذكر أهداف ثورة ٢٣ يوليو ١٩٥٢ م ؟

- ج- ١) القضاء على الإقطاع . ٢) القضاء على الاستعمار . ٣) القضاء على الاحتكار وسيطره رأس المال .
٤) إقامة جيش وطني قوى . ٥) إقامة حياة ديموقراطية سليمة .

٢- أذكر إنجازات ثورة ٢٣ يوليو في المجال السياسي ؟

- ج- ١) إلغاء الملكية وإعلان الجمهورية . ٢) توقيع إتفاقية السلام . ٣) تأميم شركه قناة السويس .

٣- أذكر إنجازات ثورة ٢٣ يوليو في المجال الإقتصادي ؟

- ج- ١) بالنسبة للزراعة تم استصلاح أراضى زراعية جديدة وبناء السد العالي وللحماية مصر من الفيضان وتوليد الكهرباء .
٢) بالنسبة للصناعة إقامة مصانع جديدة مثل مصنع الحديد والصلب في حلوان ومصنع الأسمدة في اسوان .
٣) بالنسبة للتجارة تم فتح أسواق جديدة في الخارج .

٤- أذكر إنجازات ثورة ٢٣ يوليو في المجال الاجتماعي .

- ج- ١- إصدار قانون الإصلاح الزراعي في سبتمبر عام ١٩٥٢ م للقضاء على الإقطاع .
٢- إقامة عدالة اجتماعية تتمثل في أ- مجانية التعليم - ب- إصدار قانون للتأمينات والمعاشات - ج- مشاركة المرأة في الانتخابات .

٥- أذكر إنجازات ثورة ٢٣ يوليو في المجال العربي .

- ١- إقامة الوحدة بين العربية بين مصر وسورية ١٩٥٨ .
٢- مساعدة مصر بعض الدول العربية في الحصول على استقلالها مثل (الكويت - العراق - اليمن - الجزائر)

٦- أذكر إنجازات ثورة ٢٣ يوليو في المجال الدولي .

- ج- ١- شاركت مصر بعض الدول الأفريقية في الحصول على استقلالها مثل (كينيا - الكاميرون - انجولا - جنوب أفريقيا) .
٢- شاركت مصر في دول عدم الانحياز في مؤتمر ياندونج باندونيسيا عام ١٩٥٥ م .
٣- شاركت مصر في صفقة الأسلحة الشرقية عام ١٩٥٥ م .

السؤال الثالث أكمل العبارات الآتية :-

- ١- قامت الوحدة بين مصر و (سوريا) عام ١٩٥٥ . ٢- شاركت مصر في دول عدم الانحياز في مؤتمر (ياندونج) .
٣- ادي فساد النظام الملكي إلى انحدار سمعة مصر . ٤- تم إذاعة البيان الأول للثورة باسم (محمد نجيب) .
٥- يوسف وعد (بلفور) بوعد من لا يملك لمن لا يستحق .
٧- ترجع جذور نشأة الصهيونية الي (هيرتزل) وما قدمها في بادي الأمر في مدينة (لندن) .
٨- أعطى مؤتمر (سان ريمو) لبريطانيا حق الانتداب على فلسطين عام ١٩٢٠ م .
١٠- اقررت عصبة الأمم وضع فلسطين تحت الانتداب (البريطاني) .
١١- في سبيل إقامة اليهود للدولة إسرائيل ارتكبوا مذبحه (ديرياسين) .
١٢- دخلت الجيوش العربية حرب ١٩٤٨ لانقاذ أهل فلسطين من بطش (اليهود) .
١٣- أعلنت مصر وقوفها بجانب سوريا طبقا للاتفاقية (الدفاع المشترك) .
١٤- قامت صواريخ البحرى المصري في أكتوبر ١٩٦٧ م تدمير المدمرة الاسرائيلية (ايلات) .
١٥- يعرف خط الدفاع الإسرائيلي في سيناء باسم (بارليف) ١٦- يعرف خط الدفاع الإسرائيلي في هضبة الجولان باسم خط (ألون)
١٧- أصبحت القدس عام ١٩٤٧ م منطقة (دولية) ١٨- في عام ١٩٤٧ م رفضت الدول العربية مشروع تقسيم (فلسطين)
١٩- استعادت مصر كل أراضيها من الاحتلال الإسرائيلي عام ١٩٨٩ بعد عودة منطقة (طابا)
٢٠- تم توقيع معاهدة السلام ١٩٧٩ بين مصر وإسرائيل بمشاركة و رعاية (الولايات المتحدة الأمريكية) .
٢١- عقد مؤتمر (مدريد) عام ١٩٩١ على أساس مبدأ الأرض مقابل السلام .
٢٢- تم وضع اتفاقية أوسلو عام ١٩٩٢ بين إسرائيل و (منظمة التحرير الفلسطينية) .
٢٣- تم إنشاء (جامعة الدول العربية) في مارس عام ١٩٤٥ م ٢٤- تم إنشاء (الأمم المتحدة) في آخر عام ١٩٤٥ م .
٢٥- يعين الأمين العام للجامعة الدول العربية من خلال (مجلس الجامعة)
٢٦- يعين الأمين العام للأمم المتحدة من خلال (الجمعية العامة) ٢٧- مقر جامعة الدول العربية (القاهرة) .
٢٨- مقر الأمم المتحدة (نيويورك) ٢٩- مقر منظمة الصحة العالمية (جنيف) .

س- قرار التحكيم في ٢٩ سبتمبر ١٩٨٨ ؟

ج- ١- أحقيه طابا إلى مصر . ٢- عوده طابا إلى السيادة المصريه .

س- عقد مؤتمر مدريد للسلام عام ١٩٩١ م ؟ ج- توصل إلى عقد مفاوضات بين إسرائيل ومنظمه التحرير الفلسطينيه .

س- مؤتمر اسلو عام ١٩٩٢ م ؟

ج- ١- إقامه حكومه إنتقاليه للفلسطين . ٢- إقامه مجلس تشريعي للفلسطينيين . ٣- إقامه شرطه لحفظ الأمن في فلسطين .

س- تدهور الأوضاع الاقتصاديه والاجتماعيه في عهد مبارك ؟ ج- قيام ثوره ٢٥ يناير ٢٠١١ م .

السؤال الخامس (أثبت تاريخيا صحة العبارات التاليه :)

١- تعدد صور الاستعداد لحرب أكتوبر ؟

ج- بالنسبه للجبهه الداخليه :

أ- إلغاء الرقابه على الصحف . ب- القضاء على مراكز القوى . ج- إصدار الدستور الدائم عام ١٩٧١ م .

- بالنسبه للجبهه الخارجيه :

أ- توحيد الصف العربي . ب- الاستفادة من إمكانيات الدول العربيه .

٢- وجود تعاون بين مصر ومنظمه اليونيسكو ؟

ج- حيث ساهمت منظمه اليونيسكو في حمايه معابد أبو سمبل من الغرق وساهمت في إعادة بناء مكتبه الإسكندريه .

٢- تعدد ثوره ٢٥ يناير من الثورات الفريده في التاريخ الحديث ؟

ج- ١- لأن تم فيها استخدام التكنولوجيا الحديثه مثل الفيس بوك والانترنت .

٤- وقوف الدول العربيه بجانب مصر في حرب أكتوبر ١٩٧٣ م ؟

ج- ١- حيث قامت بعض الدول العربيه بتقديم مساعدات ماليه .

٢- قامت دول أخرى بتقديم مساعدات عسكريه مثل تونس- المغرب- الجزائر والعراق .

٣- قيام الدول العربيه برفع صادرات البترول للدول التي تساند إسرائيل مما أدى إلى ارتفاع اسعار البترول وتخلي هذه الدول عن مساندها لإسرائيل .

قارن بين المنظمه الإقليميه والدوليه

المنظمه الدوليه	المنظمه الاقليميه
تضم دول العالم المستقله وان لم توجد روابط تربطهم مثل : الأمم المتحده .	تضم دول العالم المستقله التي تربطهم روابط معينه مثل : جامعه الدول العربيه- الاتحاد الافريقي

س- وضح موقف العرب واليهود وبريطانيا في قرار تقسيم فلسطين ؟

أولا : موقف العرب من قرار تقسيم فلسطين .

ج- رفض العرب قرار تقسيم فلسطين وقاموا بحرب فلسطين عام ١٩٤٨ ؟

ثانيا : موقف إسرائيل .

ج- وافقت إسرائيل وقامت عصابات من اليهود بطرد فلسطين من ديارهم وارتكاب المذابح مثل مذبحه دير ياسين .

ثالثا : موقف بريطانيا .

ج- رفضت بريطانيا التصويت وقامت بإلغاء إنتدابها على فلسطين .

س- أكتب ما تشير إليه كل عباره :

١- من أهم أجهزه الأمم المتحده ومسئوله عن حفظ السلام بين دول العالم . (مجلس الأمن)

٢- حق الاعتراض تتمتع به الدول الخمس الدائمه العضويه في مجلس الأمن . (حق الفيتو)

٣- منظمه تضم دول العالم المستقله . (الأمم المتحده) .

٤- منظمه متخصصة في مجالات التربيه والعلوم والثقافه . (اليونيسكو) .

المراجعة النهائية جغرافيا

بم تفسر

- ١- مارس الإنسان العديد من الأنشطة الاقتصادية البدائية؟
 - ١- حلة عده ٢- قسوة البيئة ٣- عدم توافر الإمكانيات العلمية
- ٢- تعتبر الزراعة من الأنشطة الاقتصادية العامة في العالم ؟
 - ١- مصدر رئيسي لغذاء الإنسان ٢- مصدر هام للمواد الخام الصناعية (الكتان - المطاط - القطن)
 - ٣ - ترتبط الزراعة بتربية الحيوان ٤ - يعمل بها عدد كبير من السكان في العالم
- ٣- يمارس السكان في بعض الأماكن الزراعة البسيطة ؟

لتوفير الاحتياجات الغذائية اللازمة للسكان دون وجود فائض للتصدير
- ٤- تنتشر الزراعة الكثيفة في المناطق الحارة والمعتدلة ؟

بسبب توافر مياه الأنهار والأمطار والتربة الخصبة مما يسمح بزراعة الأرض مرتين وثلاثة في السنة
- ٥- تحتاج الزراعة الكثيفة الى ايدى عاملة كثيرة ؟

لأنها تتم من خلال عمليات عديدة مثل بذر البنور والرى وتنقية الحشائش
- ٦- صعوبة استخدام الآلات والميكنة الزراعية في الزراعة الكثيفة ؟

بسبب ضيق مساحة الحقول الزراعية
- ٧- قلة التكاليف واليدى العاملة في الزراعة التجارية ؟

- بسبب اعتمادها على الأمطار والتخصص في محصول واحد مثل نطاق القمح والقطن في الولايات المتحدة
- ٨- تتميز الزراعة التجارية بالتخصص في محصول واحد ؟

لأنها تهدف إلى الإنتاج التجاري وتتم في مزارع واسعة باستخدام أحدث الآلات الزراعية والطرق العلمية
- ٩- يعتبر القمح الغذاء الرئيسي لمعظم شعوب العالم ؟
 - ١- يصنع منه رغيف الخبز ٢- يستخدم في إنتاج أنواع أخرى مثل (المكرونة - الحلويات)
- ١٠- أهمية محصول الأرز ؟

محصول غذائي رئيسي في شرق وجنوب شرق آسيا
- ١١- يزرع قصب السكر في جميع القارات ما عدا قارة أوروبا ؟

بسبب عدم توفر شروط زراعته وهي الحرارة المرتفعة حيث تنخفض الحرارة في قارة أوروبا
- ١٢- تركز صناعة السكر في مصر في الوجه القبلي ؟

بسبب وجود زراعة قصب السكر هناك
- ١٣- شهرة قارة أوروبا بإنتاج السكر من البنجر خاصة فرنسا ؟

لملائمة ظروف المناخ والتربة الزراعية
- ١٤- أهمية محصول القطن (القطن المصري من اجود الأنواع طويل التيلة وله شهرة عالمية ؟
 - ١- ينتج منه الخيوط التي تستخدم في صناعة الملابس والمنسوجات ٢- مصدر لإستخراج الزيوت والأعلاف
- ١٥- أهمية المطاط الطبيعي ؟
 - ١- يدخل المطاط في صناعات عديدة وفي مكونات بعض الصناعات
 - ٢- تصنع منه إطارات السيارات وصناعات أخرى
- ١٦- تنتشر زراعة المطاط الطبيعي في نطاق المناخ الاستوائي ؟

لأنه يستخرج من عصارة أشجار استوائية
- ١٧ قلة عدد القانمين بحرفة الرعى بشبة الجزيرة العربية وبادية الشام ؟

بسبب تدفق البترول وتوطين البدر

- ١٨- قلة عدد القائمين بحرفة الرعى في دول وسط اسيا ؟ انتشر التعليم بينهم وعملوا بالصناعة والزراعة والخدمات
- ١٩- اهمية الثروة الحيوانية ؟ المصدر الرئيسي للحوم والالبان والجلود والصوف ومنتجات مفيدة للانسان
- ٢٠- تعتبر استراليا اكبر دول العالم انتاجاً للاغنام ؟ بسبب توفر الحشائش التي تربي عليها الاغنام
- ٢١- زيادة معدل الاستهلاك العالمي للحوم ؟ بسبب ارتفاع مستوى المعيشة في كثير من دول العالم
- ٢٢- رغم ان الهند تمتلك ثروة هائلة من الابقار الا ان انتاجها من اللحم قليل ؟ لان الديانة الهندوسية تقديس الابقار فلا يقومون بذبحها لذلك تعتمد في انتاج اللحوم على حيوانات اخرى غير الابقار
- ٢٣- استيراد مصر اللحوم من الخارج ؟ لسد الفجوة الغذائية للسكان وكثرة الاستهلاك
- ٢٤- اهمية تربية الدواجن ؟ تساهم بمنتجاتها من اللحوم والبيض في سد حاجة السكان
- ٢٥- اصبحت مصر من الدول المستوردة للدواجن ؟ بسبب تناقص انتاجها بسبب أنفلونزا الخنازير
- ٢٦- شهرة استراليا بانتاج الصوف ؟ بسبب تربية اغنام المارينو ذات الصوف الجيد
- ٢٧- اهمية جلود الحيوانات ؟ تدخل في صناعة دبع الجلود وتصنيعها في شكل منتجات جلدية متعددة
- ٢٨- اعتبار المرعى التجاري المصدر الرئيسي لانتاج الثروة الحيوانية في العالم ؟ لانه يعتمد على الاساليب الحديثة في التربية ويوفر فائض للتصدير
- ٢٩- تعد اندونيسيا والصين والولايات المتحدة من الدول الرئيسية في انتاج الاسماك ؟
- ١- طول سواحلها على البحار والمحيطات ٢- تقدم وسائل الصيد
- ٣٠- الاهتمام بصيد الحيتان ؟ للاستفادة من لحومها ولحومها
- ٣١- تنتشر مناطق الصيد على سواحل القارات ؟
- ١- ضحالة المياه الساحلية وغناها بالمواد الغذائية . ٢- التقاء التيارات البحرية الدافئة مع الباردة .
- ٣- وفرة الموانئ لرسو السفن . ٤- زيادة عدد السكان وحاجتهم للغذاء .
- ٥- وفرة الخبرات الفنية في صناعة المراكب وأدوات الصيد والثلاجات
- ٦- التوسع في تربية الاسماك على أسس علمية حديثة.
- ٣٢- اهمية المعادن ؟ المقوم الاساسي للصناعة بشكل عام والصناعات المعدنية والهندسية بشكل خاص
- ٣٣- اهمية الحديد ؟ اهم المعادن المستخدمة في الصناعة وعرفه الإنسان منذ آلاف السنين
- ٣٤- اهمية النحاس ؟ يستخدم في كثير من الصناعات مثل صناعة الأسلاك والأدوات الكهربائية
- ٣٥- اهمية البوكسيت ؟ الخام الرئيسي لصناعة الألمونيوم
- ٣٦- يصدر البوكسيت من الدول النامية الى الدول المتقدمة ؟ نفس السؤال والاجابة
- ٣٧- عدم قيام صناعة الألمونيوم في الدول النامية ؟ بسبب عدم توفر شروط صناعته وهي الطاقة الكهربائية والخبرة الفنية
- ٣٨- توفرن صناعة الألمونيوم في الدول المتقدمة في اوروبا واليابان وكندا واستراليا ؟
- تعتبر الولايات المتحدة من اكبر دول العالم إنتاجاً للألمونيوم رغم قلة انتاجها من البوكسيت ؟ بسبب توفر شروط صناعته ١- طاقة كهربائية ٢- خبرة علمية وفنية
- ٣- سوق محلية وخارجية ليستوعب الإنتاج

٢٩- يوجد مصنع للالومنيوم في نجح حمادى رغم عدم انتاج مصر للبوكسيت ؟

١- تستورد البوكسيت من استراليا ٢- وجود الطاقة الكهربائية بالسد العالى

٣- وجود الخبرة الفنية واليدى العاملة المدربة

٤- أهمية المنجنيز ؟ يستخدم في تحويل الحديد إلى صلب

٤٠- أهمية الفوسفات ؟ من المعادن المخصصة للتربة الزراعية وتصنع منه الأسمدة ويستخدم في صناعة المنظفات

٤١- يرتبط التعدين بوجود الخام بالقرب من المراكز الصناعية ؟ ليسهل نقله من المناجم الى المصانع

٤٢- التوسع في استخدام الطاقة الكهربائية ؟ لانها طاقة نظيفة لا ينتج عنها ملوثات للبيئة

٤٣- أهمية الفحم ؟

١- المصدر الأول للطاقة في العالم حتى أوائل القرن العشرين

٢- كان عماد الثورة الصناعية في أوروبا في أوائل القرن الـ ١٨

٣- مازال الفحم مصدر رئيسي في الصناعة في الدول الكبرى ٤- يستخدم في التدفئة والصناعات الكيميائية

٤٤- يعتبر البترول اهم مصادر الطاقة ؟

١- يكرر ويشقق منه مشتقات عديدة مثل البنزين والسولار

٢- يشكل هو والغاز الطبيعي ٥٥% من الطاقة المستخدمة في العالم

٣- يرتبط بالتنمية الاقتصادية والاجتماعية ٤- يرتبط بالعلاقات السياسية والمشاكل بين الدول الكبرى والنامية

٤٥- تحاول الشركات الأوروبية والأمريكية إثارة المشكلات في الدول النامية مثل السودان ؟

اتجاه الولايات المتحدة للسيطرة على دول الشرق الأوسط ؟ لحرصها على تدفق البترول اليها وتأمين حقولها بمعرفتها

٤٦- زيادة اسعار البترول بصورة مستمرة ؟ ١- زيادة الطلب عليه ٢- تعدد استخداماته ٣- قابليته للنفاذ

٤٧- أهمية البترول لدول الخليج العربي ؟

أ- مصدر للرفاهية الاجتماعية لهذه الدول ب- سبب ما تشهده من نمو عمراني واقتصادي

٤٨- استيراد الولايات المتحدة للبترول رغم انتاجها الضخم منه ؟ لانها تستهلك كل ما تنتجه وتستورد بقية حاجتها

٤٩- أهمية الغاز الطبيعي ؟

١- من مصادر الطاقة النظيفة والرخيصة في العالم ٢- يستخدم في المنازل والصناعة وتوليد الطاقة الكهربائية

٣- يستخدم كوقود للسيارات بديلاً للبنزين ٤- يمثل ١٥% من مصادر الوقود في العالم

٥٠- أهمية الغاز الطبيعي في مصر ؟ ١- ينقل للمنازل لاستخدامه في الطاقة ٢- يصدر جزء كبير منه الى الخارج

٥١- توسع دول العالم في استخدام الغاز الطبيعي كبديل لمصادر الطاقة ؟

١- نظافته للبيئة ٢- رخص ثمنه ٣- سهولة نقله

٥٢- تطور الصناعة تطوراً مذهلاً في الدول المتقدمة ؟

- بسبب اعتمادها على ١- الأساليب العلمية ٢- تطبيق الأبحاث والتجارب العلمية في الاختراع

٣- تطوير المنتجات الصناعية وتحديثها بشكل مستمر

٥٣- ارتفاع مستوى معيشة الأفراد في الدول الصناعية المتقدمة ؟

بسبب تركيز فيها الصناعات المتطورة والمتنوعة التي ارتفعت بمستوى شعوبها مثل الصين وجنوب أفريقيا ومصر

٥٤- توافر مراكز صناعية عديدة في دول أوروبا ؟

١- المناخ الملائم ٢- وفرة المواد الخام

- ٣- وفرة الخبرة الفنية ٤- المهارة والتاريخ الطويل في الصناعة
٥- التقدم العلمي ٦- وفرة مصادر الطاقة الكهربائية والنووية
٧- وجود المدن التي تمثل أسواقًا لاستهلاك المنتجات الصناعية

٥٦- يعتبر إقليم شمال شرق الولايات المتحدة أكبر الأقاليم الصناعية في العالم الجديد ؟

- ١- توافر مقومات الصناعة في الإقليم ٢- توافر المواد الخام
٣- سهولة استيراد المواد الخام من الخارج والداخل عن طريق شبكات من الطرق الحديدية والبرية
٤- اتسع هذا الإقليم الصناعي ليشمل (البحيرات العظمى ، ويتكامل مع المناطق الصناعية بكندا)
٥٧- البرازيل من الدول التي تعاني سوء توزيع السكان ؟ ١: مساحتها الواسعة ٢: وجود مناطق شبه خالية مثل سهول الأمازون

٥٨- بعد سكان البرازيل خليطًا من معظم الأجناس ؟

- لأنه يوجد بها خليط من السكان من أجناس مختلفة مثل :

- ١- السكان الأصليون للبلاد (السود الحمر) ٢- العناصر السوداء ذات الأصول الإفريقية ٣- الأوربيون

٥٩- يتركز سكان البرازيل في الساحل الجنوبي الشرقي ؟ - بسبب وجود المدن الرئيسية مثل ريو دي جانيرو سانتوس و ساو باولو

٦٠- أهمية تصب السكر في البرازيل ؟ تقوم عليه صناعة السكر وبعض المنتجات الأخرى

٦١- انتشار صناعة تصنيع الأخشاب بالبرازيل ؟ بسبب وجود الغابات الاستوائية والندارية، ويقوم السكان بتقطيع الأخشاب وتصنيعها.

٦٢- يمثل الرعي حرفة هامة في الاقتصاد البرازيلي ؟ لأن المراعي الدائمة تغطي مساحات واسعة في شمال هضبة البرازيل

٦٣- البرازيل من الدول الرئسية المنتجة والمصدرة للحوم ومنتجاتها ؟

٦٤- يوجد بالبرازيل ثروة حيوانية كبيرة ومنوعة ؟ لأنه يوجد بها ثروة حيوانية كبيرة ومتنوعة لوجود المراعي.

٦٥- تعد البرازيل من الدول المنتجة للأسماك ؟ لامتلاكها سواحل طويلة على المحيط الأطلنطي والبحر الكاريبي مع وجود نهر الأمازون

٦٥- تطور الصناعة في البرازيل ؟

١- توافر الموارد المعدنية والزراعية ٢- توافر الأيدي العاملة ٣- توافر مقومات الصناعة الأخرى

٦٦- شهرة مدينة برازيليا في البرازيل ؟ العاصمة الجديدة بعد نقلها من ريو دي جانيرو تتميز بطبيعتها الجميلة تعد إحدى المدن الحديثة نسبيًا

٦٧- انشاء مدينة برازيليا في البرازيل ؟ لتعمير هضبة البرازيل وإعادة توزيع السكان نحو الداخل

٦٨- شهرة مدينة ريو دي جانيرو في البرازيل ؟ ١- العاصمة القديمة للبرازيل ٢- تعد واحدة من أجمل مدن العالم

٦٩- شهرة مدينة ساو باولو في البرازيل ؟

١- أهم الموانئ على المحيط الأطلنطي ٢- يوجد العديد من الصناعات المهمة

٣- تشتهر بمبانيها الضخمة وشواطئها الرملية الواسعة - السوق الأولى لتصدير البن في العالم

٧١- ارتفاع كثافة السكان في السهول الشمالية وفي هضبة جوس ؟ لوجود الأراضي الزراعية والمراعي ومناطق التعدين.

٧٢- قلة عدد السكان في دلتا النيجر ؟ بسبب كثافة الغابات والظروف المناخية القاسية

٧٣- بعد اقتصاد نيجيريا اقتصاداً نامياً ؟ لاعتماده على الزراعة في المقام الأول

٧٤- تتمتع نيجيريا بموارد طبيعية متنوعة ؟ لأن أكثر من نصف أراضي نيجيريا صالح للزراعة والرعي

٧٥- أهمية الغابات في نيجيريا ؟

تغطي الغابات مساحة واسعة مصدرًا للأخشاب والكثير من المحاصيل الاستوائية مثل المطاط والكاكاو وزيت النخيل

٧٦- توجد أعداد كبيرة من الأبقار والأغنام والماعز في نيجيريا ؟ بسبب المراعي وحشائش السافانا الغنية

- ٧٧- تنتج نيجيريا كميات من الأسماك ؟ - لأنها تتمتع بساحل على خليج غينيا وبها أنهار وبحيرات بالداخل
- ٧٨- بعد السهل الساحلى فى شمال ألمانيا من المناطق الاقتصادية المهمة ؟
تتركز به الزراعة توجد به المدن الرئيسية والتي أهمها برلين العاصمة و هامبورغ أكبر موانئ ألمانيا.
- ٧٩- أهمية الغابات الصنوبرية فى ألمانيا ؟ تعد مصدرًا للأخشاب ومنتجات الغابة الأخرى
- ٨٠- أهمية الضواش فى ألمانيا ؟ - يتم فيها رعى الماشية والأغنام وحيوانات أخرى
- ٨١- انكماش مساحة الضواش فى ألمانيا ؟ ١- احلال الزراعة محلها ٢- توسعات المدن .
- ٨٢- تركز المهاجرون فى ألمانيا فى المناطق الصناعية فى إقليم الرور؟ - بسبب توافر فرص العمل
- ٨٣- تركز السكان فى ألمانيا فى الأودية وعلى جوانب الأنهار ؟ بسبب وجود الأراضى الزراعية الخصبة
- ٨٤- تعد الزراعة من الأنشطة الاقتصادية الهامة فى ألمانيا ؟
١- يعمل بها نحو ٣% من القوى العاملة - تعتمد على التكنولوجيا الحديثة.
- ٨٥- الصناعة هي العمود الفقري للاقتصاد الألماني ؟ لان يعمل بها نحو ١٤ مليون يمثلون ثلث القوى العاملة
- ٨٦- تطور الصناعة الألمانية بعد الحرب العالمية الثانية ؟
١- توافر المواد الخام مثل الفحم فى إقليم الرور والحديد
٢- وجود شبكة متقدمة للنقل والمواصلات البرية والنهرية والسكك الحديدية.
٣- تدفق الاستثمارات الوطنية والأجنبية. ٤- توافر المراكز العلمية المتقدمة
- ٨٧- شهرة مدينة برلين ؟ عاصمة ألمانيا السياسية للدولة ويبلغ عدد سكانها ٣.٣ مليون نسمة.
- ٨٨- شهرة مدينة ميونخ ؟
١- عاصمة إقليم بافاريا جنوب ألمانيا ٢- ثالث أكبر مدن ألمانيا من حيث عدد السكان البالغ ٢.٢ مليون نسمة .
٣- إحدى أغنى مدن ألمانيا وأقواها اقتصادًا ٤- يوجد بها عدد من الشركات والمصانع أهمها شركة BM للسيارات
- ٨٩- شهرة مدينة هامبورج ؟ أهم موانئ ألمانيا وهي قريبة من بحر الشمال بحوالي ١٢٠ كم وعدد سكانها ٢ مليون ن
- ٩٠- توجد علاقات ثقافية وعلمية بين مصر وألمانيا ؟
١- هيئة التبادل العلمى الالمان ٢- مشروع مبارك كول للتعليم الفنى ٣- الجامعة الألمانية بالقاهرة ٤- معهد الأثار الالمانى
- ٩١- توجد علاقات اقتصادية بين مصر وألمانيا ؟
١- تمويل ألمانيا لمحطات توليد الكهرباء من الرياح فى مصر.
٢- تصدر مصر إلى ألمانيا البترول والغاز الطبيعى والملابس وغيرها
٣- تستورد مصر من ألمانيا الصناعات الكيماوية والآلات والسيارات
- ٩٢- القيمة الاقتصادية المحدودة للابغار فى الهند ؟ بسبب تحريم الديانة الهندوسية ذبح الابغار
- ٩٣- تعتبر الهند من الدول الرئيسية المنتجة للأسماك ؟ لأنها تمتلك سواحل طويلة على خليج البنغال والبحر العربى
- ٩٤- أهمية الفحم بالنسبة للهند ؟ لانه أساس قيام صناعة الحديد والصلب فى الهند
- ٩٥- شهدت الهند قفزات سريعة فى تطور الصناعة ؟
بسبب توفر مقومات الصناعة المتمثلة كالأيدي العاملة والخبرات الفنية والمواد الخام الطبيعية
- ٩٦- تنوع السهول الفيضية والساحلية فى الولايات المتحدة الأمريكية ؟
بسبب اتساع المساحة ووجود الأنهار مثل المسيسبى وامتدادها على سواحل المحيط الهادى والاطلنطى

٩٧: تختلف خصائص المناخ والنبات بالسهول الوسطى من منطقة إلى أخرى ؟

- ١- لاتساعها وامتدادها من الشمال إلى الجنوب،
- ٢- الصيف يتميز بارتفاع درجة الحرارة وانخفاضها بالاتجاه شمالا
- ٣- ويزداد المطر شرقاً ويقل غرباً ومعظمه يسقط صيفاً والشتاء يتميز ببرودته خاصة في الشمال
- ٤- تختلف أنواع النباتات من حشائش في الوسط وغابات في أقصى الجنوب.

٩٨: تعتبر منطقتي نيو إنجلاند أكثر المناطق ازدهاناً بالسكان ؟

- ١- يتركز ٥٠% منهم في إقليم نيو إنجلاند بالمنطقة الشمالية الشرقية الذي يمثل ١٢% فقط من المساحة الكلية للدولة
- ٢- لوجود المدن الكبرى مثل نيويورك وأيضاً المناطق الصناعية والتجارية الكبرى.

٩٩: يتركز السكان في السهول الوسطى حول البحيرات العظمى ؟

- ١- وجود المدن الصناعية الكبرى مثل شيكاغو حيث صناعة السيارات وحفظ اللحوم ووجود مركز السكك الحديدية
- ٢- قيام حرفة الزراعة حول سبول ودلتا الميسيسيبي

١٠٠: ترتفع الكثافة السكانية في كنبر من المناطق الغربية الغربية من الساحل مع المحيط الهادي ؟

- ١- حيث تتركز المناطق الصناعية والمدن الكبرى مثل سان فرانسيسكو ولوس أنجلوس
 - ٢- كذلك في المناطق الزراعية الخصبة مثل الوادي الأوسط في كاليفورنيا
- ١٠١: يقل عدد السكان بنطاق المرتفعات والأحواض الغربية ؟ بسبب وعورة التضاريس والظروف الطبيعية الصعبة**

١٠٢: يقل عدد السكان في ألاسكا ؟

بسبب برودة الجو وامتداد الجليد بمساحات واسعة يصعب معها الإقامة أو العمل .

١٠٣: ضخامة الإنتاج الزراعي بالولايات المتحدة الأمريكية ؟

- ١- الاراضي الزراعية الخصبة سهول الميسيسيبي في الوسط والمناطق الزراعية في الجنوب الشرقي وفي الوادي الأوسط بكاليفورنيا وعلى جوانب المرتفعات
- ٢- توافر موارد المياه سواء من الأنهار أو الأمطار،
- ٣- التقدم التكنولوجي في أساليب الزراعة المتقدمة

١٠٤: غنى الولايات المتحدة بالإنتاج الحيواني ؟

- ١- توجد مساحات واسعة من حشائش البراري بمراعيتها العلمية الواسعة ترعى فيها الأبقار والأغنام والخنازير تنتج كميات كبيرة من اللحوم يصدر جزء منها إلى الخارج بالإضافة إلى إنتاج الألبان والجلود وغيرها.

١٠٥: توجد ثروة سمكية كبيرة بالولايات المتحدة ؟

طول السواحل على المحيط الاطلنطي والهادي إلى جانب وجوداً لأنهار والبحيرات،

١٠٦: تعد الولايات المتحدة القوة الصناعية الأولى في العالم ؟

- ١- تتوافر بها كل مقومات الصناعة من موارد الطاقة (الفحم ، البترول والغاز الطبيعي) والطاقة النووية والكهربائية
- ٢- وفرة المعادن وأهمها الحديد والفوسفات والنحاس والرصاص.
- ٣- التقدم العلمي الهائل في مجال الأبحاث العلمية وأبحاث علوم الفضاء
- ٤- كثرة الجامعات ومراكز البحث مهارة السكان وإبداعهم

١٠٧: للولايات المتحدة مكانه عالميه في إنتاج السلع الصناعية ؟

- ١- تساهم بحصص مرتفعة من الإنتاج العالمي في عدد من الصناعات كصناعة السيارات والصلب والألومونيوم،
- ٢- تنتج ثلث الإنتاج العالمي من الصناعات الكهربائية والإلكترونية.
- ٣- تحتل المراتب الأولى عالمياً في صناعة الطيران (البوينج) وسفن الفضاء والأقمار الصناعية

١٠٨: تعد العلاقات المصرية الأمريكية من العلاقات القوية ؟

- ١- عقد اتفاقيات بين البلدين في إطار التعاون الاقتصادية والتكنولوجية والثقافية والعلمي
- ٢- عقد اتفاقيات تجارية بين البلدين منها اتفاق منطقة التجارة الحرة واتفاقية الكوبز.
- ٣- تصدر مصر منسوجات القطن والفوسفات وتستورد منها منتجات تكنولوجية حديثة والأسلحة والطائرات وغير

مقارنات

الرعى البدائى (التقليدى)	الرعى التجارى		
رعى تمارسه جماعات سكنية فى المناطق الصحراوية فى مساحات واسعة فى قارات العالم بالدولة النامية	رعى يمارس فى مناطق الحشائش ويعتمد على الأساليب العلمية الحديثة والتخصص فى حيوان المرعى	القطر	
المحارى الحارة شبه الجزيرة العربية وبادية الشام شمال افريقيا دول وسط آسيا صحارى التندرا الباردة بـ آسيا و أوروبا	نطاق حشائش الإستبس أمريكا الشمالية فى مناطق البرارى بالولايات المتحدة أمريكا الجنوبية بالأرجنتين أوروبا نطاق حشائش السافانا	البحرين	
الزراعة البسيطة	الزراعة الكثيفة	الزراعة التجارية	
هى زراعة يعمل بها عدد قليل من السكان فى مناطق صغيرة ومعزولة	هى زراعة الأرض بشكل مكثف لإشباع حاجة السكان من الغذاء	تعرف بالزراعة الواسعة وتهدف إلى الإنتاج التجارى الضخم	التعريف
المناطق الحارة على هامش الغابات الاستوائية وحشائش السافانا .	المناطق الحارة والمعتدلة	مناطق زراعة القمح والقطن بفارما أمريكا من مزارع المطاط والشاي فى جنوب شرق آسيا	أماكن انتشارها
استخدام البواب بدائية ضيق المساحات وتباعدها تمارس لتوفير الاحتياجات اللازمة للسكان دون وجود فائض للتصدير	- تتم من خلال عمليات عديدة مثل بذر البذور والرى وتلقيح الحشائش تتطلب ايدى عاملة وفيرة - يصعب فيها استخدام الميكنة لضيق مساحة الأرض الزراعية فيها يتم زراعة الأرض أكثر من مرة ويأكثر من محصول	تهدف إلى الإنتاج التجارى الضخم وتستخدم أحدث الآلات الحديثة وتتم فى مزارع واسعة تتميز بالتخصص فى محصول واحد وهذا يقلل من التكاليف وعدد العمالة	خصائصها ومميزاتها
البنام - الكسافا - الذرة والموز	القمح - الارز - القطن	المطاط - القمح - القطن - الشاي	المحاصيل

مصطلحات

زراعة الأرض بشكل مكثف لإشباع حاجة السكان المحليين من الغذاء	الزراعة الكثيفة
زراعة تعرف بنظام الزراعة الواسعة وتهدف لإنتاج التجاري الضخم	الزراعة التجارية
رعى تمارسه جماعات سكانية في المناطق الصحراوية بالذئول النامية	الرعى البدائي
رعى يمارس في مناطق الحشائش في قارات العالم ويعتمد على الأساليب العنمية والتخصص في حيوان المرعى	الرعى التجاري
عملية استخراج المعادن ومصادر الطاقة من فحم وبتترول وغاز طبيعي من باطن الأرض أو بالقرب من السطح	النشاط التعدينى
الطاقة التى لا ينتج عند استخدامها أى ملوثات للبيئة سواء صلبة أو غازية أو سائلة.	الطاقة النظيفة
يتم توليدها من محطات تدار بالفحم أو البترول أو الغاز الطبيعي.	الكهرباء الحرارية
يتم توليدها من محطات تدار نتيجة تنطق المياه من الشلالات أو السدود	الكهرباء المائية
تكون من بقايا أشجار كانت موجودة منذ ملايين السنين ثم جفت وانطمرت تحت التكوينات الصخرية لتتجة الضغط والحرارة تحولت إلى مادة كربونية سوداء (الفحم الحجري)	الفحم
المخام الرئيسى لصناعة الألومنيوم	البوكسيت
يستخدم فى صناعة الأسلاك و الأدوات الكهربائية	النحاس
يستخدم فى تحويل الحديد إلى صلب	المنجنيز
يدخل فى العديد من الصناعات مثل الحديد والصلب	الحديد
الغذاء الرئيسى لمعظم شعوب العالم حيث يصنع منه الخبز بالإضافة إلى المكرونة والحلويات.	القمح
من الحبوب الغذائية المهمة يستخدم كعلف للثروة الحيوانية	الذرة
إنتاج الخيوط التى تستخدم فى أجود الملابس إستخراج زيت بذرة القطن وصناعة الأعلاف	القطن

أولى الدول	أكبر قارة	
الصين- الهند	آسيا - أمريكا الشمالية	القمح
الولايات المتحدة	أمريكا الشمالية - آسيا	الذرة
البرازيل	أمريكا الجنوبية	قصب السكر
فرنسا - مصر فى أفريقيا	أوروبا	بنجر السكر
البرازيل- الهند- الصين	آسيا	السكر
الصين -الهند (مصر والسودان)	آسيا - أمريكا الشمالية	القطن
تايلاند	آسيا- أفريقيا -أمريكا ج	المطاط
الصين	موطنة شرق آسيا	الشاي
الهند	آسيا - أمريكا الجنوبية	الأبقار
الصين - الهند - استراليا	استراليا	الأغنام
الولايات المتحدة	الصين معظم نتاجها من لحوم الخنازير	اللحوم الحمراء

الدواجن	الولايات المتحدة- الصين	الانتاج في مصر لا يكفى
الالبان	الهند - الولايات المتحدة	تنتج مصر ٦ م طن ولا يكفى
الضوف	استراليا - الصين	
الاسماك	الصين - اندونيسيا - الولايات المتحدة	المصدرة (الصين النروج- تايلاند)
الحديد	الصين - استراليا	موريتانيا من الدول النامية
النحاس	شيلي والصين	الانتاج ١٨ م طن
المونكسيت (الالومنيوم)	امريكا- كندا- استراليا - اليابان	استراليا اهم الدول المنتجة
الفحم	اسيا - أوروبا	الصين - امريكا - الهند
البتترول	السعودية - روسيا - الولايات المتحدة	
الغاز الطبيعي	قارة أوروبا ثلث الانتاج	الولايات المتحدة
الطاقة النووية	أوروبا - أمريكا الشمالية	
طاقة الرياح	فرنسا - إنجلترا - الولايات المتحدة	الدول العربية مصر - المغرب
طاقة الأمواج	إنجلترا - فرنسا	الطاقة الشمسية بمصر

ما النتائج المترتبة على ---

- ١- تناقص انتاج مصر من الدواجن ؟ أصبحت من الدول المسنودة للدواجن من الخارج
- ٢- تحريم الديانة الهندوسية ذبح الأبقار؟ جعل الفحة الاقتصادية للأبقار في الهند محدودة
- ٣- قيام الوحدة الاقتصادية الأوروبية ؟ التكامل في الجوانب الاقتصادية بين الدول الأوروبية والحماية الجمركية للصناعة الأوروبية من جانب هيئة الاتحاد الأوروبي
- ٤- انقمار النباتات تحت التكوينات الصخرية وتعرضها للحرارة والضغط ؟ أدى إلى تكون الفحم
- ٥- انتشار المراعى فى مساحات واسعة من العالم ؟ أدى إلى قيام نشاط الرعى التجارى وزيادة الانتاج الحيوانى
- ٦- تدفق البترول بالنسبة للرعى البدانى ؟ قلة أعداد العاملين بالرعى البدانى فى شبه الجزيرة العربية وبادية الشام
- ٧- ضيق المساحة المزروعة فى الزراعة الكثيفة ؟ أدى إلى صعوبة استخدام الآلات والميكنة الحديثة
- ٨- اعتماد الزراعة التجارية على أحدث الآلات الزراعية ؟ أدى إلى قلة التكاليف - قلة العمالة الزراعية
- ٩- اهتمام الدول المتقدمة بانجاح الطاقة النظيفة ؟ قلة تلوث البيئة
- ١٠- توافر مقومات الصناعة فى شمال شرق الولايات المتحدة ؟ جعلها أكبر الأقاليم الصناعية بالعالم الجديد
- ١١- انتشار المراعى الدائمة فى شمال هضبة البرازيل ؟ أدى إلى إمتلاك البرازيل ثروة حيوانية كبيرة ومتنوعة
- ١٢- امتداد البرازيل بين دائرتى عرض ٥ ش ، ٢٢ ج ؟ أدى إلى وقوع معظم البرازيل فى المنطقة الاستوائية والمدارية - ووقوع الأطراف الجنوبية فى المنطقة المعتدلة
- ١٣- توافر مقومات الصناعة فى البرازيل ؟ أدى إلى تطور الصناعة فى البرازيل فظهرت الصناعة الثقيلة مثل السيارات
- ١٤- الموقع الفلكى لنيجيريا ؟ أدى إلى وقوع معظم نيجيريا فى الإقليم المدارى والأطراف الجنوبية فى المناخ الاستوائى
- ١٥- يسود ألمانيا مناخ غرب أوروبا ؟ ترتب على ذلك أصبح فصل الصيف معتدل مع ارتفاع الحرارة كلما اتجهنا شرقاً والشتاء منخفض الحرارة إلى ما دون الصفر المتوى خاصة فى الداخل

البلد	المدينة	المشهر
الهند	نيودلهي	١- العاصمة السياسية للهند ٢- توجد بها الجامعات والمراكز الصناعية والمعالم التاريخية المهمة ٣- يزيد عدد سكانها على ٨ ملايين نسمة وتقع بين نهري الكانج والسند
	بومباي	١- العاصمة التجارية للهند ٢- اكبر الموانئ ٣- اكبر المدن الصناعية ٤- يبلغ عدد سكانها أكثر من ١٢ مليون نسمة
	حيدر اباد	١- أكبر مراكز الصناعات اليدوية ٢- تضم العديد من المراكز الإسلامية ٣- تجمع بين الفن المعماري الجميل والمدينة الحديثة ٤- توجد المدينة بهضبة الدكن
نيجيريا	ابوجا	العاصمة وهي مدينة داخلية حديثة
	لاجوس	١- العاصمة القديمة ٢- العاصمة الاقتصادية ٣- أكثرها ازدحاماً بالسكان ٤- أكبر المدن النيجيرية
	ايبادان	١- تأتي في المركز الثاني بعد لاجوس ٢- مركز للتجارة والتعليم والمواصلات
ألمانيا	برلين	عاصمة ألمانيا السياسية للدولة ويبلغ عدد سكانها ٣.٣ مليون نسمة
	ميونخ	١- عاصمة إقليم بافاريا جنوب ألمانيا ٢- ثالث أكبر مدن ألمانيا من حيث عدد السكان البالغ ٢.٢ مليون نسمة ٣- إحدى أغنى مدن ألمانيا وأقواها اقتصاداً ٤- يوجد بها مقر عدد من الشركات والمصانع الألمانية المهمة أهمها شركة BMW للسيارات
	هامبورج	أهم موانئ ألمانيا وهي قريبة من بحر الشمال بحوالي ١٢٠ كم وعدد سكانها ٢ مليون
البرازيل	برازيليا	١- العاصمة الجديدة بعد نقلها من ريودي جانيرو ٢- تتميز بطبيعتها الجميلة ٣- تعد إحدى المدن الحديثة نسبياً
	ريودي جانيرو	١- العاصمة القديمة للبرازيل ٢- تعد واحدة من أجمل مدن العالم
	ساو باولو	١- أهم الموانئ على المحيط الأطلنطي ٢- يوجد العديد من الصناعات المهمة ٣- تشتهر بمبانيها الضخمة وشواطئها الرملية الواسعة ٤- السوق الأولى لتصدير البن في العالم
الولايات المتحدة	ميناوس	مدينة هامة بالداخل على نهر الأمازون
	واشنطن	١- عاصمة الولايات المتحدة ٢- بها مقر الحكومة المركزية ٣- بها البرلمان (الكونجرس)
	نيويورك	١- ميناء هام وتطل على المحيط الأطلنطي ٢- بها مقر الأمم المتحدة
	شيكاغو	أكبر مدن السهول الوسطى
	سان فرانسيسكو	أكبر الموانئ الأمريكية على ساحل المحيط الهادي

دلل على صحة العبارات الآتية

- ١- **توسع العالم في استخدام الغاز الطبيعي** حيث يستخدم في الصناعة الاستخدامات المنزلية - توليد الطاقة الكهربائية- وقود للسيارات بدلاً للبنزين
- ٢- **تنوع النباتات الطبيعي في ألمانيا ؟** حيث تنمو بها الغابات النفضية والصنوبرية وتنتشر الحشائش في السهل الساحلي
- ٣- **هناك عمليات تسبق التعدين ؟** حيث أ- عملية البحث والكشف عن الخامات ب- عملية إعداد المنجم لعملية التعدين
- ٤- **في نيجيريا بمصادر الطاقة ؟** حيث تستخرج الفحم من المنطقة الشرقية وتنتج كميات كبيرة من البترول ٣% من الإنتاج العالمي

ماذا يحدث إذا

- ١- **تطورت الصناعة في نيجيريا ؟** .. ينمو ويتقدم الإقتصاد بنيجيريا
- ٢- **الولايات المتحدة فقيرة في إنتاج المادة الخام ومصادر الطاقة ؟** لم تصبح القوة الصناعية الأولى في العالم
- ٣- **تدهنت معظم أراضي البرازيل في المنطقة القطبية الباردة ؟** عدم نمو الغابات الإستوائية والمدارية أو حشائش السافانا
- ٤- **توفرت مصادر الطاقة والخبرة الفنية لدى الدول المنتجة للبوكسيت ؟** تقوم بتصنيع الألومنيوم وعدم تصديره خاماً
- ٥- **قل الطلب على البترول ؟** عدم ارتفاع أسعاره عالمياً بشكل مستمر
- ٦- **لم تتحقق الوحدة الاقتصادية الأوروبية ؟** لم يحدث تكامل في الجوانب الاقتصادية بين الدول الأوروبية والحماية الجمركية للصناعة الأوروبية من جانب هيئة الاتحاد الأوروبي



نسهم دول الخليج بنحو ٤٧٪ من التجارة الدولية للبترول والغاز الطبيعي
يستخدم البترول والغاز الطبيعي والفحم في إنتاج الكهرباء، الحرارة

التهمت بعض الدول لاستخدام الطاقة الشمسية كمصدر جديد للطاقة النظيفة
منها مصر التي أقامت محطات لتوليد الكهرباء للاستخدامات المنزلية



- ١- الخام الرئيسي لصناعة الألومنيوم
- ٢- يصدر من المنتجة إلى الدول المتقدمة
- ٣- الدولة التي يقل فيها المنتج وتعتبر من أكبر دول العالم انتاجاً للألمونيوم
- ٤- تنتج ٤٠% من الإنتاج العالمي
- ٥- لا تنتج مصر المنتج وتستورده من
- ٦- إلا أنه يوجد بها مصنع للألمونيوم في نجع حمادي اعتمدا على

١ :عبارة عن كائنات كانت موجودة منذ ملايين السنين انطمرت تحت الصخور وبفعل الحرارة والضغط

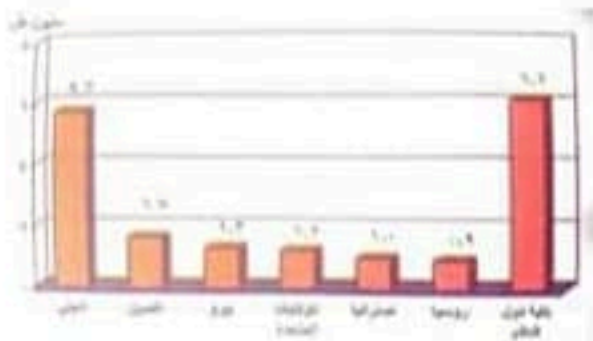
تحولت الى مادة كربونية سوداء وكان للطاقة في العالم حتى اوائل القرن العشرين وكان عماد الثورة الصناعية في اوربا

٢ : مصدر رئيسي في الصناعة كما يستخدم في

٣ : النوعكثرها انتشارا في الطبيعة وكثرها استخداما في الصناعة

٤ :.....اجود الاتواع الثلاثة واقلها وجودا في الطبيعة

٥ : اكبر قارنين إنتاجا للفحم (اكثر من نصف الانتاج)



١ : يستخدم..... في صناعة الاسلاك والاتومات الكهربائية

٢ : اولى القاراتتحتل المركز الاول وتنتج اكثر من ربع انتاج العالم

٣ : تحتل دولة..... المركز الثاني في الانتاج ثم دولة



١ :اهم المعادن المستخدمة في الصناعة وعرفه الانسان منذ الالف السنين

٢ : تستخرجه مصر من مناجم في وينقل إلى مصانع

٣ : تعد اكبر الدول العربية إنتاجا له

٤ : اولى القارات واولى الدول بامريكا الجنوبية.....

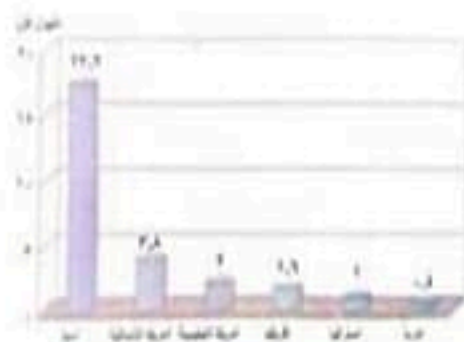


١ : تنتشر زراعته في معظم قارات العالم وهو من الحبوب الغذائية المهمة

٢ : امريكا الشمالية القارات انتاجا للمحصول واكبر دولها

وتستخدمه علف للماشية وتصدر الباقي

٣ : في اسيا يزرع في وفي افريقيا واكبر دولها.....



١ : يستخدم في صناعة الملابس ومصدر لاستخراج الزيوت والاعلاف

٢ : يزرع في الدول الملائمة لزراعته كمحصول

٣ :اكبر القارات انتاجا له وتنتج ٦٠% من الانتاج العالمي واهم دولها

٤ : وتنتج ٢٠% واهم دولها الولايات المتحدة والمكسيك

٥ : افريقيا..... وتنتج ١٠% واهم دولها



حدد على خريطة نيجيريا والبرازيل كلا من

- ١- العاصمة وأهم المدن
- ٢- الدول المحيطة
- ٣- المسطحات المائية
- ٤- الأنهار

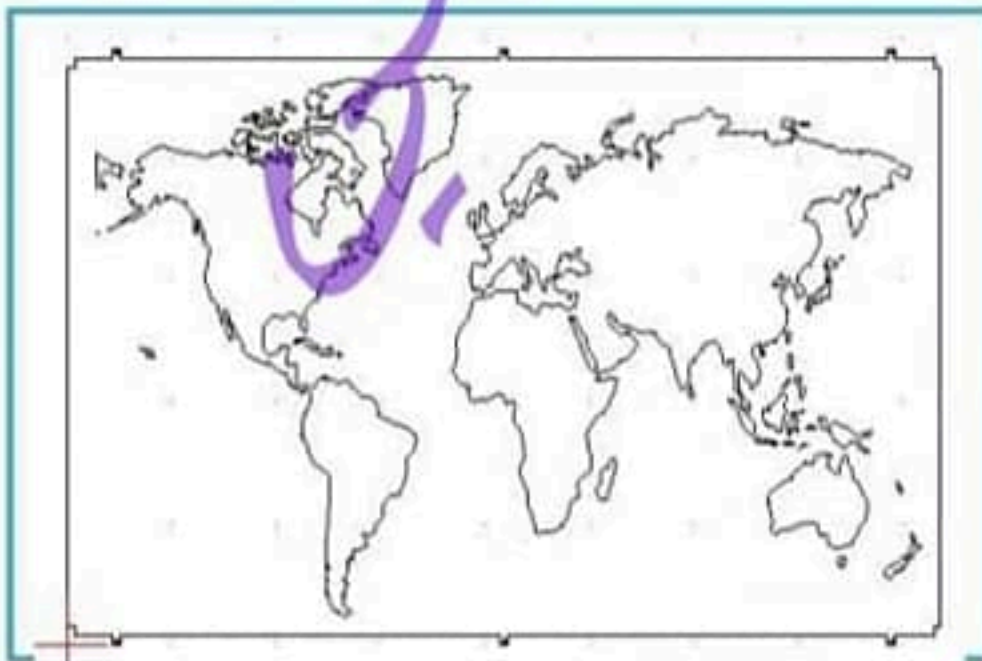


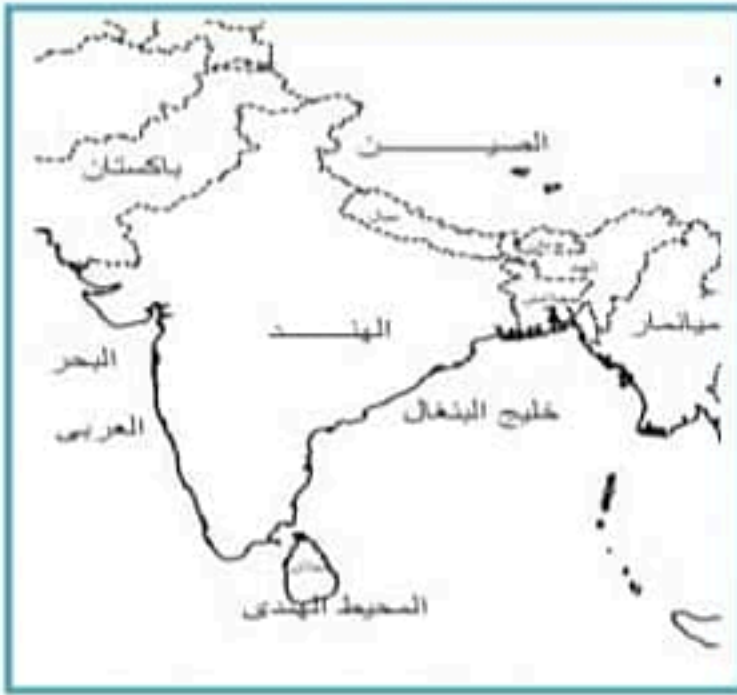
حدد على خريطة ألمانيا

- ١: تقع ألمانيا في غرب قارة وتتمتد بين دائرتي عرض
- ٢: تطل ألمانيا على البحر وبحر
- ٣: تجرى في السهل الألماني الشمالي أنهار و و و تصب في بحر
- ٤: العاصمة السياسية لألمانيا مدينة

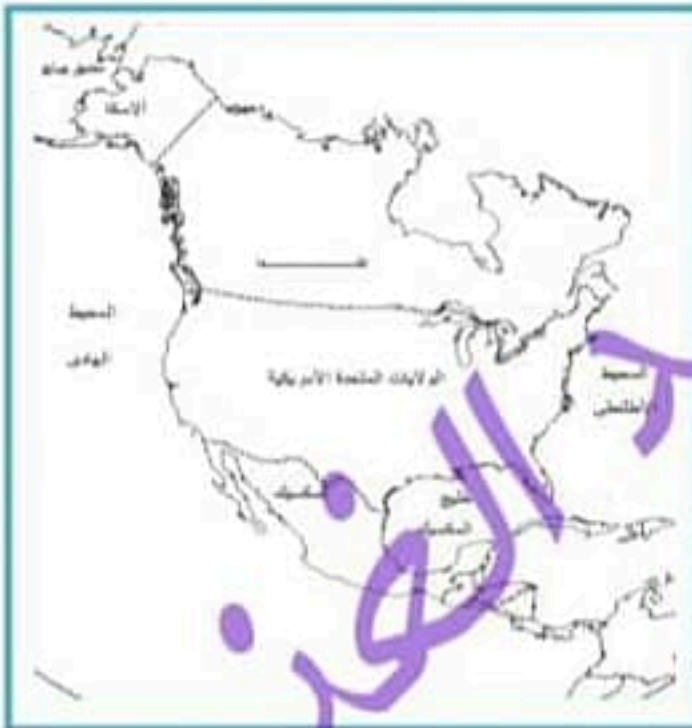
حدد على خريطة العالم

- ١- أولى القارات إنتاجا للقمح
- ٢- أولى القارات إنتاجا لبندر السكر
- ٣- أولى القارات إنتاجا للذرة
- ٤- أولى القارات إنتاجا للصوف
- ٥- أولى الدول المربية للأبقار
- ٦- أولى الدول المنتجة للدواجن
- ٧- أولى الدول المنتجة للسكر
- ٨- أولى الدول المنتجة للبوكميت
- ٩- أولى الدول المنتجة للنحاس
- ١٠- أولى الدول المنتجة للبتترول

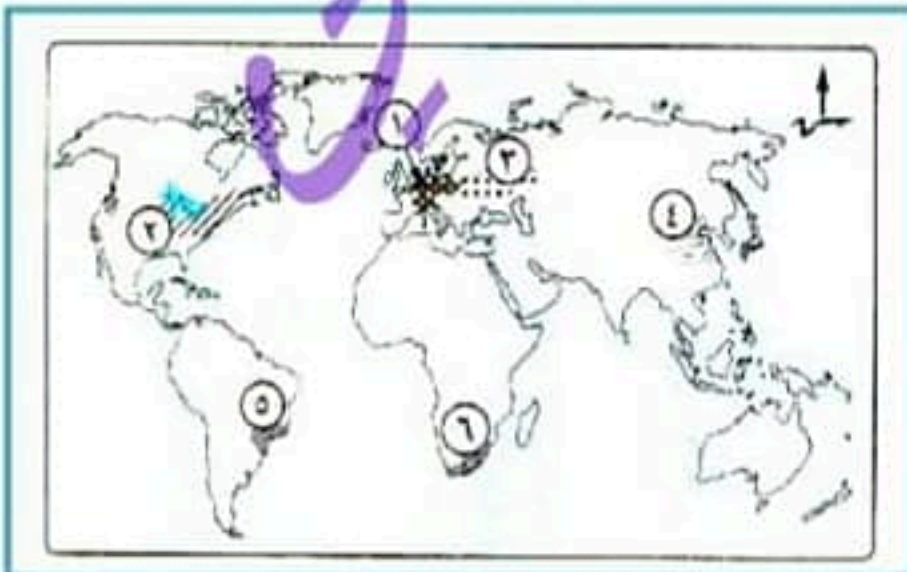


**جمهورية الهند**

- ١: دولة فى الغرب
- ٢: دولة فى الشرق
- ٣: دولة فى الشمال
- ٤: مدينة العاصمة السياسية
- ٥: جبال فى الشمال
- ٦: هضبة الوسط
- ٧: المحيط
- ٨: نهر البحر العربى
- ٩: جزيرة
- ١٠: مضيق

**الولايات المتحدة الأمريكية**

- ١: المحيط فى الشرق
- ٢: دولة فى الجنوب
- ٣: دولة فى الشمال
- ٤: مدينة العاصمة السياسية
- ٥: جبال فى الشمال
- ٦: هضبة الوسط
- ٧: المحيط فى الغرب
- ٨: نهر يصب فى خليج المكسيك
- ٩: اهم اقليم صناعى فى العالم

**الاقليم الصناعى فى العالم**

- ١ « إقليم صناعى
- ٢ « إقليم صناعى
- ٣ « إقليم صناعى
- ٤ « إقليم صناعى
- ٥ « مركز صناعى حديث
- ٦ « مركز صناعى حديث

المراجعة النهائية التاريخ

تعريفات هامة

عدم الانحياز	عدم الانضمام إلى أى من الكتلتين الشرقية أو الغربية
الانتداب	نظام وضعته عصبة الأمم بعد انتهاء الحرب العالمية الأولى وهو شكل من أشكال الاستعمار ويعوجه يتم وضع الدول التى كانت تابعة للدول المنهزمة تحت إدارة دول متقدمة للتهوض بها .
خط بارليف	خط عسكري منيع حطمته القوات المصرية فى حرب أكتوبر 1973م.
خط الون	خط الدفاع الإسرائيلى على هضبة الجولان ويشبه خط بارليف على الجبهة المصرية .
اللجان الشعبية	تشكيل فكون من أفراد المجتمع المصرى (فسر) لحماية المنشآت والمناطق المحيطة بهم ومواجهة أعمال السرقة والحرق والترويع.
الضباط الأحرار	مجموعة من ضباط الجيش المصرى قاموا بثورة 23 يوليو 1952م للقضاء على الفساد وتحريز واستقلال الوطن من الاحتلال البريطانى .
الحياة النيابية	أن يقوم الشعب بانتخاب ممثلين عنه لإدارة شئون الحكم فى البلاد وسن القوانين ومراقبة الحكومة
دستور	الوثيقة الرسمية التى تحدد نظام الحكم فى الدولة وشكل واختصاصات المؤسسات الدستورية
برلمان	المجالس النيابية التى تتولى السلطة التشريعية فى الدولة .
منظمات المجتمع المدنى	مجموعة من المنظمات تضم جمعيات المجتمعات المحلية و المنظمات غير الحكومية و النقابات العمالية و الجمعيات الخيرية وغيرها .
المنظمة الاقليمية	منظمة تجمع فى عضويتها عدداً من الدول المستقلة التى ترتبط ببعضها بروابط معينة.
المنظمة الدولية	منظمة تضم فى عضويتها عدداً من الدول المستقلة وإن لم ترتبط ببعضها بروابط معينة .
حق الفيتو	حق الاعتراض على القرارات وتتمتع به الدول الخمس دائمة العضوية فى مجلس الأمن وهى (الولايات المتحدة - روسيا - بريطانيا - فرنسا - الصين)
مجلس الوصاية	تابع للأمم المتحدة يختص برعاية مصالح شعوب البلدان التى كانت مستعمرات والأخذ بيدها نحو الحكم الذاتى والاستقلال

أهم الشخصيات

	الملك فاروق
	محمد نجيب
	جمال عبد الناصر
	محمد أنور السادات
	محمد حسنى مبارك
	على منصور
	هزلى
	بلغور
	روجرز
	الفريق أول عبد المنعم رياض
	المشير أحمد إسماعيل
	الفريق سعد الدين الشاذلى
	الفريق محمد عبد الغنى الجمسى
	جيمى كارتر
	محمد على
	الخدوي اسماعيل
أحمد نطفى السيد	مصطفى كامل
هدى شعراوى	جميلة حافظ
عائشة راتب	حكمة أبو زيد
	أمال عثمان

بم تفسر

١: لم تؤد معاهدة ١٩٣٦م الى الاستقلال العتيق ؟

سقوط الإمدادات المديفة باستقلال مصر عقب حادث فبراير ١٩٤٢م (ما الدليل على

حيث ظهر ذلك بوضوح عندما حاصرت الدبابات البريطانية قصر عابدين ٤ فبراير ١٩٤٢م

لاجبار الملك فاروق على تعيين مصطفى النحاس رئيسا للحكومة

٢- قيام ثورة ٢٣ يوليو ١٩٥٢م ؟

١- استمرار الاحتلال البريطاني وتخله في شئون مصر

٢- عدم وجود حياة ديمقراطية سليمة

٣- فساد النظام الملكى واستبداد الملك فاروق

٤- هزيمة الجيش المصرى في حرب فلسطين ١٩٤٨م.

٥- سوء الأحوال الاقتصادية واستبداد الطبقة الرأسمالية

٦- سوء الأحوال الاجتماعية واستبداد الطبقة الرأسمالية

٣- تأسيس تنظيم الضباط الأحرار ؟ (ما الدليل على

٤- رحيل الملك فاروق عن مصر قبل الموعد المحدد ؟

١- لأنه أدرك أن الجيش و الشعب يكرهان حكمه

٢- أدرك ان الانجليز قد تخلوا عنه .

٥- فساد النظام الملكى قبل ثورة ٢٣ يوليو ١٩٥٢م (ما الدليل على

بسبب نزوات الملك فاروق-الرشاوى فى اقالة وتعيين الوزراء-كما ان هاشيئة أساءت التصرف للثراء الغير مشروع

كما حدث فى صفقة الاسلحة الفاسدة

٦- سوء الأحوال الاجتماعية لمصر قبل ثورة يوليو ١٩٥٢م ؟ (ما الدليل على

بسبب وجود نظام الاقطاع الذى ادى الى ظهور فئة صغيرة تملك وتستبد واطلق على المجتمع المصرى مجتمع النصف فى المائة

وانتشار الفقر والجهل والمرض

٧- عدم وجود حياة ديمقراطية سليمة قبل ثورة يوليو ١٩٥٢م ؟ (ما الدليل على

بسبب خضوع مصر للاحتلال البريطانى / وفساد النظام الملكى / وفساد الأحزاب السياسيةازدياد الصراع على الحكم واستمرار الإحتلال

٨- يحتفل يوم ١٨ يونيه يوماً خالداً فى تاريخ مصر ؟ (ما الدليل على

لأنه فى ذلك اليوم تم إلغاء الملكية وإعلان الجمهورية وتعين اللواء محمد نجيب أول رئيس للجمهورية ١٩٥٣م

وفى ١٨ يونيه ١٩٥٦م جلاء القوات البريطانية.

٩- نجاح ثورة ٢٣ يوليو فى القضاء على الإنقطاع ؟ (ما الدليل على

حيث صدر قانون للإصلاح الزراعى الذى حدد الملكية الزراعية وبموجبه امتك فلاحين الأرض .

١٠- نجاح ثورة ٢٣ يوليو فى إقامة عدالة اجتماعية ؟ (ما الدليل على

١: أشركت العمال فى مجالس إدارة الشركات

٢: إقامة الوحدات الصحية والجمعيات الزراعية

٣: الاهتمام بالتأمينات الاجتماعية والمعاشات

٤: التوسع فى إنشاء المدارس والجامعات مع مجانية التعليم

١١- استطاعت ثورة يوليو ١٩٥٢م القضاء على الاستعمار واعوانة.؟ (ما الدليل على

حيث عقدت اتفاقية الجلاء ١٩٥٤م ورحل آخر جندي بريطاني من مصر بعد احتلال ٧٤ سنة في ١٩٥٦م

١٢- فلسطين لها مكانة في قلب كل عربي.؟ (ما الدليل على

١: بها ولد السيد المسيح . ٢: واليها اسرى سيدنا محمد (ص) ٣: وبها المسجد الأقصى أولى القبلتين وثالث الحرمين

١٣- إصدار بريطانيا وعد بلفور ١٩١٧م ؟ لأنها أدركت أهمية فلسطين بالنسبة لوجودها في مصر

حرب فلسطين ١٩٤٨م (دخول الجيوش العربية لفلسطين ١٩٤٨م)؟

١: لنصرة وإنقاذ الفلسطيني من بطش اليهود ٢: مساعدة الشعب الفلسطيني على إقامة حكومة وطنية

١٤- هزيمة العرب في حرب فلسطين ١٩٤٨م ؟

١: دعم الولايات المتحدة وبريطانيا لإسرائيل ٢: عدم استعداد العرب عسكرياً

١٥- العدوان الثلاثي على مصر أكتوبر ١٩٥٦م؟

١: عقد مصر اتفاقية مع الاتحاد السوفيتي لتزويد مصر بالأسلحة (بم نفس) لمواجهة أطماع إسرائيل

٢: مساعدة مصر الجزائر في ثورتها ضد الاحتلال الفرنسي

٣: تأميم مصر لقناة السويس في ٢٦ يولية ١٩٥٦م مما اضر بمصالح بريطانيا

١٦- فشل العدوان الثلاثي على مصر.؟ (ما الدليل على

١: شدة مقاومة الشعب والجيوش وصلابة القيادة ٢: وقوف الشعوب العربية بجانب مصر

٣: تهديد الاتحاد السوفيتي بالتدخل لصالح مصر ٤: رفض الولايات المتحدة استخدام القوة في فض المنازعات

٥: تنديد الأمم المتحدة بالعدوان

١٧- عدوان ٥ يونيو ١٩٦٧م ؟

١: تهديد إسرائيل لسوريا وحشد قواتها - ٢: أغلقت مصر خليج العقبة في وجه الملاحة الإسرائيلية في مايو ١٩٦٧م

(الاسباب) احكاما للحصار الاقتصادي على إسرائيل .

١٨- هزيمة العرب في عدوان يونيو ١٩٦٧م ؟

١- تفوق إسرائيل العسكري وخاصة السلاح الجوي

٢- استخدام عنصر المفاجأة بعد تصوير المواقع المصرية بأجهزة تجسس أمريكية

٣- مساعدة الولايات المتحدة وأوروبا لإسرائيل ٤- تفكك العرب ونقص التدريب وقلة الأسلحة الحديثة

١٩- أهمية المنطقة العربية بالنسبة للاستعمار.؟ (ما الدليل على

١- امتلاك المنطقة العربية للثروات مثل البترول ٢- السيطرة على المنطقة العربية يؤدي الى تطويق الاتحاد السوفيتي من جهة الجنوب

٢٠- قيام حرب السادس من أكتوبر ١٩٧٣م ؟ (ما الدليل على

١- رفض إسرائيل كل نداءات السلام بالانسحاب من الأراضي التي احتلتها في 1967م

٢- تصميم مصر وسوريا على إزالة آثار نكسة 1967م وإسترداد سيناء و هضبة الجولان

٢١- لعبته الدول العربية دوراً مشرفاً في حرب أكتوبر؟ (ما الدليل على

- ١: قدمت بعض الدول العربية الدعم العسكري والبعض الآخر قدم الدعم المادي
- ٢: خفض إنتاج البترول العربي ثم منعه تماما عن الدول المساندة لإسرائيل
- ٣: حظر الصادرات النفطية العربية إلى الولايات المتحدة

٢٢- لعبت الولايات المتحدة دوراً مهماً لصالح إسرائيل في حرب أكتوبر ١٩٧٣م. (ما الدليل على

- ١- قامت جسر جوي لتقديم المساعدات العسكرية لإسرائيل ٢- قدمت مساعدات مالية عاجلة لإسرائيل.
 - ٣ - قدمت معلومات عسكرية لإسرائيل (النتائج) ساعدتها على إحداث ثغره في منطقة الدفرسوار
- خلت هي والدول الأعضاء في مجلس الأمن وتم إصدار القرار ٣٣٨ الذي يقضي بوقف جميع الأعمال الحربية بدءاً من يوم ٢٢ أكتوبر ١٩٧٣م وقبلت مصر القرار

٢٣- الانتصار في حرب أكتوبر ١٩٧٣ م

- ١- الإعداد الجيد للحرب والسرية التامة .
- ٢- وحدة الجبهة الوطنية والتحام الجيش والشعب .
- ٣- وقوف الدول العربية بجانب مصر وسوريا ٤- كفاءة المقاتل العربي وقدرته على استخدام الأسلحة.

٢٤- فشلت الطائرات الإسرائيلية الاقتراب من قناة السويس ؟ (ما الدليل على

بسبب شبكة الصواريخ المصرية المضادة للطائرات المنتشرة غرب القناة .

٢٥- قوضت حرب أكتوبر ١٩٧٣م أسس العقيدة القومية الإسرائيلية ؟ (ما الدليل على

حيث فقدت التباينات السرائيلية قدرتها بسبب قوة فاعلية القذائف والصواريخ المصرية، كما فشلت الطائرات السرائيلية من الاقتراب من قناة السويس تجنباً لمواجهة شبكة الصواريخ المصرية

٢٦- مبادرة الرئيس السادات بالذهاب لإسرائيل ١٩٧٧م ؟ لحل النزاع العربي الإسرائيلي واحلال السلام في المنطقة**٢٧- اهمية مؤتمر مدريد للسلام ١٩٩١م.؟**

لحل النزاع العربي الإسرائيلي في ضوء مبدأ الارض مقابل السلام وقرارات مجلس الامن.

٢٨- اهمية اتفاقية اوسلو ١٩٩٣م.؟ (ما الدليل على

لانها اسفرت عن توقيع اتفاق برعاية امريكية بين اسرائيل ومنظمة التحرير الفلسطينية في واشنطن نص على

- ١: اقامة سلطة حكومية ذاتية انتقالية ٢- اقامة مجلس تشريعي منتخب في الضفة الغربية وقطاع غزة
- ٣- تخطي المفاوضات فيما بعد القضايا المتبقية (القدس - اللاجون- المستوطنات -الحدود ..) ٤- اقامة قوة شرطة فلسطينية

٢٩- صرايا السلام وهل الصراع العربي الإسرائيلي؟

- ١- تحقيق الاستقرار الداخلي للدول العربية ٢ - دفع عجلة التنمية واصلاح البنية الأساسية للبلاد
- ٣ - تشجيع رؤوس الأموال العربية والاجنبية على الاستثمار في مصر
- ٤ - يزيد من حركة السياحة مما يؤدي الى زيادة الدخل القومي وتوفير العملات الأجنبية

٢٠- يوم ٢٢ ديسمبر يوماً خالداً في تاريخ بورسعيد ؟ لأنه في ذلك اليوم انسحبت إنجلترا وفرنسا من بورسعيد

٢١- يعد مجلس شورى النواب ١٨٦٦ بداية الحياة النيابية ؟ لان الشعب كان ينتخب اعضاء لمدة ثلاث سنوات

٢٢- اصدار الدستور الدائم ١٩٧١ م ؟ للتأكيد على سيادة القانون- استقلال السلطة القضائية- اقرار مبادئ التعددية الحزبية

٢٣- كانت الانتخابات البرلمانية عام ٢٠١٠ م سبباً في قيام ثورة ٢٥ يناير ؟

بسبب تزوير الانتخابات حيث حصل الحزب الوطني على ٩٧% من مقاعد البرلمان تم اقصاء القضاء من الاشراف على الانتخابات فاصبح المجلس بدون اي معارضة تذكر

٢٤- اهمية جامعة الدول العربية ؟

١- تنسيق العلاقات بين الدول الأعضاء ٢- تنسيق الخطط السياسية والاقتصادية والاجتماعية والثقافية ٣- حماية استقلال الدول الأعضاء ٤- تعزيز العمل العربي المشترك في مختلف المجالات ٥- التعاون وحماية الامن القومي العربي

٢٥- اهمية الأمم المتحدة ؟

١- المحافظة على السلام والأمن والسلام الدوليين ٢- تنمية العلاقات الودية بين الأمم ٣- تعزيز احترام حقوق الإنسان ٤- التعاون الدولي لحل المشكلات

٢٦- عقد مؤتمر القمة الإسلامي في الرياض في سبتمبر ١٩٦٩ م ؟

- بسبب حريق المسجد الأقصى بالقدس في أغسطس ١٩٦٩

٢٧- يعتبر مجلس الامن أهم أجهزة الأمم المتحدة (ما الدليل على)

لأنه ١- المسئول عن حفظ السلام والأمن الدوليين ٢- له سلطة قانونية على حكومات الدول الأعضاء

٢٨- تأسست منظمة اليونسكو ١٩٤٥ ؟

السبب من اجل احلال السلام عن طريق رفع مستوى التعاون بين دول العالم في مجالات التعليم والثقافة

٢٩- انشأت منظمة الصحة العالمية ٧ ابريل ١٩٤٨ م في جنيف بسويسرا ؟

اجل توفير الرعاية الصحية لجميع الشعوب/ وحماية مياه الشرب من التلوث/ وتطوير الخدمات الصحية

٤٠- انشأت منظمة الأمم المتحدة للطفولة (اليونيسيف) ؟

من اجل حماية حقوق الاطفال . والتعليم للجميع واهتمت بقضايا التغذية والتعليم والصحة للاطفال

٤١- دور اليونسكو بارز في مصر؟ (ما الدليل على)

١ : انقاذ معابد ابو سمبل من الفرق ٢ : احياء مكتبة الاسكندرية

٣ : تساهم حالياً بالدراسة لانشاء متحف بالاسكندرية لاحياء التراث الثقافي المغفور تحت الماء

٤٢- انشاء مجلس الوصاية الشايج للأمم المتحدة ؟

ليرعى مصالح شعوب البلدان التي كانت مستعمرات والاخذ بيدها نحو الحكم الذاتي والاستقلال

٤٣- انشأت منظمة الادبية والاراما (اليوا) ؟ من اجل تحسين الانتاج الزراعي وللقضاء على الجوع

٤٤- **تحتفل ثورة ٢٥ يناير من الثورات الفريدة في التاريخ ؟ (ما الدليل على**

لان التكنولوجيا المتطورة ساهمت في اندلاعها مثل الانترنت ومواقع الاتصال الاجتماعي

٤٥- **قيام ثورة ٢٥ يناير ٢٠١١ ؟**

- ١- غياب دور مصر الريادي من الساحة العربية والإفريقية ٢- تأثرها بالثورة التونسية
- ١- تدهور الأوضاع الاقتصادية ٢- سوء الأوضاع الاجتماعية ٣- سوء الأحوال الصحية والخدمات والتطعيمية
- ٤- فساد النظام السياسي والإداري بسبب ٥- استمرار العمل بقانون الطوارئ ٥- بمشروع التوريث.

٤٦- **تشكيل المصريين اللجان الشعبية أثناء ثورة ٢٥ يناير ؟**

- ١- حماية المنشآت والمناطق المحيطة بها ٢- مواجهة أعمال السرقة والحرق والترويع

٤٧- **الاستعانة بالجيش المصري أثناء ثورة ٢٥ يناير ؟**

- ١- حماية أمن الممتلكات العامة والخاصة ٢- المحافظة على أمن المواطنين.

٤٨- **كان الجيش المصري الضامن لثورة ٢٥ يناير ٢٠١١ م ؟**

لان الجيش كان قوة مساندة للشعب وليس اداة لقمع المتظاهرين وإجهاض الثورة .

٤٩- **أهمية يوم ١١ فبراير ٢٠١١ م في حياة الشعب المصري ؟**

لانه اليوم الذي تخلى فيه الرئيس الأسبق مبارك عن الرئاسة وسلم إدارة شئون البلاد للمجلس العسكري.

٥٠- **قيام ثورة ٣٠ يونية ٢٠١٢ م ؟**

- ١- بسبب عدم تقبل الشارع المصري للتغيرات السياسية بعد ثورة يناير. ٢ - واستمرار سوء الاحوال الاقتصادية

٥١- **إعلان القوات المسلحة ببيان ٢٣ يونية ٢٠١٢ م ؟** بسبب تطور الأحداث في البلاد وحفاظاً على الأمن العام للدولة .

٥٢- **سوء الأوضاع الإضاع الاجتماعية قبل ثورة ٢٥ يناير ٢٠١١ م.**

بسبب زيادة الفوارق الاجتماعية وفقدان العدالة في توزيع الثروات

٥٣- **تدهور الأوضاع الاقتصادية في مصر قبل ثورة ٢٥ يناير ٢٠١١ م ؟**

بسبب تطبيق سياسة الانفتاح الاقتصادي دون ضوابط علمية / والتطبيق غير السليم لسياسة الخصخصة.

٥٤- **تقديم الولايات المتحدة لمبادرة روجرز ؟** لوقف إطلاق النار بين مصر وإسرائيل في حرب الإستنزاف تمهيداً لحل النزاع سلمياً

٥٥- **إغلاق مصر خليج العقبة في وجه الملاحة الإسرائيلية ١٩٦٧ م؟** إككاماً للحصار الاقتصادي الذي يفرضه العرب على إسرائيل.

٥٦- **وقوف مصر إلى جانب سوريا عام ١٩٦٧ م.** تطبيقاً لاتفاقية الدفاع المشترك بينهما .

٥٧- **إحداث ثغرة في منطقة الدفرسوار.** ؟ بسبب تقديم الولايات المتحدة معلومات عسكرية لإسرائيل .

بم تفسر لخص دور بارز في خدمته قضايا الأمم المتحدة؟

شاركت مصر في الانشطة المختلفة للامم المتحدة كما شاركت بجنودها في قوات حفظ السلام الدولي

شغل الدكتور بطرس غالي منصب الامين العامة في الفترة من يناير ١٩٩٢م حتى ٣١ ديسمبر ١٩٩٦م

ما النتائج المترتبة على

١- توقيع معاهدة ١٩٢٦ م

- ١- أدى إلى جعل مصر ميدان لمعارك الحرب العالمية الثانية واستنزاف موارد البلاد لخدمة بريطانيا
- ٢- أرهقت الحرب الاقتصاد المصري وزادت معاناة الشعب

٢- توقيع مصر لاتفاقية الجلاء في أكتوبر ١٩٥٤م

أدى إلى جلاء القوات البريطانية عن مصر بعد احتلال ٧٤ عاماً

٣- الانتداب البريطاني على فلسطين ١٩٢٠م

(قيام بريطانيا بتسليم وعد بالفور ١٩١٧م)

- ١- سمحت بريطانيا بهجرة أعداد كبيرة من اليهود إلى فلسطين
- ٢- السماح بانتقال ملكية الأراضي من عرب فلسطين إلى اليهود عن طريق الشراء
- ٤- عقد مؤتمر سان ريمو ١٩٢٠ م - اعطى لبريطانيا حق الانتداب على فلسطين

٥: عرض القضية الفلسطينية على الأمم المتحدة عام ١٩٤٧م

اصدرت قرارها بتقسيم فلسطين إلى ثلاثة أقسام:

- ١- دولة عربية
- ٢- دولة يهودية
- ٣- وضع القدس تحت إدارة دولية

٦- حرب فلسطين ١٩٤٨م

- أ- استولت إسرائيل على كل فلسطين ما عدا : أ- قطاع غزة : تحت إدارة مصرية
- ب- الضفة الغربية : بها قوات أردنية جم القدس : وقسمت بين العرب واليهود

٧- تقسيم فلسطين عام ١٩٤٧م

- ١: وافقت الأمم المتحدة على تقسيم فلسطين إلى دولة عربية - دولة يهودية - منطقة دولية (القدس)
- ٢: رفض العرب القرار ووافق اليهود وقامت العصابات اليهودية بطرد العرب من ديارهم وارتكبت إبشع المذابح مثل مذبح دير ياسين وإمتعت بريطانيا عن التصويت

٨- مساندة مصر ثورة الجزائر ضد الاحتلال الفرنسي

أدى ذلك لاشتراك فرنسا في العدوان الثلاثي على مصر

٩- العدوان الثلاثي على مصر عام ١٩٥٦م

- ١- انسحاب إنجلترا وفرنسا من بورسعيد ٢٣ ديسمبر ١٩٥٦م.
- ٢- انسحاب إسرائيل من غزة وسيناء ووضع قوات طوارئ دولية بين مصر وإسرائيل عام ١٩٥٧
- ٣- أدرك العرب خطر إسرائيل وإطاعها في المنطقة فقامت الوحدة بين مصر وسوريا عام ١٩٥٨

١٠- عدوان ٥ يونيو ١٩٦٧م

- ١- استولت إسرائيل على غزة والضفة الغربية لنهر الأردن والقدس العربية.
- ٢- استولت إسرائيل على سيناء من مصر.
- ٣- استولت إسرائيل على هضبة الجولان من سوريا

١١- معركة رأس العنق ١٩٦٧م

أدى إلى نجاح القوات المصرية في تكبيد القوات الإسرائيلية خسائر فادحة وإجبارها على الإلتحاب من مدينة بور فؤاد

١٢- النتائج والدروس المستفادة من حرب أكتوبر ١٩٧٣م

إنهاء حالة الأسلم واللاحرب - القضاء على اسطورة الجيش الإسرائيلي الذي لا يقهر
تقويض أسس العقيدة القتالية للقوات الإسرائيلية- إنتهاء نظرية الأمن الإسرائيلي الخاصة بالنسبة لسيناء

١٣- العمليات العسكرية على الجبهة المصرية ١٩٧٣م

- ١- بناء معابر على طول قناة السويس .
- ٢- عبور القوات لشرق القناة ورفع العلم المصري عليها
- ٣- تحطيم أعداد كبيرة من الطائرات والمعدات العسكرية الإسرائيلية.

١٤- مبادرة الرئيس السادات بزيارة إسرائيل عام ١٩٧٧م

- ١- نادى بالسلام العادل لكل الشعوب
- ٢- مهد الطريق امام إسرائيل للقبول بمبدأ التفاوض بين الاطراف المهمة بالقضية

- ١٥- **عقد مؤتمر كامب ديفيد في ٥ سبتمبر ١٩٧٨** تم التوصل الى إطار اتفاق للسلام بين مصر واسرائيل.
- ١٦- **عقد معاهدة السلام بين مصر وإسرائيل ١٩٧٩ م** ؟
 أدى إلى ١- انسحاب إسرائيل الكامل من سيناء . ٢- إنهاء حالة الحرب بين مصر وإسرائيل.
 ٣- أثرة ردود أفعال داخلية وعربية ودولية
- ١٧- **عرض قضية طابا على التحكيم الدولي ١٩٨٨** ؟
 ١- اصدرت هيئة التحكيم حكمها لصالح مصر ١٩٨٨ م ٢- عادت طابا إلى السيادة المصرية مارس ١٩٨٩ م.
- ١٨- **صدور دستور ١٩٥٦ م** ؟ نص على أن السلطة التشريعية تكون في يد مجلس منتخب هو مجلس الأمة
- ١٩- **غياب دور مصر الريادي عن الساحة العربية والأفريقية** ؟
 أ- فتح باب التداخلات الأجنبية في المنطقة ب- فقدان الثقة في القوى الغربية ووقوفها بجانب إسرائيل
- ٢٠- **ثورة ٢٣ يوليو ١٩٥٢ على الحياة النيابية** ؟
 قامت الثورة بالغاء دستور ١٩٢٣ وحل الاحزاب السياسية التي كانت قائمة قبل الثورة ووضع دستور ١٩٥٦ م وانتخاب مجلس الأمة في ٢٣ يوليو ١٩٥٧ م.
- ٢١- **ثورة ٢٣ يوليو في المجال الزراعي** ؟ التوسع في استصلاح الاراضي الصحراوية- انشاء السد العالي وانجازة عام ١٩٧١
- ٢٢- **ثورة ٢٣ في المجال الصناعي** ؟
 انشأت العديد من المصانع منها الحديد والصلب في حلوان والاسمدة باسوان- الاهتمام بالتعليم الصناعي ومراكز التدريب المهني البحث والتلقيب عن البترول وانشاء معامل تكرير البترول
- ٢٣ - **ثورة ٢٣ يوليو في مجال التجارة** ؟
 ١- فتحت اسواق خارجية جديدة ٢- قامت بتمصير البنوك وشركات التأمين وشركات التصدير والاستيراد
- ٢٤- **ثورة ٢٣ يوليو في المجال الاجتماعي** ؟
 القضاء على الاقطاع عن طريق: اصدار قانون الاصلاح الزراعي الاول سبتمبر ١٩٥٢ الذي حدد الملكية الزراعية ب ٢٠٠ فدان، ثم صدرت قوانين اصلاح زراعي اخرى حددت الملكية في النهاية ب ٥٠ فدان
 اقامة عدالة اجتماعية عن طريق: جعل التعليم بالمجان في جميع مراحلته • تحلبد ساعات العمل واشراك العمال في مجالس ادارة الشركات والمصانع وتخصيص نسبة لهم من الارياح - اصدار قوانين التامينات الاجتماعية منحت المرأة حق الانتخاب والترشح لمجلس الأمة عام ١٩٥٦
- ٢٥- **ثورة ٢٣ يوليو في المحيط العربي** ؟
 مساندة الشعب الفلسطيني في اقامة دولة مستقلة عاصمتها القدس - وحدث الجهود العربية لصالح حركات التحرر الوطني اقامت وحدة مع سوريا عام ١٩٥٨- عقدت اتفاقا ثلاثيا مع السعودية وسوريا
- ٢٧- **ثورة ٢٣ يوليو في المجال الدولي** ؟
 كسر احتكار السلاح العالمي صفقة الاسلحة الشرقية عام ١٩٥٥- دعت لعقد مؤتمر لتضامن الشعوب الافريقية والاسيوية في القاهرة ١٩٥٨- ساندت الدول الافريقية في الاستقلال- ساهمت في تشكيل حركة عدم الانحياز عام ١٩٥٥ في مؤتمر بانديونج بانديونيسيا.
- ٢٨- **قيام ثورة ٢٥ يناير ٢٠١١ م** ؟
 أدى إلى ١- تخلي الرئيس مبارك عن الرئاسة في ١١ فبراير ٢٠١١ م .
 ٢- تسليم إدارة شئون البلاد للمجلس الأعلى للقوات المسلحة. ٣- بداية الإصلاح السياسي .
- ٢٩- **حدوث اضطراب أصنى أثناء أحداث ثورة ٢٥ يناير ٢٠١١ م** ؟
 أدى إلى - قيام المجتمع المصري بتشكيل اللجان الشعبية - الإستعانة بالقوات المسلحة .
- ٣٠- **ثورة ٣٠ يونية ٢٠١٢** ؟ أدى إلى عزل الرئيس محمد مرسى في ٣ يوليو ٢٠١٣ م وتسليم السلطة للمستشار عدلى منصور
- ٣١- **الصراعات الحزبية في الفترة من عام ١٩٢٣-١٩٥٢م** ؟ أدى إلى - ضعف الأحزاب السياسية - عدم الاستقرار السياسي

ماذا يحدث إذا.....؟

- ١- لم تقم بريطانيا بإصدار وعد بلفور ١٩١٧ م ؟
- لم تسعى بريطانيا لإقامة وطن قومي لليهود في فلسطين ولم تسمح لهم بالهجرة أو إنتقال ملكية الأرض لهم في فلسطين .
- ٢- انهزم العرب في حرب أكتوبر ١٩٧٣ م ؟ لم يتم إستعادة شبه جزيرة سيناء.
- ٣- وافقت إسرائيل على قرار مجلس الأمن ٢٤٢ عام ١٩٦٧م ؟ تنسحب إسرائيل من الأراضي العربية ولم تقم حرب أكتوبر
- ٤- انتصرت مصر في حرب يونيو ١٩٦٧م ؟ عدم تمكن إسرائيل من إحتلال الأراضي العربية.
- ٥- لم يقوم الرئيس السادات بزيارة إسرائيل ؟ لم يتم فتح الطريق أمام إسرائيل للقبول بالتفاوض ولم تتم معاهدة السلام .
- ٦- لم يتم عقد مؤتمر مدريد للسلام ١٩٩١م ؟ لم يتم السعي لحل النزاع العربي الإسرائيلي في ضوء مبدأ الأرض مقابل السلام
- ٧- لم يتضامن الجيش مع الشعب في ثورة يناير ٢٠١١م ؟ لم يصيح الضامن لثورة ٢٥ يناير وربما كانت فشلت الثورة .
- ٨- لم تتعاون منظمة اليونسكو مع مصر ؟ لم يتم إنفاذ معاهد أبوسمبل من الفرق عام ١٩٦٤م ولم يتم إحياء مكتبة الإسكندرية.
- ٩- لم يتخلى مبارك عن الحكم ؟ لم يتم تسليم السلطة إلى المجلس الأعلى للقوات المسلحة ولم يبدأ الإصلاح السياسي.
- ١٠- لم تتصارع الأحزاب السياسية في مرحلة ما بعد ثورة ١٩١٩م ؟ لم تضعف الأحزاب السياسية ويحدث استقرار سياسي

دلل على صحة العبارات الآتية ؟

- ١- فساد النظام الملكي قبل ثورة ٢٣ يوليو ١٩٥٢م .
حيث أ- استبداد الملك فاروق بالحكم. ب- نزوات الملك وقبول الرشاوى ج- إساءة حاشية الملك التصرف.
- ٢- اتخذت إنجلترا عدة إجراءات لتنفيذ وعد بلفور.
حيث قامت ب- أ- السماح بهجرة أعداد كبيرة من اليهود إلى فلسطين. ب- السماح بانتقال ملكية الأرض لليهود.
- ٣- رفض الشعب الفلسطيني لإجراءات تنفيذ وعد بلفور.
حيث قام ب- : - انتفاضة ١٩٢٩م. - ثورة ١٩٣٦م. - ثورة ١٩٣٩م.
- ٤- تعددت صور الاستعداد لحرب أكتوبر ١٩٧٣م . حيث تم إعداد وتهيئة :
أ- الجبهة الداخلية (رفع الرقابة عن الصحف- إصدار الدستور الدائم ١٩٧١م - إلغاء الحراسات والإجراءات المقيدة للحريات - القضاء على مراكز القوى) ب- الجبهة العربية (تصفية الخلافات وتوحيد الصف العربي - الاستفادة من كل الموارد العربية المتاحة).
- ٥- تشابه الدفاعات الإسرائيلية في كل من الجبهتين المصرية والسورية أثناء حرب أكتوبر ١٩٧٣م .
حيث أقامت خط ألوان على الجبهة السورية والذي يمثل خط برليف على الجبهة المصرية .
- ٦- أنهت حرب أكتوبر ١٩٧٣م نظرية الأمن الإسرائيلي.
حيث أثبتت أن الموانع الطبيعية والصناعية لا تقف حائلاً أمام الجيوش الحديثة بما لديها من تجهيزات.
- ٨- تتعدد أنشطة منظمات المجتمع المدني.
حيث تقوم ب- ١- تغليب المواطنين وتعريفهم بالحقوق السياسية. ب- توضيح علاقة المواطن بالدولة. ج- توفير مناخ يحقق الوحدة الوطنية. د - تدعيم السياسة العامة للدولة ومواقفها من القضايا الدولية .
- ٩- أهمية محكمة العدل الدولية :

حيث تعد الجهاز القضائي الأساسي للأمم المتحدة - ويقدم الاستشارات للهيئات الدولية

التواريخ الهامة

١٩١٧	صدور تصريح وعد بلفور	١٩٢٠	مؤتمر سان ريمو بإيطاليا
١٩٤٧	عرض إنجلترا القضية الفلسطينية على الأمم المتحدة	١٤ مايو ١٩٤٨م	انتهاء الانتداب البريطانى على فلسطين
سبتمبر ١٩٥٢	اصدار قانون الاصلاح الزراعى الاول	ديسمبر ١٩٥٢م	الغاء دستور ١٩٢٣م
يناير ١٩٥٣	حل الاحزاب السياسية	يونيو ١٩٥٣م	الغاء الملكية واعلان الجمهورية
اكتوبر ١٩٥٤	توقيع اتفاقية الجلاء بين مصر وبريطانيا		
١٩٥٥	مؤتمر بالدونج بالدونج بالدونج وتأسيس حركة عدم الانحياز		
١٩٥٦	صدور اول دستور للبلاد عقب ثورة يوليو ١٩٥٢م - منح المرأة حق الانتخاب والترشح لمجلس الامة		
يونيو ١٩٥٦	رحيل القوات الانجليزية عن مصر (عيد الجلاء)	اكتوبر ١٩٥٦م	العدوان الثلاثى على مصر
ديسمبر ١٩٥٦	انسحاب القوات الانجليزية والفرنسية من بور سعيد (العيد القومى للمحافظة ٢٣ ديسمبر)		
١٩٥٧	انسحاب القوات الاسرائيلية من سيناء وقطاع غزة		
١٩٥٨	الوحدة بين مصر وسوريا (الجمهورية العربية المتحدة)	١٩٦١م	انفصال الوحدة بين مصر وسوريا
مايو ١٩٦٧	اغلاق مصر خليج العقبة فى وجه الملاحة الاسرائيلية		
اكتوبر ١٩٦٧	تجاح القوات المصرية فى تدمير المدمرة الاسرائيلية ايلات		
نوفمبر ١٩٦٧	صدور قرار مجلس الامن رقم ٢٤٢ بانسحاب اسرائيل من الاراضى التى احتلتها فى حرب ١٩٦٧م		
سبتمبر ١٩٧١	صدور دستور مصر الدائم - بناء السد العالى	مارس ١٩٧٩	معاهدة السلام بين مصر واسرائيل
٢٥ ابريل ١٩٨٢	انسحاب اسرائيل من سيناء ما عدا طابا	سبتمبر ١٩٨٨	قرار التحكيم الدولى بعودة طابا لمصر
١٩٩١	عقد مؤتمر مدريد للسلام	مارس ١٩٨٩	عودة طابا الى السيادة المصرية
سبتمبر ١٩٩٣	اتفاقية اوسلو بين اسرائيل ومنظمة التحرير الفلسطينية	يناير ٢٠١٤	الدستور الجديد بعد ٣٠ يونيو ٢٠١٣م

مكتبة ومطبعة السفير بيني مزار
ش الاعدادية بنات 01111490774